

令和5年度入学試験問題

受験上の注意

1. 監督の指示により、解答用紙に受験番号(算用数字)、氏名、フリガナ、解答する科目を記入し、受験番号、該当する試験日、解答する科目をマークしてください。記入については解答用紙の注意事項に従ってください。
2. 問題冊子の解答番号と解答用紙の番号を間違えないように注意してください。
3. 科目およびページは、次のとおりです。試験開始の合図があったら、まず受験する科目のページ数を確認してください。

| 科 目 | ペ ー ジ |
|-------|-------|
| 日 本 史 | 2～13 |
| 世 界 史 | 14～27 |
| 地 理 | 28～48 |
| 政治・経済 | 50～62 |

4. 受験票を試験時間中は、机上の受験番号の下に呈示しておいてください。
5. 質問、その他用件があるときは、手を上げて合図してください。
6. 試験時間中の退場は認めません。
7. 試験時間は地理歴史・公民と国語で80分です。
8. この問題冊子は持ち帰ってください。

開始の合図があるまで開かないでください

政治・経済

〔 I 〕 次の文は、2022年の夏休み後になされた立子と正夫の会話である。これを読み、以下の問1～問10に答えなさい。解答番号は ～

立子：夏休みはどうだった？ どこか旅行にでも行った？

正夫：いやそれがさ、旅行に行く予定だったのに、コロナに感染しちゃって全部キャンセルよ。で結局、お盆休みは寝て過ごしました。

立子：あら、それは残念だったね。で、コロナの症状はもう大丈夫なの？

正夫：幸い、後遺症は出なくて助かったよ。でも、熱が出ているときは結構しんどかったな。今は憲法第25条にいう「^a健康で文化的な最低限度の生活」のありがたみを感じるね。

立子：やっぱり重症化するおそれもあるし、今後も^b新型コロナウイルス感染症への対応はまだ重要だね。

正夫：コロナ対策は人命を守るためのものだけど、他方でコロナ対策のやりすぎによる人権侵害にも注意が必要だよな。そもそも、^c歴史的な過ちがあったことを反省して、感染症対策の基本を人権保障に置くというのが今の法制度の考え方だ、という基本は忘れてはいけないよね。ところで立子さんの夏はどうだったの？

立子：基本、インドアで過ごしたのが多かったかな。BSで1970年公開の映画「ひまわり」を見たのが印象的ね。

正夫：ああ、あのマンシーニの曲で有名な。イタリアの新婚夫婦が戦争で離ればなれになる、という話だったっけ？

立子：まあそういう話ね。夫アントニオは^d第二次世界大戦で徴兵されて^eソ連との戦線に送られ、雪の中で瀕死の状態になるも、現地の女性に助けられて、帰国せずにそのままそこで家庭を築いた。だけど妻ジョバンナは夫が活着ていることを信じてイタリアからソ連まで探しに行く、という話ね。画面いっぱい広がるヒマワリ畑の中をジョバンナが歩くシーンが印象的だったわ。

正夫：でも、そのあと2人は再会し、そしてイタリアでも再会して、やっぱり失われた時間は取り戻せないことを確認して、永遠に離れる、という話なんだよね。ヒマワリのシーンで、ストーリー的にはクライマックスでもないように思うんだけど、

なんでそのシーンが映画のタイトルにもなったのかな。

立子：それは多分，そのシーンで話される現地の人々のセリフがヒントかも。「このヒマワリ畑の下には，多くのイタリア兵とソ連兵と地元の農民が埋まっている」という趣旨のセリフなんだけど，多くの人々の人生を奪う戦争の不条理さと，失われた時間の取り返しようのなさを象徴するのが，「ひまわり」なんじゃないかな。

正夫：なるほど，そういう見方もできるかもね。で，そのヒマワリ畑の撮影場所だけども，_f ウクライナのケルソン州にあるんだっけ？

立子：いや実は，最近のNHKの取材によれば，実際の撮影地は_g ウクライナの首都から東に300キロほどのチェルニチー・ヤールという村なんだそうだよ。その取材によれば，映画制作当時のソ連幹部は，戦時中にソ連軍がイタリア人捕虜を飢えや病気で死なせた事実を隠蔽するために，史実としてイタリア兵が派兵されたのとほぼ同じ場所である本当の撮影地を隠そうとしたのではないかとのことだよ。

正夫：今も_h 戦争犯罪の隠蔽がおこなわれているようだよ。

立子：本当に，_i ロシアの指導者は一体何を考えているのだろうか。

正夫：_j 核兵器が使われるおそれすら取り沙汰されているよね。おそろしいよ。

問1 文中の下線部 a を実現するための制度に関する次のAおよびBの記述について，それぞれの正誤の組み合わせとして最も適切なものを，下記①から④の中から一つ選び，マークしなさい。解答番号は

A 住宅扶助は，生活保護法における扶助の一種である。

B 年金保険は，疾病や負傷のときに医療費や生活費の一部を貸与する制度である。

① A：正しい B：正しい

② A：正しい B：誤り

③ A：誤り B：正しい

④ A：誤り B：誤り

問2 文中の下線部bに関連して、感染症の発生およびまん延を防止することが所掌事務に含まれる日本の行政機関の名称として最も適切なものを、下記から一つ選び、マークしなさい。解答番号は

- ① 外務省 ② 財務省 ③ 文部科学省 ④ 厚生労働省

問3 文中の下線部cに関連して、次の文のうちAは、感染症法（感染症の予防及び感染症の患者に対する医療に関する法律）の前文の一部であり、ある感染症対策がこれまでに深刻な人権侵害をもたらしたことに対する反省を述べた箇所である。また、Bは、同じ感染症への対策の一環として行われた強制隔離措置を違憲と判断した熊本地方裁判所の判決（2001年）の判決文の一部である。AおよびBの文中における空欄 にあてはまる用語として最も適切なものを、下記から一つ選び、マークしなさい。解答番号は

A 「一方、我が国においては、過去に ，後天性免疫不全症候群〔エイズ〕等の感染症の患者等に対するいわれのない差別や偏見が存在したという事実を重く受け止め、これを教訓として今後に生かすことが必要である。」

B 「…当時の 医学の状況等に照らせば、新法〔旧・らい予防法〕の隔離規定は、新法制定当時から既に、 予防上の必要を超えて過度な人権の制限を課すものであり、公共の福祉による合理的な制限を逸脱していたというべきである。…〔新薬の登場や に関する国際会議の動向からすれば〕遅くとも昭和35年には、新法の隔離規定は、その合理性を支える根拠を全く欠く状況に至っており、その違憲性は明白となっていたというべきである。」

注) 文中〔 〕は補足、…は省略を表す。

- ① 水俣病 ② ハンセン病 ③ イタイイタイ病 ④ 四日市ぜんそく

問4 文中の下線部dに関する記述として最も適切なものを、下記から一つ選び、マークしなさい。解答番号は

- ① イタリア、日本、ドイツなどは、枢軸国として同盟し、連合国と対抗した。
- ② 戦後、アメリカ大統領ウィルソンは、国際連合の設立を提唱した。
- ③ 戦後、サンフランシスコ講和条約により、日本はソ連と平和条約を締結した。
- ④ 日本は、大戦中も国際連盟に加盟し続けた。

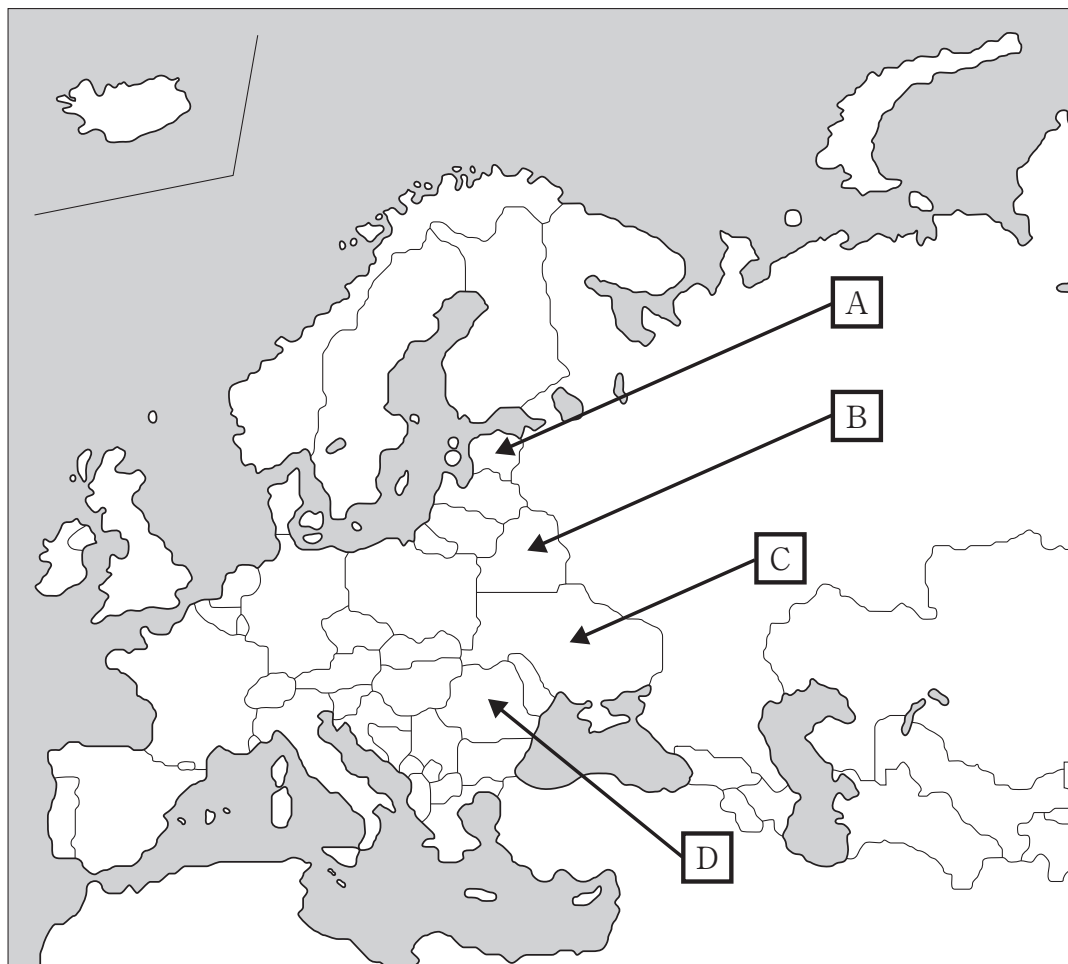
問5 文中の下線部eに関連して、冷戦に関する次のAおよびBの記述について、それぞれの正誤の組み合わせとして最も適切なものを、下記①から④の中から一つ選び、マークしなさい。解答番号は

A 冷戦時代には、アメリカを中心とした西側諸国の北大西洋条約機構(NATO)と、ソ連を中心とした東側諸国のワルシャワ条約機構(WTO)という2つの軍事同盟が対峙した。

B ブッシュ(父)・アメリカ大統領とゴルバチョフ・ソ連書記長の間で開かれた1989年のマルタ会談により、冷戦の終結が宣言された。

- ① A：正しい B：正しい
- ② A：正しい B：誤り
- ③ A：誤り B：正しい
- ④ A：誤り B：誤り

問6 文中の下線部 f に関連して、下の地図における記号 A から D のうち、ウクライナの位置を指し示すものを下記から一つ選び、マークしなさい。解答番号は



出典：外務省ウェブサイト (<https://www.mofa.go.jp/mofaj/area/europe.html>)
を加工して作成

- ① A ② B ③ C ④ D

問7 文中の下線部 g の名称として最も適切なものを、下記から一つ選び、マークしなさい。解答番号は

- ① キーウ (キエフ) ② ハルキウ (ハリコフ)
③ オデーサ (オデッサ) ④ マリウポリ

問8 文中の下線部hに関連して、戦争犯罪などを指導した個人を処罰することを目的の1つとして設置された国際機関の名称として最も適切なものを、下記から一つ選び、マークしなさい。解答番号は

- ① 国連総会
- ② 国連安全保障理事会
- ③ 国連難民高等弁務官事務所
- ④ 国際刑事裁判所

問9 文中の下線部iの政治制度に関する、次のAおよびBの記述について、それぞれの正誤の組み合わせとして最も適切なものを、下記①から④の中から一つ選び、マークしなさい。解答番号は

A 大統領制が採用されつつ、議院内閣制も一部取り入れられている。

B 大統領の任期は2年で、再選は禁止されている。

- ① A：正しい B：正しい
- ② A：正しい B：誤り
- ③ A：誤り B：正しい
- ④ A：誤り B：誤り

問10 文中の下線部 j に関する記述として最も適切なものを，下記から一つ選び，マークしなさい。解答番号は

- ① 1987年に調印された中距離核戦力（INF）全廃条約は，現在も有効である。
- ② 1968年に調印された核拡散防止条約（NPT）は，地下核実験以外の核実験を禁止するための条約である。
- ③ 2017年に採択された核兵器禁止条約（TPNW）には，核保有国や核保有国との同盟国も加盟している。
- ④ 1996年に判断された国際司法裁判所の勧告的意見では，「核兵器による威嚇または使用は一般的に違法」とされている。

〔Ⅱ〕 次の文は、学生と先生が日本経済について会話している場面である。これを読み、以下の問1～問6に答えなさい。解答番号は ～

学生：昔の写真を見るとすごい楽しそうですね。クラブとかディスコとか、今じゃ考えられないですね。

先生：バブルの頃ですね。このバブル経済は1990年頃に崩壊してしまいました。それからというもの日本は経済がほとんど成長しない、いわゆる「」と呼ばれる長期停滞になってしまいました。

学生：経済の成長はどうやって測るんですか？

先生：例えば国の経済規模を測るものに、^a国内総生産というものがあります。国内総生産は一年間に生産される付加価値額の合計であり、生産側・支出側・分配側の3つの側面から観察することができます。

学生：「の原則」というやつですね。

先生：そうです。この国内総生産の増加や減少を見て、経済の成長や衰退、停滞を議論します。

学生：つまり日本ではこの国内総生産があまり増加しなかったということですね？

先生：その通りです。1990年から新型コロナウイルス感染症が拡大する前である2019年まで、実質成長率は平均してたったの0.9%でした。

学生：全然成長していないですね。何か対策はされなかったのですか？

先生：もちろん政府や日銀はいろいろと対策を打ちました。国債を起債して、^b財政政策をおこなったり、規制緩和や、^c金融政策をおこなったりもしました。しかし、様々な要因によりうまくいきませんでした。

学生：例えばどんなことがあったんですか？

先生：例えば1997年には「通貨危機」や「銀行の破綻」、橋本龍太郎内閣による「」といった出来事がありました。また、^dアメリカやヨーロッパを原因とする経済危機が21世紀に入ってから生じたりもしました。

学生：そういえばヨーロッパの経済危機の話は聞いたことがあります。ヨーロッパの景気もあまりよくないという話を聞きます。それにしても日本で銀行が破綻したこ

とがあったんですね。

先生：有名なところだと、北海道拓殖銀行でしょうか。

学生：銀行はなぜ破綻するんですか？

先生：いくつか要因がありますが、例えばある企業の業績が悪化すると、それまでその企業に銀行が貸していた資金が返ってくる見込みがなくなり になるので銀行の負担になります。また、銀行の資金繰りが悪化してしまい破綻が生じてしまいます。これを解決するのに日本では何年もかかりました。

学生：そうだったんですね。

先生：e バブルの崩壊から日本経済には様々なことが起こりました。 これらの出来事に対して様々な角度から分析がなされ、対応策が実施されてきましたが、成長力の強化にはまだ道半ばであると言えるのです。

問1 文中の空欄 ～ に入る最も適切なものを、下記の語群からそれぞれ一つ選び、マークしなさい。解答番号は ～

〔語 群〕

- | | | |
|-----------|-------------|---------|
| ① 狂乱物価 | ② 消費税増税 | ③ 消費税導入 |
| ④ 全面一致 | ⑤ アジア | ⑥ 貸しはがし |
| ⑦ 貸し渋り | ⑧ パラダイス・ロスト | ⑨ キューバ |
| ⑩ 失われた10年 | ⑪ 湾岸 | ⑫ 不良債権 |
| ⑬ 三位一体 | ⑭ 農地改革 | ⑮ プラザ |
| ⑯ 石油危機 | ⑰ デリバティブ | ⑱ 景気循環 |
| ⑲ 暗黒の1世紀 | ⑳ 三面等価 | |

問2 文中の下線部 a に関連して、下の表は2018年・2019年・2020年の民間最終消費支出、政府最終消費支出、総資本形成（投資）、財貨・サービスの純輸出および国内総生産について名目額と実質額をそれぞれまとめたものである。この表について述べたものとして最も適切なものを、下記から一つ選び、マークしなさい。解答番号は 66。なお、表中の数値は簡略化の目的から整数値で表しているため必ずしも合計値は一致しない。

| | 国内総生産（支出面）（1兆円単位） | | | | | |
|-------------|-------------------|------|------|--------------|------|------|
| | 名目額 | | | 実質額（2015年価格） | | |
| | 2018 | 2019 | 2020 | 2018 | 2019 | 2020 |
| 民間最終消費支出 | 305 | 305 | 289 | 303 | 301 | 285 |
| 政府最終消費支出 | 109 | 111 | 113 | 108 | 111 | 113 |
| 総資本形成 | 142 | 144 | 137 | 141 | 141 | 134 |
| 財貨・サービスの純輸出 | 0 | -2 | -1 | 3 | 0 | -5 |
| 国内総生産 | 556 | 558 | 538 | 554 | 553 | 528 |

（内閣府『国民経済計算』より作成）

- ① 2018年から2019年にかけての名目GDP成長率は、同期間における実質GDP成長率よりも低い。
- ② 2019年から2020年にかけての名目GDP成長率と実質GDP成長率は、どちらもプラス値である。
- ③ 2019年と2020年における財貨・サービスの名目輸出額は、ともに名目輸入額を超えている。
- ④ 2019年と2020年におけるGDPデフレーターは、それぞれ前年と比較して上昇している。

問3 文中の下線部bに関連して、図1は日本の一般会計歳入決算を、図2は一般会計歳出決算を表している。これらの図から読み取れるものとして最も適切なものを、下記から一つ選び、マークしなさい。解答番号は 67。なお、図1中に記載されている金額はその会計年度の決算額である。また、図中の数値は小数第2位を四捨五入している。

図1 一般会計・歳入

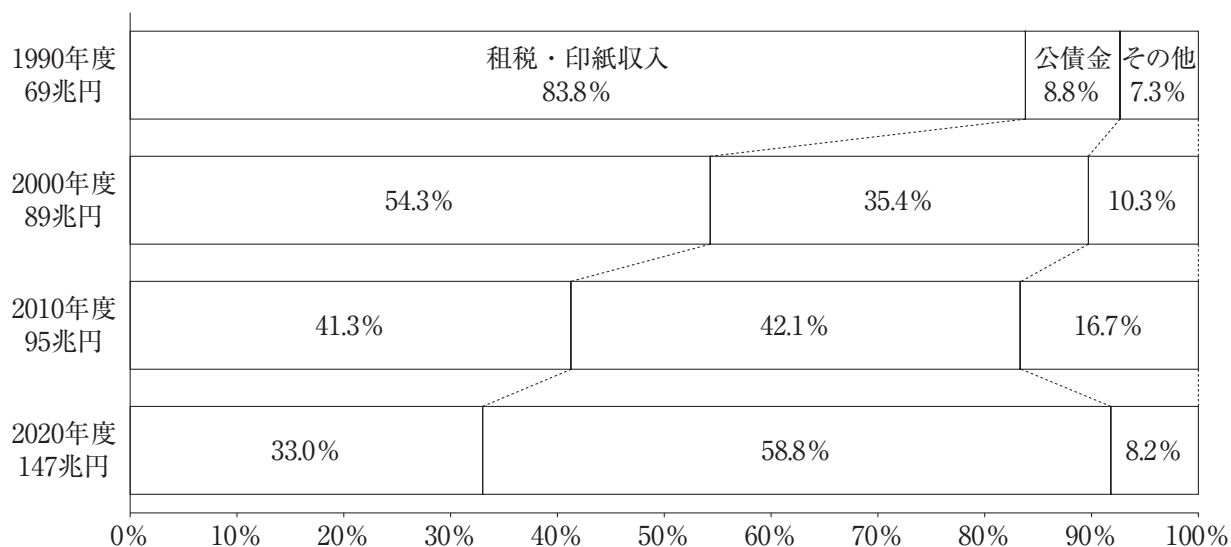
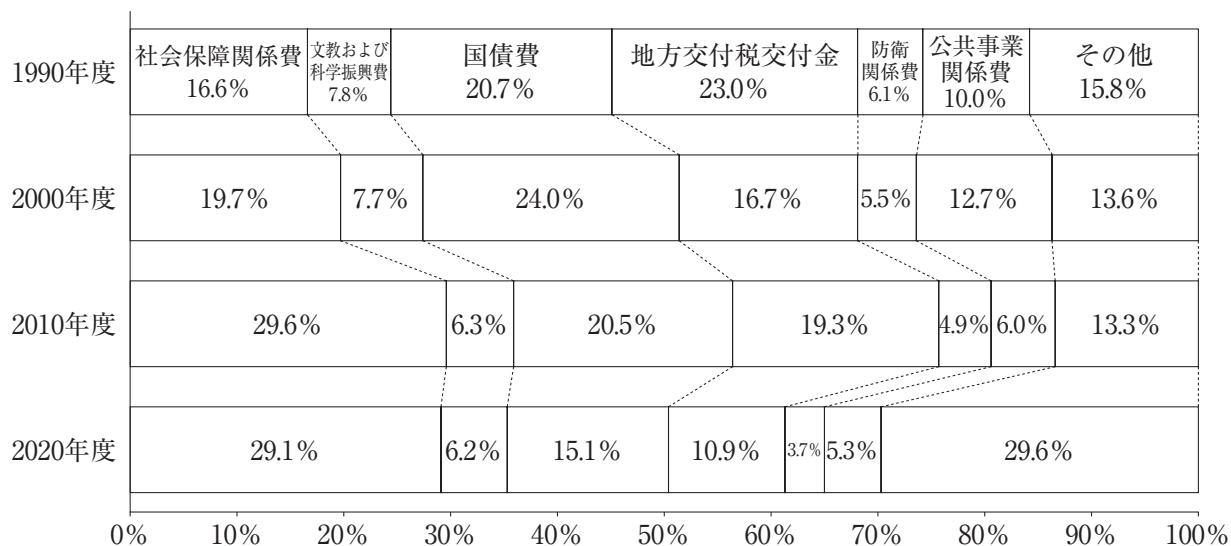


図2 一般会計・歳出



(財務省『財務統計』より作成)

- ① 1990年度の基礎的財政収支は黒字であった。
- ② 2020年度の社会保障関係費は以前の年度と比較して歳出額が減少した。
- ③ 2000年度以降、防衛関係費は5兆円を超えている。
- ④ 1990年度以降、租税・印紙収入の額は減少し続けている。

問4 文中の下線部cに関連して、日本銀行がこれまでに実施した政策に関する記述として適切でないものを、下記から一つ選び、マークしなさい。解答番号は 68

- ① 日本銀行は、金融機関の倒産によって金融市場の混乱が生じたことから、市場の不安を取り除くために、財政投融资を実施した。
- ② 日本銀行は、金融緩和を推し進めるために、金融機関の保有する日本銀行当座預金の一部にマイナスの利子率の付与を実施した。
- ③ 日本銀行は、公定歩合ではなく無担保コールレートを0%に限りなく近づける、ゼロ金利政策を実施した。
- ④ 日本銀行は、2013年から操作目標をマネタリーベースの増加量として、物価上昇率の目標値の達成を目指して金融緩和を実施した。

問5 文中の下線部dに関連して、下の表は2000年以降に生じた経済に大きな影響を及ぼした主な出来事を時系列で表したものである。X、Y、Zに当てはまるものの組み合わせとして最も適切なものを、下記から一つ選び、マークしなさい。解答番号は 69

| 年 | 出来事 |
|------|--------------------|
| 2000 | ITバブル崩壊 |
| ↓ | X |
| | Y |
| | Z |
| 2020 | 新型コロナウイルス感染症の世界的流行 |

- ① X：サブプライムローン問題， Y：リーマン・ショック， Z：ギリシャ財政危機
- ② X：サブプライムローン問題， Y：ギリシャ財政危機， Z：リーマン・ショック
- ③ X：リーマン・ショック， Y：サブプライムローン問題， Z：ギリシャ財政危機
- ④ X：リーマン・ショック， Y：ギリシャ財政危機， Z：サブプライムローン問題
- ⑤ X：ギリシャ財政危機， Y：サブプライムローン問題， Z：リーマン・ショック
- ⑥ X：ギリシャ財政危機， Y：リーマン・ショック， Z：サブプライムローン問題

問6 文中の下線部 e に関連して、バブル崩壊以降に起こった出来事の記述として適切でないものを、下記から一つ選び、マークしなさい。解答番号は

- ① 小泉内閣は道路公団や郵政の民営化といった構造改革を進めた一方で、経営の悪化した企業の再生をはかるために産業再生機構を設立した。
- ② ペイ・オフとは銀行が破綻した際に預金保険法によって保護された預金を支払うことだが、2010年の日本振興銀行の破綻に際して初めて発動された。
- ③ 金融機関の検査・監督を強化するために、金融監督庁と旧大蔵省の金融制度の企画立案部門が統合されて金融庁が設立された。
- ④ 第2次安倍内閣はデフレから脱却するために、「新しい資本主義」をスローガンにした脱成長と緊縮財政を柱とするアベノミクスと呼ばれる経済再建策を実施した。