

## 令和6年度入学試験問題

### 受験上の注意

1. 監督の指示により、解答用紙に受験番号(算用数字)、氏名、フリガナ、解答する科目を記入し、受験番号、該当する試験日、解答する科目をマークしてください。記入については解答用紙の注意事項に従ってください。
2. 問題冊子の解答番号と解答用紙の番号を間違えないように注意してください。
3. 科目およびページは、次のとおりです。試験開始の合図があったら、まず受験する科目のページ数を確認してください。

科目	ページ
日本史	2～12
世界史	14～29
地理	32～47
政治・経済	48～63

4. 受験票を試験時間中は、机上の受験番号の下に呈示しておいてください。
5. 質問、その他用件があるときは、手を挙げて合図してください。
6. 試験時間中の退場は認めません。
7. 試験時間は地理歴史・公民と国語で80分です。
8. この問題冊子は持ち帰ってください。

**開始の合図があるまで開かないでください**

## 政治・経済

〔 I 〕 次の文は、2023年の夏休み終了直後のものである。これを読み、以下の問1～問10に答えなさい。解答番号は  ～

コウジ：夏休みに広島市の平和記念公園へ行ってきたよ。

サチオ：その公園は、広島市の平和記念式典の会場としても使われているんだよね。式典は1947年に始まり、<sup>a</sup>1950年に連合軍総司令部（GHQ）の意向で中止されたもの、翌年から再開されて現在まで続いているよ。また、<sup>b</sup>1955年の第1回原水爆禁止世界大会の会場が広島で、その参加者の多くが平和記念式典にも出席したそうだよ。

コウジ：平和記念公園内の広島平和記念資料館にも行って、被爆資料、遺品、証言などの展示をじっくり見たよ。あらためて原爆による悲惨な被害を確かめられた。

サチオ：広島への<sup>c</sup>原爆投下の適法性が日本の裁判で争われたことがあるのを知っている？ その裁判の判決では、「原子爆弾による爆撃は、無防衛都市に対する無差別爆撃として、当時の国際法からみて、違法な戦闘行為であると解するのが相当である」とされたんだ。原爆投下を国際法違反としたのは画期的だったそうだよ。そういえば、なぜ広島へ行ったの？

コウジ：5月に広島で<sup>d</sup>G7サミットが開かれたでしょ。それで興味を持ったんだ。

サチオ：そこでは「核軍縮に関するG7首脳広島ビジョン」が採択されたね。

コウジ：その文書の中では、「ロシアの無責任な核のレトリック、軍備管理体制の毀損及びベラルーシに核兵器を配備するという表明された意図は、危険であり、かつ受け入れられない」として、<sup>e</sup>ロシアが強く批判されているんだ。でも、「我々の安全保障政策は、核兵器は、それが存在する限りにおいて、防衛目的のために役割を果たし、侵略を抑止し、並びに戦争及び威圧を防止すべきとの理解に基づいている」として核兵器保有の正当性すなわち核抑止論が主張されている。しかも、「全ての者にとっての安全が損なわれない形での核兵器のない世界の実現」と述べられていて、無条件の核軍縮には否定的なんだよね。

サチオ：参加国の首脳たちも、コウジが見た広島平和記念資料館の展示を見たんだよね？ その内容が十分に反映されているとは言い難い気がする。<sup>f</sup>日本は唯一の被爆国なんだから、もっとリーダーシップを発揮して積極的な核兵器廃絶に

向けた文書を出せたんじゃない？

コウジ：そういう批判もあるね。でも、外国からみるとそうではないのかもしれない。アメリカの著名な雑誌の表紙に岸田首相が掲載されたとき、「岸田首相は数十年間の g 平和主義を捨て、日本を真の軍事力を持った国にすることを望んでいる」という旨の文章が添えられて話題になったよね。日本政府の抗議でその文章は変更になったけれど、その文章はアメリカの政策関係者や研究者の見解を端的に表しているという見方もあるよ。

サチオ：それに対して、今年の平和記念式典での広島市長による平和宣言は、かなり踏み込んでいたね。「核軍縮に関するG7首脳広島ビジョン」が核抑止論を肯定したことについて、「核による威嚇を行う為政者がいるという現実を踏まえるならば、世界中の指導者は、核抑止論は破綻しているということ直視し、私たちを厳しい現実から理想へと導くための具体的な取組を早急に始める必要があるのではないのでしょうか」と批判していたし。さらに、「日本政府には、被爆者を始めとする平和を願う国民の思いをしっかりと受け止め、h 核保有国と非核保有国との間で現に生じている分断を解消する橋渡し役を果たしていただきたい」と述べたうえで、「一刻も早く核兵器禁止条約の締約国となる」ことが提言されているんだ。i 日本政府はその条約に否定的だけど、2015年の広島市長による平和宣言では、広島市は「核兵器禁止条約の交渉開始に向けた世界的な流れを加速させるために、強い決意を持って全力で取り組みます」と述べられていて、当初からその条約が積極的に評価されているよ。

コウジ：今年の広島市長による平和宣言では、「j 市民社会においては、一人一人が、被爆者の『こんな思いは他の誰にもさせてはならない』というメッセージに込められた人類愛や寛容の精神を共有するとともに、個人の尊厳や安全が損なわれない平和な世界の実現に向け、為政者に核抑止論から脱却を促すことがますます重要になっています」とも述べられていたんだよね。私が平和記念公園に行ったとき、そこには本当にたくさんの外国人が訪れていたんだ。彼／彼女らが広島で体験したことをそれぞれの国に持ち帰って、周囲の人々とその体験を共有してくれれば、と思っているよ。

問1 文中の下線部 a の中止の指示に影響を与えたといわれている、1950年に勃発した戦争として最も適切なものを、下記から一つ選び、マークしなさい。解答番号は

51

- ① 朝鮮戦争
- ② ベトナム戦争
- ③ 湾岸戦争
- ④ イラク戦争

問2 文中の下線部 b が開催されるきっかけとなった事件として最も適切なものを、下記から一つ選び、マークしなさい。解答番号は

52

- ① 免田事件
- ② 第五福竜丸事件
- ③ 三菱樹脂事件
- ④ 『宴のあと』事件

問3 次の文は、文中の下線部cの裁判の判決文の一部である。(出題の都合上、表記や改行を変更したり、省略した箇所がある。省略は……と表記している。)この判決文中の□A□および□B□に入る語句の組み合わせとして最も適切なものを、下記から一つ選び、マークしなさい。解答番号は□53□

不幸にして戦争が発生した場合には、いずれの国もなるべく被害を少なくし、その国民を保護する必要があることはいうまでもない。このように考えてくれば、戦争災害に対しては当然に結果責任に基づく国家補償の問題が生ずるであろう。現に本件に関係するものとしては「原子爆弾被害者の医療等に関する法律」があるが、この程度のもものでは、とうてい原子爆弾による被害者に対する救済、救援にならないことは、明らかである。国家は自らの権限と自らの責任において開始した戦争により、国民の多くの人々を死に導き、傷害を負わせ、不安な生活に追い込んだのである。しかもその被害の甚大なことは、とうてい一般災害の比ではない。被告(注：日本国を指す)がこれに鑑み、十分な救済策を執るべきことは、多言を要しないであろう。しかしながら、それはもはや裁判所の職責ではなくて、□A□府……及び□B□府である内閣において果さなければならない職責である。しかもそういう手続によってこそ、訴訟当事者だけでなく、原爆被害者全般に対する救済策を講ずることができるのであって、そこに□A□及び□A□に基づく□B□の存在理由がある。終戦後十数年を経て、高度の経済成長をとげたわが国において、国家財政上これが不可能であることはとうてい考えられない。われわれは本訴訟をみるにつけ、政治の貧困を嘆かずにはおられないのである。

- ① A：司法 B：立法
- ② A：司法 B：行政
- ③ A：立法 B：司法
- ④ A：立法 B：行政
- ⑤ A：行政 B：司法
- ⑥ A：行政 B：立法

問4 文中の下線部dのメンバーとして適切でないものを、下記から一つ選び、マーク  
しなさい。解答番号は

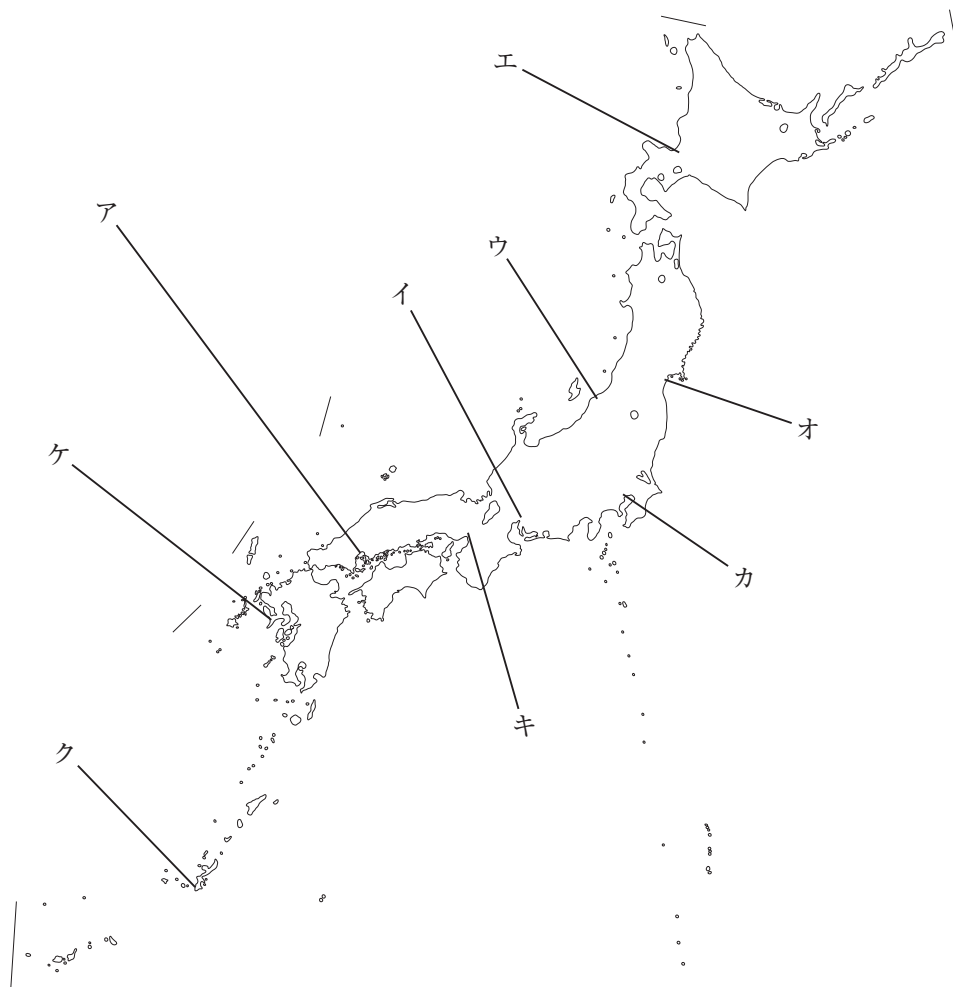
- ① イタリア    ② カナダ    ③ フランス    ④ アメリカ    ⑤ イギリス  
⑥ ドイツ      ⑦ 中国

問5 文中の下線部eに関連して、次の表中の活動を行った機関の組み合わせとして最も適切なものを、下記から一つ選び、マークしなさい。解答番号は

C	核兵器の威嚇または使用は、一般的には国際人道法の原則に反するという勧告的意見を出した。
D	ロシアが占領したウクライナの地域から子どもたちを移送したことが国際法上の戦争犯罪にあたるとして、ロシアのプーチン大統領などに逮捕状を出した。

- ① C：国際刑事裁判所    D：国際刑事裁判所  
② C：国際刑事裁判所    D：国際司法裁判所  
③ C：国際司法裁判所    D：国際司法裁判所  
④ C：国際司法裁判所    D：国際刑事裁判所

問6 文中の下線部fに関連して、原爆が投下された日本の都市の組み合わせとして最も適切なものを、下記から一つ選び、マークしなさい。解答番号は 56



国土地理院HP「地理院地図Vector」より作成

- ① ア, イ    ② ア, ウ    ③ ア, エ    ④ ア, オ    ⑤ ア, カ  
 ⑥ ア, キ    ⑦ ア, ク    ⑧ ア, ケ

問7 文中の下線部gに関連して、次の文は日本国憲法の前文の一部である。この前文中の  に入る文言として最も適切なものを、下記から一つ選び、マークしなさい。解答番号は

日本国民は、恒久の平和を念願し、人間相互の関係を支配する崇高な理想を深く自覚するのであつて、平和を愛する諸国民の公正と信義に信頼して、われらの安全と生存を保持しようと決意した。われらは、平和を維持し、専制と隷従、圧迫と偏狭を地上から永遠に除去しようと努めてゐる国際社会において、名誉ある地位を占めたいと思ふ。われらは、全世界の国民が、ひとしく恐怖と欠乏から免かれ、 を有することを確認する。

- ① 平和のうちに生存する権利
- ② 公務員を選定および罷免する権利
- ③ 健康で文化的な最低限度の生活を営む権利
- ④ 教育を受ける権利

問8 文中の下線部hに関連して、核拡散防止条約（NPT）に加盟している国として適切でないものを、下記から一つ選び、マークしなさい。解答番号は

- ① ロシア
- ② 中国
- ③ インド
- ④ アメリカ



問9 文中の下線部 i に関連して、日本政府が国連における核兵器禁止条約の採択に反対した公式の理由として最も適切なものを、下記から一つ選び、マークしなさい。解答番号は

- ① ロシアなどからの脅威に対抗して、日本は核兵器の開発・実験をおこなっているため。
- ② 核保有国が参加しない形で条約を作るとは、核保有国と非核保有国の亀裂、非核保有国間の離間といった国際社会の分断を一層深め、核兵器のない世界を遠ざけてしまうため。
- ③ 日米安全保障条約の相手方であり核保有国であるアメリカから、条約の採択に賛成しないよう強い圧力を受けたため。
- ④ 広島市長から条約についての理解が得られないところ、原爆が投下された都市の意向は無視できないので、条約が採択されても日本は締約国となる見通しが立たないため。

問10 文中の下線部 j に関連して、次の文は市民社会の礎となったジョン・ロック『統治二論（市民政府二論）』の一部である。この文の意味として最も適切なものを、下記から一つ選び、マークしなさい。解答番号は 

60
----

立法部が…… [国民の生命・自由・財産を思いのままにする絶対的権力をみずから握ろうと試みるか、あるいはそれを、ほかのだれかの手に握らせようと試みるような] 暴挙に出たときには必ず、信託を裏切ったことによって権力を剝奪される。その権力は、もともと国民がまったく別の目的で立法部に預けておいたものなので、国民の手に回収される。なぜなら国民は、本来の自由を取り戻す権利をそなえているからである。そして、（自分たちにとって妥当と思える）新たな立法部を設立することによって、自分たち自身の安全と安心を確保する。

注）文中……は省略，[ ] は補足を表す。

出典：ロック（角田安正訳）『市民政府論』（光文社古典新訳文庫，2011年）

- ① 国家のもとでも各人は自然権を手放すわけではなく、作られた国家・政府が自然権を侵害するようなことがあれば、人々はこれに抵抗し、政府を変更することができる。
- ② 人間は自然状態のままでは、「万人の万人に対する闘争」状態におちいってしまうので、人々は自己保存のために契約を結んで国家を作る。その際、各人は国家の統治者である国王に、人が生まれながらにもっている自然権を委譲すべきである。
- ③ 人間は本来自由・平等で、他人への憐みの心もち、お互いに共存できる性質をもつが、私有財産の発生によってこの状態が保てなくなるので、契約を結んで集合体を作り、自然権をこの集合体に譲り渡す。その代わり人民は集合体の運営に参加する権利をもち、主権は公共の利益の実現を目指す一般意志に基づいて行使される。この主権は代表も分割もされえない。

〔Ⅱ〕 次の文は、学生たちが学校からの帰宅途中に会話をしている様子である。これを読み、以下の問1～問6に答えなさい。解答番号は  ～

なぎさ：最近、ファストフードもコーヒーも高くない？

ほのか：ほんとにね。インフレで生活が大変って親も言った。

なぎさ：うちもそう。<sup>a</sup>税金も高いし、お小遣い減らすって言われた。

ほのか：<sup>b</sup>景気はいいって話なのにね。<sup>c</sup>GDPも上昇しているみたいだし。

なぎさ：あーあ、アルバイト増やそうかなあ。うちの県の  も時給1000円を超えたし、欲しいものもあるし。

ほのか：こんなに物が高いとしょうがないよね。

なぎさ：インフレは金融政策で<sup>d</sup>通貨量が増えていることも関係してるけど、  やサウジアラビアといったOPECの国などが原油の減産をしているからね。

ほのか：原材料の価格が上がっているのは問題だね。  みたいに戦争と原油価格の高騰が同時に起こってるから仕方がない。このときの狂乱物価ほどではないけれど。

なぎさ：まだ生まれていないでしょ……。ただ、新型コロナの買い占め騒動みたいに、歴史の出来事が身近になっている気がするよね。

ほのか：買い占めのときは  が追いつかないから品不足になるんだよね。

なぎさ：<sup>e</sup>企業も対応しようと頑張っていたけど、なかなかうまくいかなかったよね。

ほのか：今後、経済の  化がより進むことでより国同士の関係が密接になるから、似たような感染症が起り得るし、企業だけじゃなくて私たちが対策しないとね。

なぎさ：そうだね。でも今はとりあえず、暑いから、カフェラテでも飲みに行こうよ。

問1 文中の空欄  ～  に入る最も適切なものを，下記の語群からそれぞれ一つ選び，マークしなさい。解答番号は  ～

[語群]

- |             |             |              |
|-------------|-------------|--------------|
| ① キューバ危機    | ② ベネズエラ     | ③ グローバル      |
| ④ ニクソン・ショック | ⑤ モノカルチャー   | ⑥ アメリカ       |
| ⑦ イギリス      | ⑧ リーマン・ショック | ⑨ ノーマライゼーション |
| ⑩ マレーシア     | ⑪ 地球温暖      | ⑫ 国民年金       |
| ⑬ 最低賃金      | ⑭ 補助金       | ⑮ 供給         |
| ⑯ 給付金       | ⑰ 為替レート     | ⑱ 石油危機       |
| ⑲ 需要        | ⑳ 公定歩合      |              |

問2 文中の下線部 a に関連して，次の表は日本の主な租税についてまとめたものである。それぞれの分類に関する記述として適切でないものを，下記から一つ選び，マークしなさい。解答番号は

	直接税	間接税
国税	A	B
地方税	C	D

- ① 所得税はAに属する。
- ② 酒税はBに属する。
- ③ 消費税はCに属する。
- ④ ゴルフ場利用税はDに属する。

問3 下線部bに関連して、図1はある国の実質国内総生産の推移を表している。図2は図1を景気循環の周期、すなわちキチン循環・ジュグラー循環・クズネッツ循環・コンドラチェフ循環の4つに分解したものである。図2のそれぞれの循環に対応する記述として適切なものを、下記からすべて選び、マークしなさい。解答番号は

67

図1 実質国内総生産の推移

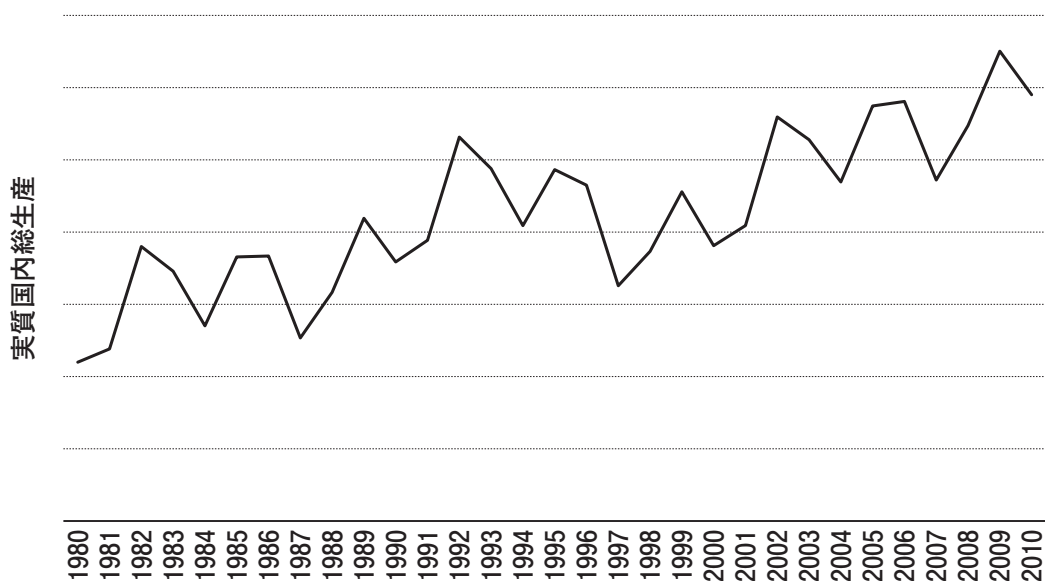
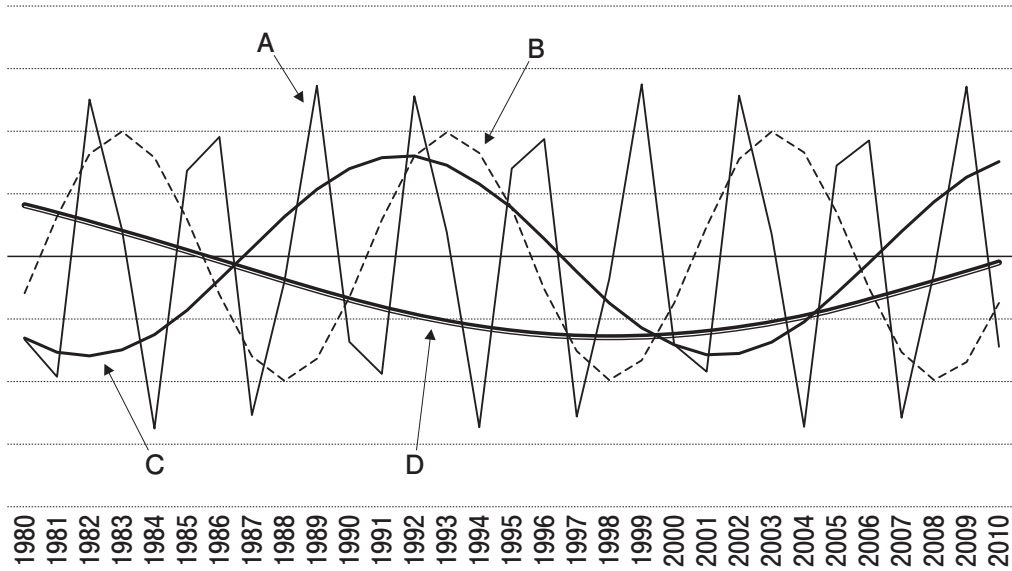
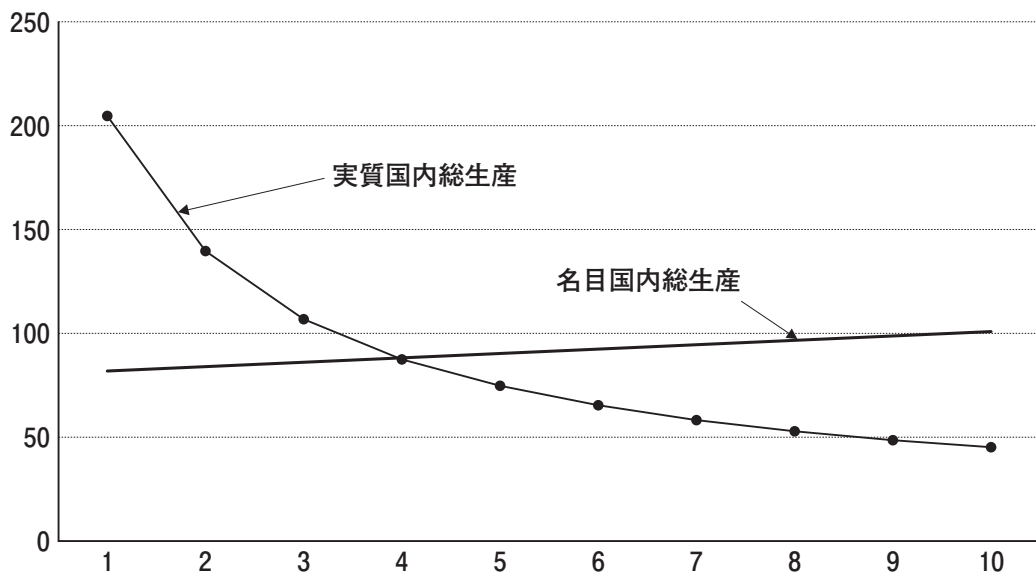


図2 景気循環



- ① Aはキチン循環である。
- ② Bはジュグラー循環である。
- ③ Cはクズネッツ循環である。
- ④ Dはコンドラチェフ循環である。

問4 下線部cに関連して、次の図はある国における国内総生産について、名目額と実質額を第1期から第10期までそれぞれ描いたものである。この図に関する記述として適切でないものを、下記から一つ選び、マークしなさい。解答番号は 68



- ① 実質国内総生産の成長率は名目国内総生産の成長率よりも小さい。
- ② GDPデフレーターを踏まえると、この国は一貫してデフレとなっている。
- ③ 第4期のGDPデフレーターは100である。
- ④ 実質国内総生産の成長率のマイナス幅は年々縮小している。

問5 下線部 d に関連して、銀行は信用創造によって預金通貨を供給する。法定支払い準備率が10%であると定められているとする。この時、1000万円を新たに銀行に預金すると信用創造がおこなわれるが、その結果支払準備金の総額はいくらになるか。最も適切なものを、下記から一つ選び、マークしなさい。解答番号は

- ① 100万円
- ② 1000万円
- ③ 9000万円
- ④ 1億円

問6 下線部 e に関連して、日本の会社に関する記述として最も適切なものを、下記から一つ選び、マークしなさい。解答番号は

- ① 株式会社が負った賠償金を支払えない場合、10%以上の株式を保有する大株主は不足分を支払わなければならない。
- ② 株式会社には株式を公開する「公開会社」と、株式の譲渡に株主総会の承認を要する「株式譲渡制限会社」がある。
- ③ 合名会社は小規模の企業が多く、有限責任を負う者と無限責任を負う者の二種類の出資者によって構成される。
- ④ 合同会社の出資者は無限責任であるが、経営者は所有と経営の分離の原則により有限責任である。