

令和7年度入学試験問題

受験上の注意

1. 監督の指示により、解答用紙に受験番号（算用数字）、氏名、フリガナ、解答する科目を記入し、受験番号、該当する試験日、解答する科目をマークしてください。記入については解答用紙の注意事項に従ってください。
2. 問題冊子の解答番号と解答用紙の番号を間違えないように注意してください。
3. 科目およびページは、次のとおりです。試験開始の合図があったら、まず受験する科目のページ数を確認してください。

科目	ページ
日本史	2～16
世界史	18～36
地理	40～63
政治・経済	66～82

4. 受験票を試験時間中は、机上の受験番号の下に呈示しておいてください。
5. 質問、その他用件があるときは、手を挙げて合図してください。
6. 試験時間中の退場は認めません。
7. 試験時間は60分です。
8. この問題冊子は持ち帰ってください。

開始の合図があるまで開かないでください

地 理

〔 I 〕 「まなつ」と「きよみ」さんが修学旅行で行く那覇市とその周辺地域について、さまざまな地図を使って地理的な事前調査を行った。次の問 1～問 7 に答えなさい。解答番号は ～


著作権上の都合により非公開

図 1 西側

著作権上の都合により非公開

図1 東側

まなつ：まず那覇の^ア地形図（図1：2017年測量，原寸）を見てみよう。

きよみ：海岸沿いに^イの記号が描かれているね。たぶん南西諸島で広くみられるものがこの記号で表されていると思うよ。

まなつ：地形図の中には^ウ数字が書かれている記号や塔のような記号があるんだね。これらを見ると地面の標高がわかるみたいだね。

きよみ：地形図だけだと10mごとの等高線なので，凸凹地形がわかりにくいよ。

まなつ：^エ地理院地図を使うともっと細かな凸凹を知ることができるみたいだね。地形図の範囲について地理院地図の「自分で作る色別標高図」の機能を使って標高ごとに塗り分けた地図（図2）や陰影起伏図（図3）を作ってみよう。これらからリアルな凸凹が見えてくるね。

きよみ：それに加えて，^オ地形断面図を作ると凸凹の様子がはっきりとわかるね。これらを見ると那覇の地形の特徴がより詳しくわかるね。

まなつ：県庁所在地は平坦な地形が広がる場所にあると思っていたけど，那覇は違うんだね。^カほかの県庁所在地の地図（図4）も作って比較してみよう。

きよみ：地図から地形の組み合わせが読み取れるね。

まなつ：^キ那覇の古い地形図（図5）を見てみると今と市街地の様子がだいぶ違うね。

きよみ：修学旅行で行く予定の国際通りはこの時にはなかったんだね。

まなつ：現在の那覇の市街地でも^ク災害リスクはあるのかな。

きよみ：地形から考えてみよう。

問1 下線部アに関して，図1の地形図は50mごとに太い実線の等高線が引かれている。この地形図における50mごとの等高線の名称と地形図の縮尺の組み合わせとして正しいものを，①～⑥から一つ選びマークしなさい。 1

	①	②	③	④	⑤	⑥
等高線の名称	主曲線	計曲線	主曲線	計曲線	主曲線	計曲線
地形図の縮尺	1万分 の1	1万分 の1	2万5千 分の1	2万5千 分の1	5万分 の1	5万分 の1

問2 下線部イに関して、沿岸で見られるこの記号の名称と記号が表している実際のものの組み合わせとしてもっとも適切なものを、①～⑨から一つ選び、マークしなさい。 **2**

	①	②	③	④	⑤	⑥	⑦	⑧	⑨
記号 名称	いんげんがん 隠顕岩	隠顕岩	隠顕岩	岩がけ	岩がけ	岩がけ	砂れき 地	砂れき 地	砂れき 地
表して いるもの	サンゴ 礁	マンゴ ローブ林	砂浜	サンゴ 礁	マンゴ ローブ林	砂浜	サンゴ 礁	マンゴ ローブ林	砂浜

問3 下線部ウの記号の名称の組み合わせとして正しいものを、①～⑨から一つ選び、マークしなさい。 **3**

記号	①	②	③	④	⑤	⑥	⑦	⑧	⑨
	高塔	高塔	高塔	電子 基準点	電子 基準点	三角点	三角点	水準点	水準点
	水準点	三角点	電子 基準点	水準点	三角点	水準点	電子 基準点	三角点	電子 基準点

問4 下線部エとオに関して、地理院地図のいくつかの機能を使って那覇の地形の特徴を調べた。次のA～Cの間に答えなさい。

A. 地理院地図の機能について説明した次の文の空欄あといに入る語の組み合わせとしてもっとも適切なものを、①～⑥から一つ選び、マークしなさい。 **4**

地理院地図は **あ** のひとつで、 **い** の操作性に優れている地図である。

	①	②	③	④	⑤	⑥
あ	WebGIS	WebGIS	紙地図	紙地図	GNSS	GNSS
い	オーバーレイ (レイヤーの 重ね合わせ)	ビッグデータ	オーバーレイ (レイヤーの 重ね合わせ)	ビッグデータ	オーバーレイ (レイヤーの 重ね合わせ)	ビッグデータ

B. 下線部工に関して、図2は図1の範囲について「自分で作る色別標高図」の機能を使って標高によって塗り分けたものである。図3は同じ範囲の陰影起伏図である。これらの図を見て那覇の地形の特徴を述べた文として当てはまらないものを①～④から一つ選び、マークしなさい。 5

著作権上の都合により非公開

図2

図3

- ① 県庁は標高10m以下の場所に位置している。
- ② 首里城は県庁や市役所がある那覇市中心部より標高が高い場所に位置している。
- ③ 那覇新都心と呼ばれるおもろまちは埋立地に造られた。
- ④ 海岸に近い標高10m以下の低地の中にいくつかの小丘のような地形がみられる。

C. 下線部オに関して、地理院地図の断面図作成の機能を使って、図1中に破線で示した、海岸から県庁を通過して首里城までの地形断面図を作成した。もっとも適切な地形断面図を①～④から一つ選び、マークしなさい。なお、横軸の距離は省略してある。 6

著作権上の都合により非公開

①

②

著作権上の都合により非公開

③

④

問5 下線部力に関して、次の図4の地図は日本の県庁所在地の地形を読み取るために、地理院地図の「自分で作る色別標高図」の機能を使って、図2と同じ縮尺、同じ塗り分けで作成したものである。次のAとBの問に答えなさい。

著作権上の都合により非公開

図4

A. サ～セの都市における地図の範囲内の主な地形について説明した次の文のうち、サの都市の地形の説明としてもっとも適切なものを①～④から一つ選び、マークしなさい。

- ① 山地に囲まれた幅の狭い低地からなる。
- ② 丘陵や台地とそれらに囲まれた谷の中の低地からなる。
- ③ 小さな谷が刻まれた台地と低地からなる。
- ④ 大部分を占める平坦で標高10m以下の低地と、海岸に沿って延びる標高10m以上の砂丘からなる。

B. 図2と図4を見比べて、那覇市と似た地形条件になる都市を①～④から一つ選び、マークしなさい。

- ① サ ② シ ③ ス ④ セ

問6 下線部キに関して，次の図5は1919年測量の地形図「那覇」（原寸）である。

1919年と現代の違いについて，AとBの間に答えなさい。なお，古い地形図で土地利用記号が入っていない場所は畑である。また，図5の西側の端の位置を「図1 西側」に縦の実線で示してある。

著作権上の都合により非公開

図5

A. 漫湖と周辺地域の変化について述べた文として、当てはまらないものを①～④から一つ選び、マークしなさい。 9

- ① 奥武山公園は1919年には中州にあったが、漫湖の一部を埋め立てて広がった。
- ② 1919年の漫湖の面積は現在よりも広がった。
- ③ 那覇大橋のそばにある高校の敷地の大半は1919年には漫湖の一部だった。
- ④ 現在の古波蔵（三）の場所は1919年には陸地だった。

B. 国際通りは1919年当時のどのような場所に造られたか。次の文のうち、もっとも適切なものを①～④から一つ選び、マークしなさい。 10

- ① 市街地の中心にあった道をもとにして造られた。
- ② 土地の起伏を避けるように平坦な場所に造られた。
- ③ 畑地だったところに造られた。
- ④ 市街地の縁を通るように造られた。

問7 下線部クに関して、地形から判断される安里川沿いと首里城の周辺における災害リスクについて述べた文のうち、もっとも適切な組み合わせを①～⑨から一つ選び、マークしなさい。なお、安里川は首里城の東およそ1 kmに源流を持ち、泊で海に流入する河川で図2に大まかな位置が記入されている。 11

安里川沿い

- あ 河川が短いため、水害のリスクは少ない。
- い 狭い範囲に降る強い雨により都市型水害のリスクがある。
- う 大雨の時に漫湖の水が逆流して浸水するリスクがある。

首里城周辺

- え 広く安定した地盤なので斜面の崩れや地盤の液状化のリスクは少ない。
- お 大雨や地震の時に首里城を取り囲む急斜面が崩れるリスクがある。
- か 地震の時に広く地盤の液状化が起こるリスクがある。

	①	②	③	④	⑤	⑥	⑦	⑧	⑨
安里川沿い	あ	あ	あ	い	い	い	う	う	う
首里城周辺	え	お	か	え	お	か	え	お	か

〔Ⅱ〕 農林水産業に関する以下の問1～問9に答えなさい。解答番号は **12** ～
22

問1 農業の地域差について述べた文中の下線部と空欄に関する、以下のA～Cの間に答えなさい。

農業の形態は地域によって異なっている。この地域差を生み出す要因は、ア自然条件とイ社会条件から説明できる。生産地域と消費地域の距離が離れている場合のコストとして **イ** を要することがあげられる。こうした条件などから大都市といった消費地に近いところで **ウ** は盛んであったが、現在では消費地から距離の離れたところでも展開している。

A. 下線部アのうち自然条件として、当てはまらないものを①～⑤から一つ選び、マークしなさい。 **12**

- ① 気候 ② 栽培限界 ③ 地形 ④ 土壌 ⑤ 農地所有

B. 空欄イに当てはまる語句として、もっとも適切なものを①～④から一つ選び、マークしなさい。 **13**

- ① 人件費 ② 生産費 ③ 地代 ④ 輸送費

C. 空欄ウに当てはまる語句として、もっとも適切なものを①～⑤から一つ選び、マークしなさい。 **14**

- ① 園芸農業 ② 混合農業 ③ 三圃式農業 ④ 地中海式農業 ⑤ 遊牧

問2 フードシステムとアグリビジネスの経営について説明した文として、誤っているものを①～④から一つ選び、マークしなさい。 15

- ① アグリビジネスは主に労働生産性より土地生産性を高めることでコスト削減を図っている。
- ② アメリカ合衆国の穀物メジャーは中国にも進出している。
- ③ グローバルな食料供給の安定化にアグリビジネスは影響を与えている。
- ④ フードシステムの生産から流通、販売まで一貫した経営を展開する企業・事業はアグリビジネスと呼ばれる。

問3 図1のカ〜クは、主な生産国における小麦、大豆、とうもろこしのいずれかの作物カレンダーである。小麦、大豆、とうもろこしとカ〜クの組み合わせとして、もっとも適切なものを①〜⑥から一つ選び、マークしなさい。 16

著作権上の都合により非公開

（「食料安全保障月報（第37号）2024年7月」により作成）

図1

	①	②	③	④	⑤	⑥
小麦	カ	カ	キ	キ	ク	ク
大豆	キ	ク	カ	ク	カ	キ
とうもろこし	ク	キ	ク	カ	キ	カ

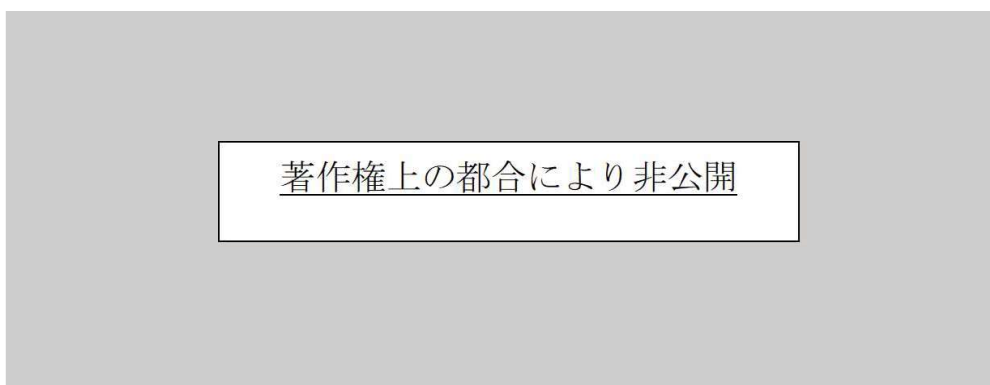
問4 農業の技術革新に地理情報が活用されている。地理情報を主に活用した技術革新として、当てはまらないものを①～⑤から一つ選び、マークしなさい。 17

- ① 耕地ごとの作物の成熟度の測定
- ② センターピボットの灌漑管理
- ③ トラクターの自動運転
- ④ ドローンによる農薬散布
- ⑤ ハイブリッド種の導入

問5 表1のサ～スは2019年におけるカカオ豆，コーヒー豆，トマトのいずれかの生産量の多い上位5か国を示したものである。カカオ豆，コーヒー豆，トマトとサ～スの組み合わせとして、もっとも適切なものを①～⑥から一つ選び、マークしなさい。

18

表1

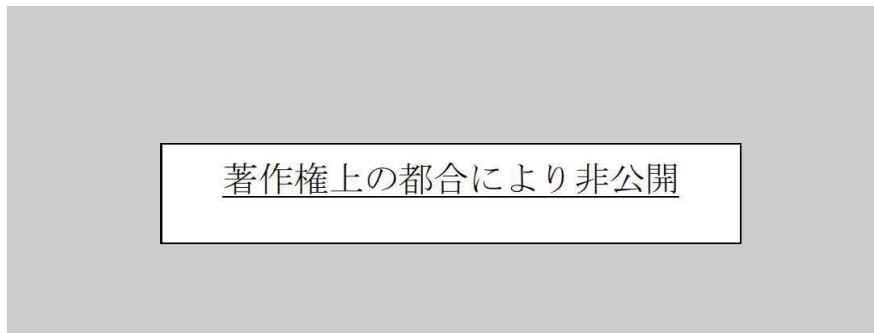


(『データブック オブ・ザ・ワールド 2022年版』により作成)

	①	②	③	④	⑤	⑥
カカオ豆	サ	サ	シ	シ	ス	ス
コーヒー豆	シ	ス	サ	ス	サ	シ
トマト	ス	シ	ス	サ	シ	サ

問6 表2のタ～ツは、2015年におけるカナダ、ナイジェリア、フィンランドのいずれかの木材の伐採量と用途の割合を示したものである。カナダ、ナイジェリア、フィンランドとタ～ツの組み合わせとして、もっとも適切なものを①～⑥から一つ選び、マークしなさい。 **19**

表2



(「FAOSTAT」により作成)

	①	②	③	④	⑤	⑥
カナダ	タ	タ	チ	チ	ツ	ツ
ナイジェリア	チ	ツ	タ	ツ	タ	チ
フィンランド	ツ	チ	ツ	タ	チ	タ

問7 日本の林業や森林について説明した文として、誤っているものを①～④から一つ選び、マークしなさい。 **20**

- ① 国土面積の約70%は森林である。
- ② 森林面積の約40%は人工林である。
- ③ 21世紀以降の日本の木材自給率は上昇傾向にある。
- ④ 輸入される木材の多くは丸太である。

問8 世界の漁場について述べた次の文中の下線部のうち、誤っているものを①～⑤から一つ選び、マークしなさい。 21

地球の表面積の約70%は海であるが、漁場として優れた海域には偏りがみられる。優れた漁場となる自然条件としては、①大陸棚などの浅い海域、②河川水の流入する潮目（潮境）、③湧昇流のみられる海域などである。かつて大西洋北東部、大西洋北西部、太平洋北東部、太平洋北西部が四大漁場と称され、全て北半球に分布していた。20世紀以降には④大西洋北東部や⑤大西洋北西部より漁獲量の多い漁場が南半球で見られるようになった。

問9 表3の①～④は2019年に日本へ輸入されたエビ、サケ・マス類、タラ類、カツオ・マグロ類のいずれかの輸入額と、輸入額に占める金額の割合が高い上位3つの国・地域を示したものである。このうちカツオ・マグロ類に当てはまるものとして、もっとも適切なものを①～④から一つ選び、マークしなさい。 22

表3

著作権上の都合により非公開

（「水産庁ウェブサイト」により作成）

〔Ⅲ〕 中国に関する問1～問3に答えなさい。解答番号は ～

問1 図1をみて、中国南部（華南）の自然環境と農業に関する以下のA～Dの問に答えなさい。

著作権上の都合により非公開

図1

A. 図1の河川Aと島Bに当てはまる名称の組み合わせとして、もっとも適切なものを①～⑥から一つ選び、マークしなさい。 **23**

	①	②	③	④	⑤	⑥
河川A	ホワイ川 (淮河)	ホワイ川 (淮河)	チュー川 (珠江)	チュー川 (珠江)	ヘイロン川 (黒竜江)	ヘイロン川 (黒竜江)
島B	ハイナン (海南) 島	台湾	ハイナン (海南) 島	台湾	ハイナン (海南) 島	台湾

B. 華南における気候に関する次の説明文を読み、空欄ア～ウに入る用語の組み合わせとして、もっとも適切なものを①～④から一つ選び、マークしなさい。 **24**

華南の気候は **ア** の影響を受け、夏は **イ** から暖かく湿った空気が流れてくるため温暖で降水量が多く、冬は **ウ** から冷涼な空気が吹き込むため寒冷で乾燥する。

	①	②	③	④
ア	偏西風	偏西風	季節風	季節風
イ	海洋	内陸	海洋	内陸
ウ	内陸	海洋	内陸	海洋

- C. 図2のX～Zの雨温図は、図1の各都市（チチハル、シーアン、フーチョウ）のいずれかのものを示している。都市と雨温図の組み合わせとして、もっとも適切なものを①～⑥から一つ選び、マークしなさい。 25

著作権上の都合により非公開

（「気象庁ホームページ」により作成）

図2

	①	②	③	④	⑤	⑥
X	シーアン	シーアン	フーチョウ	フーチョウ	チチハル	チチハル
Y	フーチョウ	チチハル	シーアン	チチハル	シーアン	フーチョウ
Z	チチハル	フーチョウ	チチハル	シーアン	フーチョウ	シーアン

- D. 華南における農業に関する次の説明文を読み、下線部a～cの正誤の組み合わせとして、もっとも適切なものを①～⑧から一つ選び、マークしなさい。 26

華南では、同じ耕地で1年の間に2回コメを栽培する a 二期作が行われており、
b 春に苗を植え夏に収穫したあと、すぐに c 再度苗を植え、翌年の春に収穫を行う。

	①	②	③	④	⑤	⑥	⑦	⑧
a	正	正	正	正	誤	誤	誤	誤
b	正	誤	正	誤	正	誤	正	誤
c	正	正	誤	誤	正	正	誤	誤

問2 中国の経済に関して説明した文章を読み、以下のA～Eの間に答えなさい。

著作権上の都合により非公開

A. 下線部dの記述に関して、ICT産業が発達し、漁村から東アジアを代表するコンテナターミナル港を有する主要都市へと成長した都市の名称として、もっとも適切なものを①～⑥から一つ選び、マークしなさい。 27

- ① コワンチョウ（広州） ② シェンチェン（深圳） ③ コイリン（桂林）
 ④ チョントウー（成都） ⑤ ハンチョウ（杭州） ⑥ チャンシャー（長沙）

B. 空欄アとイに入る用語の組み合わせとして、もっとも適切なものを①～⑥から一つ選び、マークしなさい。 28

	①	②	③	④	⑤	⑥
ア	改革開放政策	改革開放政策	改革開放政策	文化大革命	文化大革命	文化大革命
イ	人民公社	経済特区	国際金融センター	人民公社	経済特区	国際金融センター

- C. 図3は、1995年と2019年の中国における輸出品と輸出額の変化を示したものである。この図に関して、中国の輸出について説明した文として、誤っているものを①～④から一つ選び、マークしなさい。 **29**

著作権上の都合により非公開

図3

- ① 輸出額は10倍以上となり、多くの工業製品で世界最大の輸出国となった。
- ② 「原油・石油化学製品」の輸出が減少したのは、原油・天然ガスの枯渇が相次いだためである。
- ③ 機械類の生産量が増加し、「世界の工場」と呼ばれるようになった。
- ④ 「電化製品・通信・パソコン」の割合が大きく増加したのは、外国企業の進出や国内のエレクトロニクス関連企業の成長によるものである。

- D. 下線部 e の記述について、一連の開発事業の名称として当てはまるものを①～④から一つ選び、マークしなさい。 **30**

- ① 西部大開発
- ② 西部開拓
- ③ 一带一路
- ④ 大躍進運動

E. 下線部 f の記述について、中国における環境問題について説明した次の文のうち、誤っているものを①～④から一つ選び、マークしなさい。 31

- ① 都市部では、PM2.5の滞留による大気汚染の被害が深刻である。
- ② 国内エネルギーの約60%を石油に依存しており、二酸化炭素の排出量が世界でもっとも多い。
- ③ 酸性雨の観測のため、中国を含む東アジア・東南アジアでは国際的な組織が発足している。
- ④ 自動車による排気ガスの影響を抑えるため、電気自動車の普及が進んでいる。

問3 中国の国際関係に関する次の文章をみて、以下のAとBの間に答えなさい。

ホンコン（香港）はながらく ア の海外領土であり、東アジアにおける国際貿易の中心として発展を続けた。ホンコンは同じく イ の海外領土であったマカオ（澳門）と共に、現在では特別行政区に指定されている。中国に向けた対内直接投資においては、中国で出生し、政治的・経済的などの理由で海外に移住した ウ や、その子孫もしくは移住先の国籍を取得した エ が重要な役割を担っている。ウ、エ の人々は東南アジアにも多く居住しており、人口の約70%以上を中国系が占める オ では、独立以降、一貫して中国系の政治家が首相を務めている。

A. 空欄アとイに入る用語の組み合わせとして、もっとも適切なものを①～⑨から一つ選び、マークしなさい。 32

	①	②	③	④	⑤	⑥	⑦	⑧	⑨
ア	イギリス	イギリス	イギリス	アメリカ合衆国	アメリカ合衆国	アメリカ合衆国	フランス	フランス	フランス
イ	スペイン	ポルトガル	ドイツ	スペイン	ポルトガル	ドイツ	スペイン	ポルトガル	ドイツ

B. 空欄ウ～オに入る用語の組み合わせとして、もっとも適切なものを①～④から一つ選び、マークしなさい。 **33**

	①	②	③	④
ウ	華僑	華僑	華人	華人
エ	華人	華人	華僑	華僑
オ	インドネシア	シンガポール	インドネシア	シンガポール