

## 令和7年度入学試験問題

### 受験上の注意

1. 監督の指示により、解答用紙に受験番号（算用数字）、氏名、フリガナ、解答する科目を記入し、受験番号、該当する試験日、解答する科目をマークしてください。記入については解答用紙の注意事項に従ってください。
2. 問題冊子の解答番号と解答用紙の番号を間違えないように注意してください。
3. 科目およびページは、次のとおりです。試験開始の合図があったら、まず受験する科目のページ数を確認してください。

科 目	ペ ー ジ
日 本 史	2～15
世 界 史	16～33
地 理	36～62
政治・経済	64～85

4. 受験票を試験時間中は、机上の受験番号の下に呈示しておいてください。
5. 質問、その他用件があるときは、手を挙げて合図してください。
6. 試験時間中の退場は認めません。
7. 試験時間は60分です。
8. この問題冊子は持ち帰ってください。

**開始の合図があるまで開かないでください**

## 地 理

〔 I 〕 埼玉県熊谷市にある高校の写真部に所属するリツさんとショウさんは、夏休みに荒川流域の撮影に出かけた。以下の問 1～問 3 に答えなさい。解答番号は

1 ～ 11

問 1 2 人はまず、熊谷駅から秩父鉄道を利用して荒川上流へ向かい、終点の三峰口駅<sup>みつみねぐち</sup>に到着した。図 1 および 2 人の会話を読み、A～D の間に答えなさい。なお、図 1 は国土地理院から 2012 年に発行された 2 万 5 千分の 1 地形図「三峰」の一部（原寸、一部改変）である。

著作権上の都合により非公開

図 1

リツ : さあ, 第1の目的地に到着。荒川上流の地域景観を撮影しよう。

ショウ : ずいぶんと山が近いね。電車に乗っていたのでよくわからなかったけど, この三峰口駅と熊谷駅との標高差はどれくらいあるの?

リツ : 三峰口駅前の標高を地形図で確認しようよ。たしか熊谷駅の標高は約26mだったので, 標高差は  mほどだね。よし, まずは荒川に架かる「白川橋」へ向かおう。

ショウ : 橋のうえから見ると足がすくむほど 谷が深いね。橋は河床からどれくらいの高さがあるだろう?

リツ : 河床の標高が約270mで, この橋は両岸に対してほぼ水平だから, 高さはおよそ  mくらいだね。じゃあ, 対岸の集落に行ってみよう。

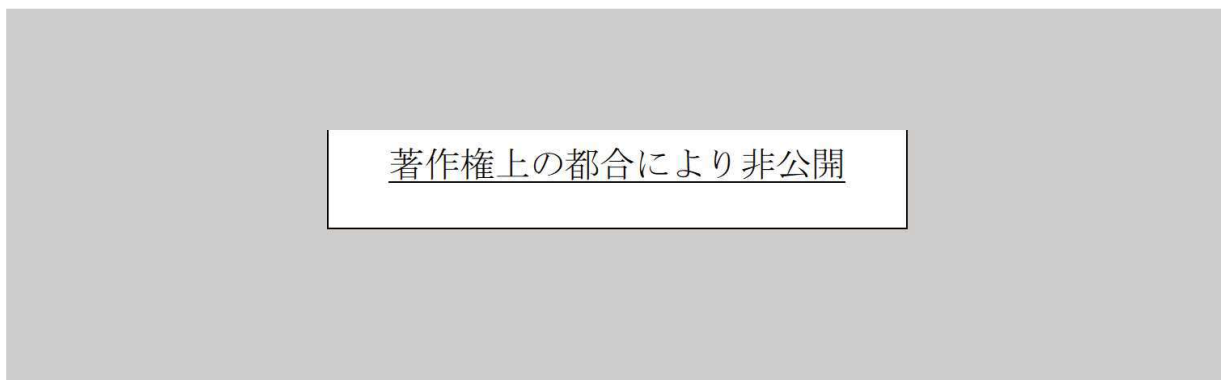
ショウ : 国道標識に「彩甲斐街道」という看板が添えてあるけど, おしゃれな名称だね。

リツ : そうだね。「さいかいのみち」と読ませるらしいよ。埼玉県の愛称である「彩の国(さいのくに)」と  県の古い名称「甲斐国」を繋ぐ, という意味だよ。

A. 会話文の空欄アとウにそれぞれ当てはまる数値として, もっとも適切な組み合わせを①～⑧から一つ選び, マークしなさい。

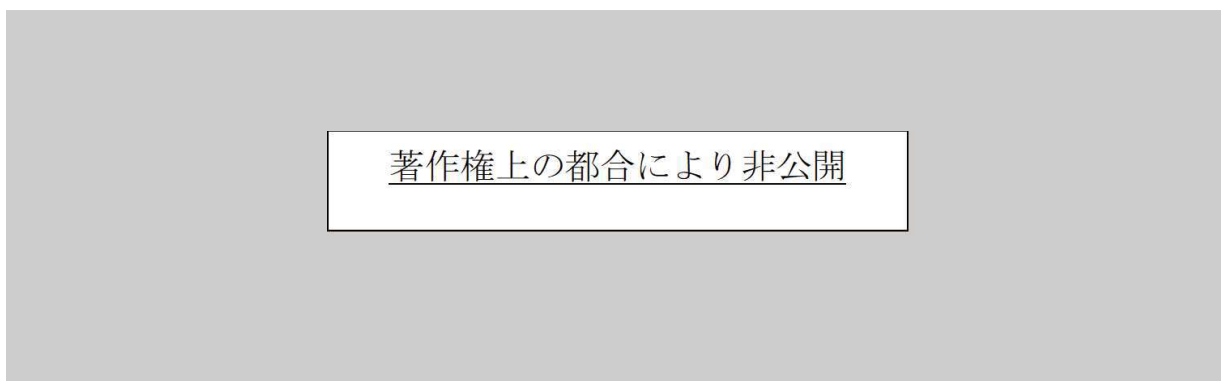
	①	②	③	④	⑤	⑥	⑦	⑧
ア	280	280	300	300	320	320	340	340
ウ	30	50	30	50	30	50	30	50

- B. 会話文の下線部イに関連して、図1の地点aと地点bとの間の断面図を作成した。その断面図として、もっとも適切なものを①～④から一つ選び、マークしなさい。ただし、断面図は高さを強調している。  2



①

②



③

④

- C. 会話文の空欄エに当てはまる県名として、もっとも適切なものを①～⑤から一つ選び、マークしなさい。  3

① 群馬    ② 長野    ③ 静岡    ④ 神奈川    ⑤ 山梨

D. 次の写真は、図1のオ～クのいずれかの地点でいずれかの方向を撮影したものである。写真の撮影地点として、もっとも適切なものを①～④から一つ選び、マークしなさい。



- ① オ    ② カ    ③ キ    ④ ク

問2 次に2人は秩父鉄道を利用して荒川下流へ向かい、途中の長瀬<sup>ながとろ</sup>駅で下車した。図2および2人の会話文を読み、A～Dの間に答えなさい。なお、図2は国土地理院から2006年に発行された2万5千分の1地形図「鬼石」の一部（原寸、一部改変）である。




図2

リツ：ここには家族で川下りに来たことがあるけど、今回は宝登山<sup>ほどさん</sup>に登ろうよ。

ショウ：賛成。地形図をみながら、まずは、ヶ宝登山神社へ向かう参道を歩こう。正面にロープウェイが見える！

リツ：うん。神社に参拝したら、コ宝登山ロープウェイに乗車して山頂へ向かおうよ。

ショウ：参道沿いにサ「天然氷」の旗があるね。かき氷のお店に行列ができていますよ。

リツ：並んでいる人のなかには、シ外国人観光客も多いね。地域の観光振興への取り組みがすすんでいるんだね。

A. 会話文の下線部ヶについて、リツさんとショウさんが図2の地点cから地点dまでを歩くのに要した時間はどれくらいか。もっとも適切なものを①～⑤から一つ選び、マークしなさい。ただし、地点cと地点dの距離は図上で計測したところ2.6cmであり、2人はこの2地点間を平均分速65mで歩いたものとする。 5

- ① 8分    ② 10分    ③ 12分    ④ 14分    ⑤ 16分

B. 会話文の下線部コについて、「ほどさんちょう」駅と「ほどさんろく」駅の標高差として、もっとも適切なものを①～⑤から一つ選び、マークしなさい。 6

- ① 160m    ② 200m    ③ 240m    ④ 280m    ⑤ 320m

- C. 会話文の下線部サに関連して、この地域で天然氷が作られていることを知った2人は、秩父市のほか札幌市、静岡市、宮崎市の雨温図を作成した。次の①～④のうち、秩父市に当てはまるものを一つ選び、マークしなさい。 7

著作権上の都合により非公開

①

②

著作権上の都合により非公開

③

④

(「気象庁ホームページ」により作成)

D. 会話文の下線部シに関連して、2人は日本における外国人観光客の誘致にむけた取り組みについて調べた。次の文①～⑤のうち、国・自治体や観光地の取り組みとして、当てはまらないものを一つ選び、マークしなさい。 8

- ① インターネットを利用して観光情報を提供している。
- ② 観光地では多言語で表記された案内板を増やしている。
- ③ 観光施設のスタッフを対象に英会話教室を実施している。
- ④ ハラル認証を得た食品を提供する宿泊施設を増やしている。
- ⑤ オーバーツーリズム対策としてビザ発給の規制を強化している。

問3 2人は撮影のため、最後に武川駅たけかわに降り立った。図3および図4と2人の会話文を読み、A～Cの間に答えなさい。なお、図3と図4は国土地理院から異なる年次に発行された2万5千分の1地形図「三ヶ尻」の一部（原図を80%に縮小、一部改変）で、図3は2006年発行、図4は1968年発行である。

著作権上の都合により非公開

図3

著作権上の都合により非公開

図 4

ショウ：武川駅に多くの貨車が停まっていたけど、地形図をみると、この駅で貨物線が分岐しているんだね。

リツ：そう。秩父鉄道三ヶ尻線という路線で、北東にある工業団地まで運行しているんだよ。

ショウ：地形図をみると「太平洋セメント工場」内にも引き込まれているね。途中でも鉱物を積んだ貨車を何度か見かけたけど、あれはセメントの原料となる **ス** を秩父方面からここへ輸送していたのか。

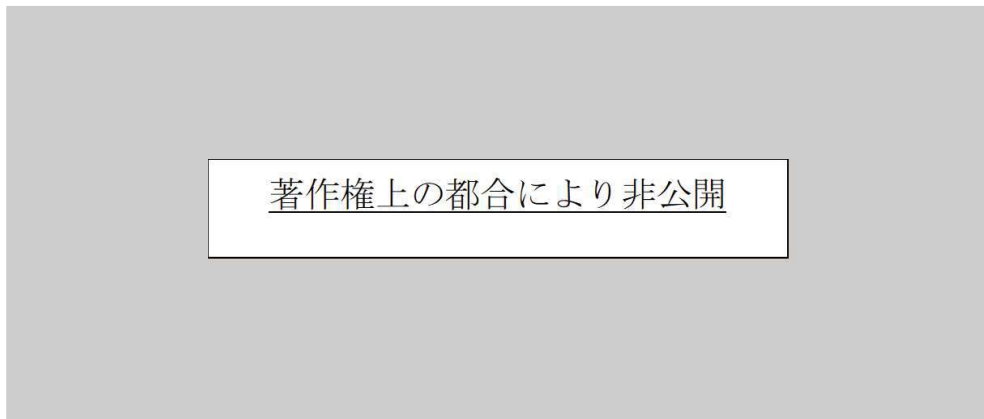
リツ：よく見ていたね。少し距離はあるけど、貨物線沿いに歩いてみようよ。

ショウ：そうしよう。この地域の 空中写真 や 旧版地形図 も持参したから、周囲の景観変化にも注意しながら歩いていこうか。

A. 会話文の空欄 **ス** に当てはまる語句として、もっとも適切なものを①～⑤から一つ選び、マークしなさい。 **9**

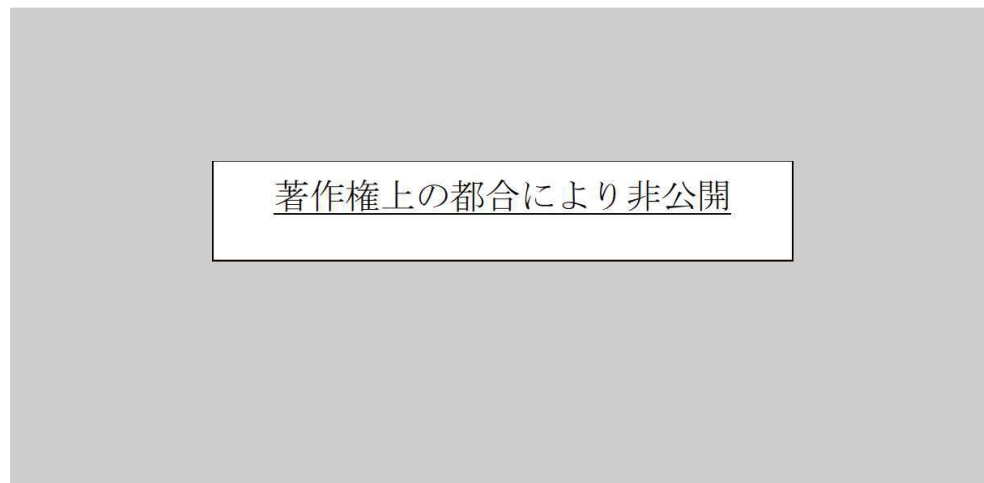
- ① 硫黄      ② 岩塩      ③ 石灰石      ④ 鉛      ⑤ りん鉱石

- B. 会話文の下線部セについて、次の①～④はこの地域の空中写真の一部を切り取ったものである。これらのうち、図3に示した枠e～gには当てはまらないものを一つ選び、マークしなさい。ただし、空中写真の縮尺は不同である。 10



①

②



③

④

- C. 会話文の下線部ソに関連して、2人は図3と図4をもとに、1968年と2006年の約40年を隔てた地域の景観変化について考えた。次の文①～⑤のうち、この地域の景観変化を述べた文として、当てはまらないものを一つ選び、マークしなさい。

11

- ①「長在家」集落周辺では、多くの桑畑が畑や水田に変わった。
- ②「たけかわ」駅から北側へ1 kmほど離れたところには、片側2車線の国道バイパスがつくられた。
- ③「植松橋」の下流付近では、上流から運ばれた多くの土砂が堆積して河川敷の標高が高くなった。
- ④「植松橋」を挟んで、荒川の左岸には小・中学校が、右岸には高等学校がつくられた。
- ⑤「御稜威ヶ原」南部には鉄道が通り、高架周辺の土地にも工業団地が拡大した。

〔Ⅱ〕 次の文章を読み、村落・都市に関する以下の問1～問4に答えなさい。解答番号は 12 ～ 22

村落の形態は、家屋の分布によって集村と<sup>ア</sup>散村に大別でき、集村は、<sup>イ</sup>塊村、列村（列状村）、円村（環村）にさらに分けることができる。社会的、経済的環境が変化していく中で、商工業やサービス業を主体とする<sup>ウ</sup>都市が成立・発展し、各都市の機能や形態、内部構造には特徴がみられる。

近年、世界的にみると<sup>エ</sup>都市の人口増加が著しく、先進国と発展途上国それぞれにおいて都市・居住問題が発生している。

問1 文章中の下線部アに関する以下のAとBの間に答えなさい。

A. 散村に関する説明として、**適切ではないものを①～④から一つ選び、マークしなさい。** 12

- ① 家屋が、1戸ずつ分散している。
- ② 各農家は、家屋や作業場の周辺に耕地を集めやすい。
- ③ 村落は、堀や土塀などで囲まれており、条里制のなごりがみられる。
- ④ 政策による農地の開発や整理統合を通じて形成されたものがある。

B. 散村がみられる地域に関する説明として、**適切ではないものを①～④から一つ選び、マークしなさい。** 13

- ① アメリカ合衆国では、開拓時にアグリビジネスによって土地区画がなされた。
- ② イギリスやスカンディナヴィア半島南部では、囲い込み運動によって形成されたものがみられる。
- ③ 富山県砺波平野では、家屋が屋敷林で囲まれ、周囲に耕地が広がる。
- ④ 北海道では、開拓によって形成されたものがみられる。

問2 文章中の下線部イに関する以下のAとBの間に答えなさい。

A. 塊村に関する説明として、もっとも適切なものを①～④から一つ選び、マークしなさい。 14

- ① 日本で江戸時代に発達した宿場町が含まれる。
- ② 農作業や外敵からの防御などで共同作業がしやすい。
- ③ 微高地よりも後背湿地において数多く発達している。
- ④ 湧水や広場は、住居の集まる範囲よりも外側にみられる。

B. 列村（列状村）のうち、路村に関する説明として、もっとも適切なものを①～④から一つ選び、マークしなさい。 15

- ① カナダでは、タウンシップ制によって形成された。
- ② 住民の多くは、商店や宿などを生業とする。
- ③ 道路に沿った家屋の背後には、耕地や林地が帯状に連続する。
- ④ 広場を取り囲んで家屋が建ち並んでいる。

問3 文章中の下線部ウに関する以下のA～Dの間に答えなさい。

A. 都市の成立と発展に関する文Xと文Yの下線部それぞれの正誤の組み合わせとして、もっとも適切なものを①～④から一つ選び、マークしなさい。 **16**

X 古代ギリシアやローマの都市、中国の長安（現在のシーアン〈西安〉）など、計画的に建設された政治的・宗教的・軍事的拠点を起源とする都市がある。

Y ヨーロッパでは、周囲を城壁で取り囲んだ城郭（城塞）都市に起源を有する都市がある。

	①	②	③	④
X	正	正	誤	誤
Y	正	誤	誤	正

B. 都市の機能に関して、次の都市名と代表的な都市の機能との組み合わせとして、もっとも適切なものを①～⑥から一つ選び、マークしなさい。 **17**

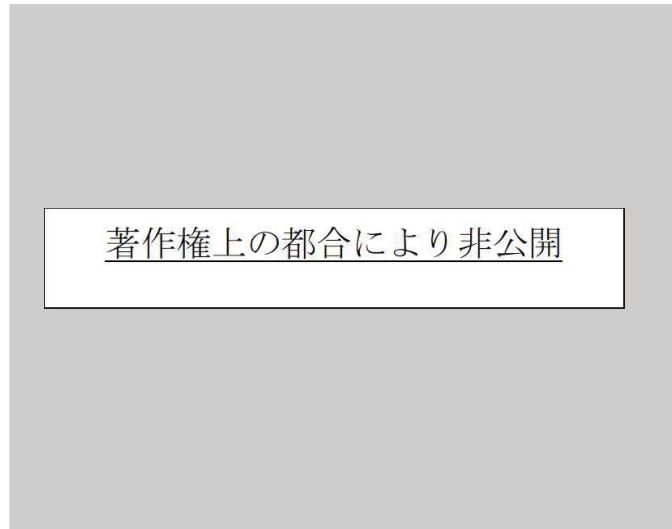
	キャンベラ (オーストラリア)	ニース (フランス)	メッカ (サウジアラビア)
①	観光・保養都市	宗教都市	政治都市
②	観光・保養都市	政治都市	宗教都市
③	宗教都市	政治都市	観光・保養都市
④	宗教都市	観光・保養都市	政治都市
⑤	政治都市	観光・保養都市	宗教都市
⑥	政治都市	宗教都市	観光・保養都市

- C. 都市の形態に関連して、次の図1のサ～スは、都市の道路網の特徴を模式的に示したものである。道路網の特徴と都市名の組み合わせとして、もっとも適切なものを①～⑥から一つ選び、マークしなさい。 18

著作権上の都合により非公開

	サ	シ	ス
①	テヘラン	ペキン（北京）	パリ
②	テヘラン	パリ	ペキン（北京）
③	ペキン（北京）	パリ	テヘラン
④	ペキン（北京）	テヘラン	パリ
⑤	パリ	テヘラン	ペキン（北京）
⑥	パリ	ペキン（北京）	テヘラン

- D. 都市の内部構造に関連して、次の図2は、都市の内部構造を模式的に示した、バージェスによる同心円（同心円型）モデルである。図の中心部の $\square$ に関する説明として、もっとも適切なものを①～④から一つ選び、マークしなさい。 19



- ① 卸売業・軽工業が立地する。
- ② 行政施設や企業のオフィスが立地する。
- ③ 重工業が立地する。
- ④ 低級の住宅が立地する。

問4 文章中の下線部Ⅰに関する以下のA～Cの問に答えなさい。

A. 次の表は、世界のおもな都市域<sup>注)</sup>の人口、それらの都市のある国全体における都市人口率を示している。①～④は、アメリカ合衆国のニューヨーク、中国のシャanghai（上海）、日本の東京、パキスタンのカラチのいずれかである。カラチに当てはまるものを①～④から一つ選び、マークしなさい。 20

注：都市域の定義は国により異なる。

著作権上の都合により非公開

（『データブック オブ・ザ・ワールド 2024年版』により作成）

B. 発展途上国における都市・居住問題に関する説明として、**適切ではないもの**を①～④から一つ選び、マークしなさい。 21

- ① 多くの都市では、都市計画による社会基盤（インフラ）整備が完了した。
- ② 交通渋滞や通勤ラッシュが日常的に生じている。
- ③ 大都市の市街地に産業や各種施設が短期間に急激に増加した。
- ④ 問題の背景には、農村から都市への大量の人口移動がある。

C. 先進国の都市・居住問題，およびそれに関する説明として，もっとも適切なものを①～④から一つ選び，マークしなさい。 22

- ① アメリカ合衆国では，郊外の新しい市街地において，建物や生活環境が悪化するインナーシティ問題が発生した。
- ② イギリスでは，国外からの機能集中のため，大ロンドン計画が策定された。
- ③ ヨーロッパの諸都市では，都心に大規模な駐車場を整備する，パークアンドライドが行われている。
- ④ ロンドンでは，平日の日中に都心部に乗り入れる自動車に課金する，ロードプライシング制度が取り入れられている。

〔Ⅲ〕 大西洋に面する国々に関して、以下の問1～問7に答えなさい。解答番号は

23 ～ 33

著作権上の都合により非公開

図1

問1 図1の大西洋に面する地域の位置と自然環境について、以下のA～Eの間に答えなさい。

A. 図1にある緯線Qと経線Rが交わる地点の位置として、もっとも適切なものを①～⑥から一つ選び、マークしなさい。 **23**

	地点の位置
①	緯度0度 西経20度
②	緯度0度 西経60度
③	北緯20度 西経20度
④	北緯20度 西経60度
⑤	南緯20度 西経20度
⑥	南緯20度 西経60度

B. 大西洋に面していない国として、もっとも適切なものを①～⑧から一つ選び、マークしなさい。 **24**

- ① アルゼンチン      ② カナダ      ③ カメルーン  
④ ケニア      ⑤ ドミニカ共和国      ⑥ ナイジェリア  
⑦ ポルトガル      ⑧ モーリタニア

C. 大西洋に面する地域の地形や気候に関する①～⑤の文について、下線部が適切でないものを一つ選び、マークしなさい。 **25**

- ① 大西洋中央部では、隣り合うプレートどうしが衝突している。
- ② アフリカ西岸と南アメリカ東岸の大部分が安定陸塊である。
- ③ アフリカ西岸では、寒流の影響で降水量が少なく、海沿いに砂漠が形成されているところもある。
- ④ コロンブスは、スペインからカナリア諸島に南下後、貿易風に乗って大西洋を横断した。
- ⑤ アメリカ合衆国南東部では、夏にハリケーンがたびたび襲来する。

D. 次のア～ウは、ケープタウン、サンパウロ、モンテビデオのいずれかの雨温図である。都市名とア～ウの組み合わせとして、もっとも適切なものを①～⑥から一つ選び、マークしなさい。 **26**

著作権上の都合により非公開

(「気象庁ホームページ」により作成)

	①	②	③	④	⑤	⑥
ケープタウン	ア	ア	イ	イ	ウ	ウ
サンパウロ	イ	ウ	ア	ウ	ア	イ
モンテビデオ	ウ	イ	ウ	ア	イ	ア

E. 図1の地点カ～クの主な土壌の組み合わせとして、もっとも適切なものを①～⑥から一つ選び、マークしなさい。 27

	①	②	③	④	⑤	⑥
カ	褐色森林土	褐色森林土	ポドゾル	ポドゾル	ラトソル	ラトソル
キ	ポドゾル	ラトソル	褐色森林土	ラトソル	褐色森林土	ポドゾル
ク	ラトソル	ポドゾル	ラトソル	褐色森林土	ポドゾル	褐色森林土

問2 図1の大西洋に面する地域の歴史に関するサ～スの文について、下線部の正誤の組み合わせとして、もっとも適切なものを①～⑧から一つ選び、マークしなさい。

28

サ 植民地時代に、ヨーロッパから持ち込まれた感染症によって、南アメリカの先住民の人口は急減した。

シ 20世紀、労働力が不足したラテンアメリカでは、日本から移民を積極的に受け入れていた国もあった。

ス アメリカ合衆国建国以前に、アフリカから奴隷として連れてこられた人々は、主に南東部のプランテーション農業に従事した。

	①	②	③	④	⑤	⑥	⑦	⑧
サ	正	正	正	正	誤	誤	誤	誤
シ	正	正	誤	誤	誤	誤	正	正
ス	正	誤	正	誤	誤	正	誤	正

問3 図1の大西洋に面する地域の生活文化、言語、宗教に関する①～⑤の文について、  
下線部が適切でないものを一つ選び、マークしなさい。 29

- ① アメリカ合衆国では、ベネズエラやキューバ出身のプロ野球選手が数多く活躍している。
- ② 南アメリカの国々では、カトリックの信者数が多い。
- ③ 南アメリカとサハラ以南の多くの国では、いもやとうもろこしが主な食べ物となっている。
- ④ サハラ以南アフリカの国々では、スペイン語を話す人が多い。
- ⑤ 北アフリカの国々では、各地にモスクが見られる。

問4 図1の大西洋に面する地域の都市に関するタ～ツの文について、下線部の正誤の組み合わせとして、もっとも適切なものを①～⑧から一つ選び、マークしなさい。  
30

- タ アメリカ合衆国北東沿岸部では、メガロポリスと呼ばれる都市化地帯が形成されている。
- チ サンパウロでは、ファベラと呼ばれるスラムが拡大し、都市環境の悪化が問題となっている。
- ツ ニューヨークでは、都市のスポンジ化を通じて、人種・民族や所得などによる特定の集団が集中する地区が形成されている。

	①	②	③	④	⑤	⑥	⑦	⑧
タ	正	正	正	正	誤	誤	誤	誤
チ	正	正	誤	誤	誤	誤	正	正
ツ	正	誤	正	誤	誤	正	誤	正

問5 図1の大西洋に面する地域の農牧業に関するナ～ヌの文について、その正誤の組み合わせとして、もっとも適切なものを①～⑧から一つ選び、マークしなさい。

31

- ナ △の2地点では、混合農業が盛んである。  
 ニ ◆の2地点では、プランテーション農業が盛んである。  
 ヌ ◎の2地点では、企業的牧畜が盛んである。

	①	②	③	④	⑤	⑥	⑦	⑧
ナ	正	正	正	正	誤	誤	誤	誤
ニ	正	正	誤	誤	誤	誤	正	正
ヌ	正	誤	正	誤	誤	正	誤	正

問6 図1の大西洋に面する地域の鉱産資源について、XとYの地域で産出されるものとして、もっとも適切なものを①～⑥から一つ選び、マークしなさい。

32

- ① ウラン      ② 石油（原油）      ③ ダイヤモンド  
 ④ 鉄鉱石      ⑤ 銅鉱      ⑥ ボーキサイト

問7 表の①～④は、コートジボワール、スペイン、ブラジル、南アフリカ共和国のいずれかの国について、2020年の輸出金額上位5位までの品目と金額を示したものである。南アフリカ共和国に当てはまるものを①～④から一つ選び、マークしなさい。

33

著作権上の都合により非公開

(『世界国勢図会 2023/24』により作成)