

国語

令和七年度入学試験問題

受験上の注意

- 一、監督の指示により、解答用紙に受験番号（算用数字）、氏名、フリガナを記入し、受験番号および該当する試験日をマークしてください。記入については解答用紙の注意事項に従ってください。
- 二、問題冊子の解答番号と解答用紙の番号を間違えないように注意してください。
- 三、国語の問題は、選択問題があるので、下記の【表】の指示に従い解答してください。
- 四、国語の問題は、二～三十八ページにあります。試験開始の合図があら、まずページ数を確認してください。
- 五、試験時間中は、受験票を机上の受験番号の下に呈示しておいてください。
- 六、質問、その他用件があるときは、手を挙げて合図してください。
- 七、試験時間中の退場は認めません。
- 八、試験時間は六十分です。
- 九、この問題冊子は持ち帰ってください。

開始の合図があるまで開かないでください



【表】 下記の印に従って解答してください。

	一 (現代文)	二 (現代文)	三		
			ア (現代文)	イ (古文)	ウ (漢文)
○印… 必答 △印… いずれか一つ を解答してください					
共通問題					
仏教学部					
文学部					
経済学部					
法学部					
社会福祉学部	○	○	△	△	△
地球環境科学部					
心理学部					
データサイエンス学部					
選択問題					

国語

一次の文章を読み、後の問に答えなさい。

著作権上の都合により非公開

著作権上の都合により非公開

著作権上の都合により非公開

著作権上の都合により非公開

(若林幹夫『社会学入門 一歩前』問題作成上、一部を改変した)

問一 傍線部分(ア)、(イ)と同じ読み方をする漢字を含むものをそれぞれ一つ選び、マークしなさい。解答番号は(ア) 1、

(イ) 2。

(ア) 未踏の

① 総力を結集する

② 列の先頭

③ 貴重な経験

④ 週刊誌を買う

⑤ 辺境の村

(イ) 甘受する

① 未完の作品

② 近代的な建築

③ 訓示を聞く

④ 県立の学校

⑤ 紫紺の優勝旗

問二 空欄A、Cに入る語の組み合わせとして、最も適当なものを一つ選び、マークしなさい。解答番号は 3。

⑤ A ④ A ③ A ② A ① A

著作権上の都合により非公開

C C C C C

著作権上の都合により非公開

問三 傍線部分(1)、(4)の語句の意味として、最も適当なものをそれぞれ一つ選び、マークしなさい。解答番号は(1) 、

(4) 。

(1) さしあたり

① とりとめもなく

② おざなりに

③ おぼろげに

④ 揺るぎなく

⑤ 暫定的に

(4) 享受している

① 誇張している

② 容認している

③ 恩恵を受けている

④ 褒めたたえている

⑤ 満足している

問四 傍線部分(2) とあるが、筆者はなぜここで という表現を でくくって使うのか。その

理由として最も適当なものを一つ選び、マークしなさい。解答番号は 。

①

②

③

④

⑤

著作権上の都合により非公開

問五 傍線部分(3)

とあるが、合

理性に関する筆者のこうした主張に照らすと、XとYはどのように評価されるか。最も適当なものを一つ選び、マークしなさい。解答番号は 。

④ ③ ② ① Y X

著作権上の都合により非公開

問六 空欄B、D、E、Fに入る語の組み合わせとして、最も適当なものを一つ選び、マークしなさい。解答番号は 。

⑤ ④ ③ ② ①

B B B B B

D D D D D

E E E E E

F F F F F

問七 傍線部分(5)

ものを一つ選び、マークしなさい。解答番号は

9

とあるが、とはどういうことか。最も適当な

①

②

③

④

⑤



著作権上の都合により非公開

問八 本文には次の文が欠落している。本文中の【Ⅰ】～【Ⅴ】のどの箇所に補えばよいか。最も適当なものを一つ選び、マ

クしなさい。解答番号は

10

①

【Ⅰ】

②

【Ⅱ】

③

【Ⅲ】

④

【Ⅳ】


⑤

【Ⅴ】



問九 本文の内容に合致するものを二つ選び、マークしなさい。解答番号は (解答欄一行に二つマークすること)。

- ⑤ ④ ③ ② ①



著作権上の都合により非公開

この頁は白紙です

二 次の文章を読み、後の問に答えなさい。

著作権上の都合により非公開

著作権上の都合により非公開

（山竹伸二『認められたい』の正体』問題作成上、一部を改変した）

問一 傍線部分(1)

クしなさい。解答番号は

12

について、これが

と呼ばれる理由として、最も適当なものを一つ選び、マ

- ⑤ ④ ③ ② ①



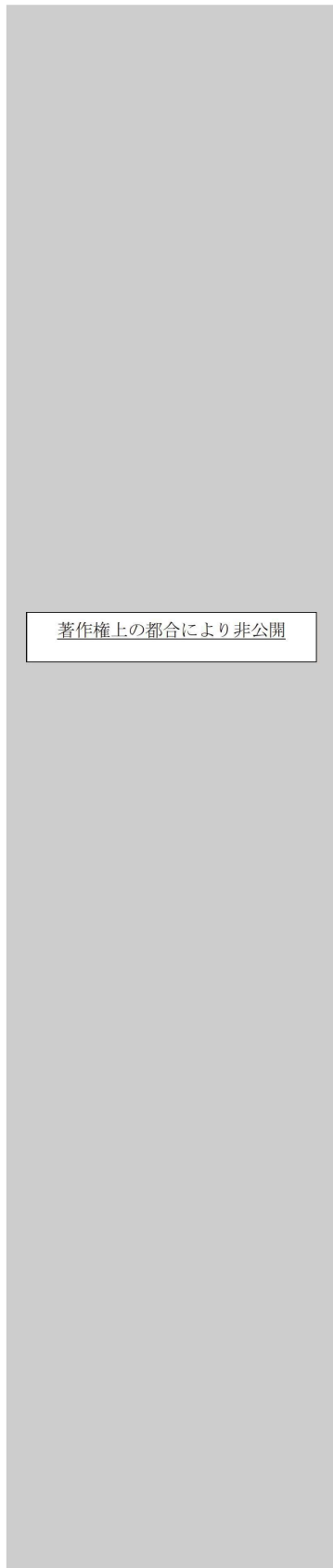
問二 傍線部分(2)

て、最も適当なものを一つ選び、マークしなさい。解答番号は

13

という故事成語をもとにしている。この故事成語の意味とし

- ⑤ ④ ③ ② ①



問三

傍線部分(3)

の指す内容として、最も適当なものを一つ選び、マークしなさい。解答番号は

14。

- ⑤ ④ ③ ② ①

著作権上の都合により非公開

問四

が傍線部分(4)のようにふるまう理由として、最も適当なものを一つ選び、マークしなさい。解答番号は

15。

- ⑤ ④ ③ ② ①

著作権上の都合により非公開

問五

寄付する人々が傍線部分(5)のようにふるまう根拠として、最も適当なものを一つ選び、マークしなさい。解答番号は

16。

- ⑤ ④ ③ ② ①

著作権上の都合により非公開

問六 傍線部分(6)について、メディアはどのような機能を果たしているのか。その説明として、最も適当なものを一つ選び、

マークしなさい。解答番号は 。

⑤ ④ ③ ② ①

著作権上の都合により非公開

問七 傍線部分(7)のように筆者が考える理由として、最も適当なものを一つ選び、マークしなさい。解答番号は 。

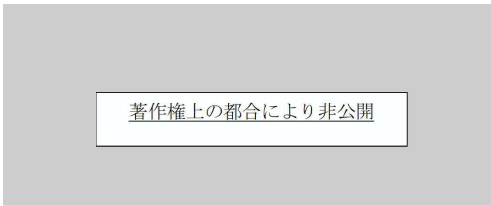
⑤ ④ ③ ② ①

著作権上の都合により非公開

⑧ ⑦ ⑥ ⑤ ④ ③ ② ①
A A A A A A A A



B B B B B B B B



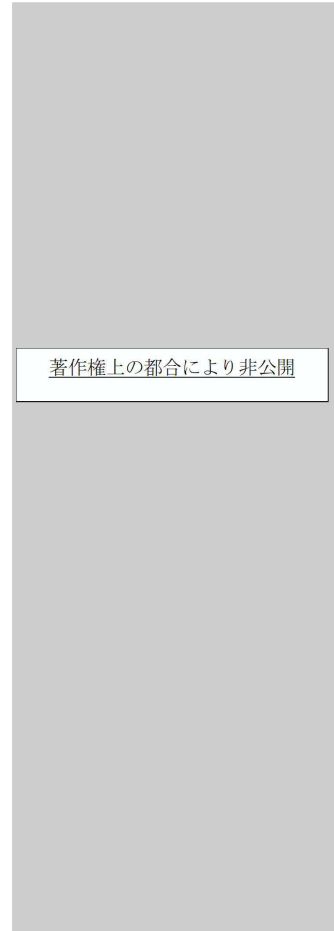
C C C C C C C C



20。

問九 空欄A～空欄Cにそれぞれ入る語句の組み合わせとして、最も適当なものを一つ選び、マークしなさい。解答番号は

⑤ ④ ③ ② ①



問八 傍線部分(8)の役割として、最も適当なものを一つ選び、マークしなさい。解答番号は

19。

問十

- ⑤ ④ ③ ② ①

本文の内容に合致するものを二つ選び、マークしなさい。解答番号は

21

(解答欄一行に二つマークすること)。



著作権上の都合により非公開

以降は選択問題です。表紙の【表】の指示に従っていずれか一つを選択し解答してください。
問題冊子の解答番号と解答用紙の番号を間違えないように注意してください。
選択問題を二つ以上解答した場合、得点にはなりませんので十分注意してください。

三ア 次の文章を読み、後の問に答えなさい。

著作権上の都合により非公開

著作権上の都合により非公開

⑤ ④ ③ ② ①

著作権上の都合により非公開

問一 傍線部分(1)

ているのは何か。最も適当なものを一つ選び、マークしなさい。解答番号は

51

とあるが、この人物の叫びで感知されていることとして、筆者が特に注目し

著作権上の都合により非公開

(今福龍太『荒野のロマネスク』問題作成上、一部を改変した)

問二 傍線部分(2)

マークしなさい。解答番号は 。

とあるが、それはどういうことか。その説明として最も適当なものを一つ選び、

- ⑤ ④ ③ ② ①

著作権上の都合により非公開

問三 傍線部分(3)

答番号は 。

とは何を指しているか。最も適当なものを一つ選び、マークしなさい。解

- ⑤ ④ ③ ② ①

著作権上の都合により非公開

問四

傍線部分(4)

とあるが、何と何が逆なのか。最も適当なものを一つ選び、マークしなさい。解答番号は

54

- ⑤
- ④
- ③
- ②
- ①

著作権上の都合により非公開

問五

傍線部分(5)

と対比される、私たちがふだん使用しているとは何か。最も適当なものを一

つ選び、マークしなさい。解答番号は

55

- ⑤
- ④
- ③
- ②
- ①

著作権上の都合により非公開

問六 傍線部分(6)

マークしなさい。解答番号は 。

⑤ ④ ③ ② ①

著作権上の都合により非公開

とあるが、この儀礼はどのような意味を持つといえるか。最も適当なものを一つ選び、

問七 傍線部分(7)

マークしなさい。解答番号は 。

⑤ ④ ③ ② ①

著作権上の都合により非公開

とあるが、それはどのような言葉か。最も適当なものを一つ選び、

問八 傍線部分(8)


- ⑤ ④ ③ ② ①



の意味として、最も適当なものを一つ選び、マークしなさい。解答番号は 。

問九 傍線部分(9)

- ⑤ ④ ③ ② ①



一つ選び、マークしなさい。解答番号は 。

とあるが、それはどのような姿勢か。最も適当なものを

問十 本文の内容に合致するものを二つ選び、マークしなさい。解答番号は (解答欄一行に二つマークすること)。

①

②

③

④

⑤

⑥

著作権上の都合により非公開

三
イ 次の文章は『うつほ物語』の一節である。これを読み、後の問に答えなさい。

著作権上の都合により非公開

問一

傍線部分(1)

(10)

(10)

を品詞ごとに分けた時の説明として、最も適当なものをそれぞれ一

つ選び、マークしなさい。解答番号は(1) 、(10) 。

(1)

①

②

③

④

⑤

(10)

①

②

③

④

⑤

著作権上の都合により非公開

問二 空欄 A に入る語として、最も適当なものを一つ選び、マークしなさい。解答番号は 。

- ①
- ②
- ③
- ④
- ⑤

問三 傍線部分(2)の解釈として、最も適当なものを一つ選び、マ

クしなさい。解答番号は 。

⑤ ④ ③ ② ①

著作権上の都合により非公開

問四 傍線部分(3)の解釈として、最も適当なものを一つ選び、マークしなさい。解答番号

は 。

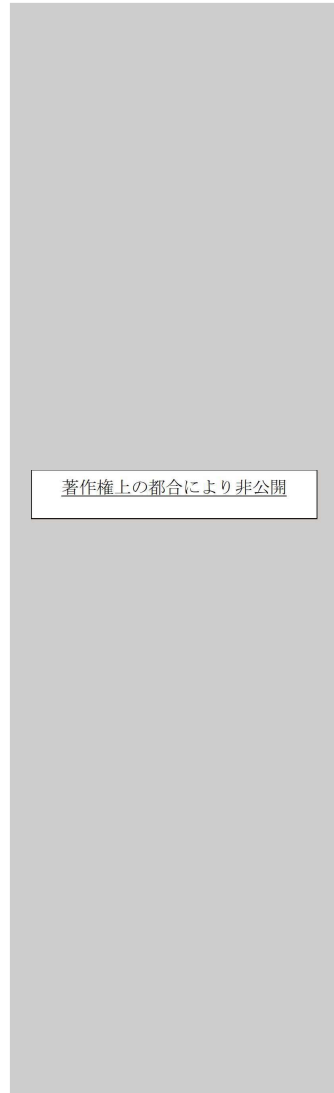
⑤ ④ ③ ② ①

著作権上の都合により非公開

問五 傍線部分(4) は、具体的にどのようなことを指しているか。最も適当なものを一つ選び、マークしなさい。解答番号

は 。

⑤ ④ ③ ② ①

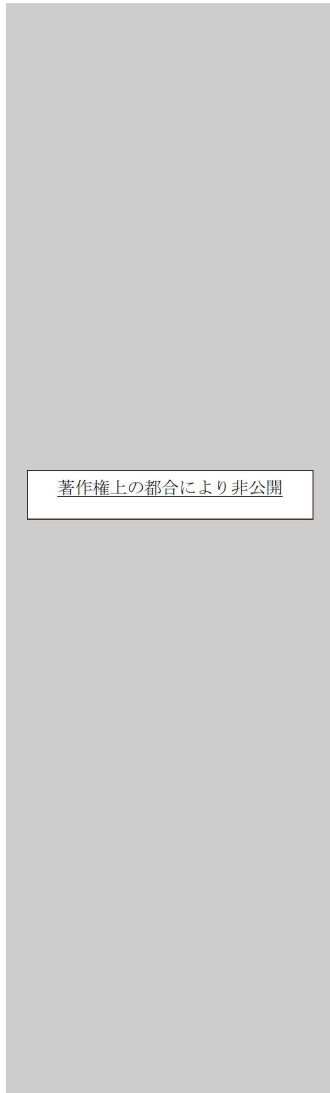


問六 傍線部分(5)

ものを一つ選び、マークしなさい。解答番号は 。

とは、具体的にどのような状況であることを言っているのか。最も適当な

⑤ ④ ③ ② ①



問七 傍線部分(6)

は、中将のどのような気持ちを述べたものか。最も適当なものを一つ選び、マークしなさい。解答番号は 。

は、中将のどのような気持ちを述べたものか。最も適当なものを一つ選び、マークしな

⑤ ④ ③ ② ①

著作権上の都合により非公開

問八 傍線部分(7)

が指す人物として、最も適当なものを二つ選び、マークしなさい。解答番号は 。

問九 傍線部分(8)

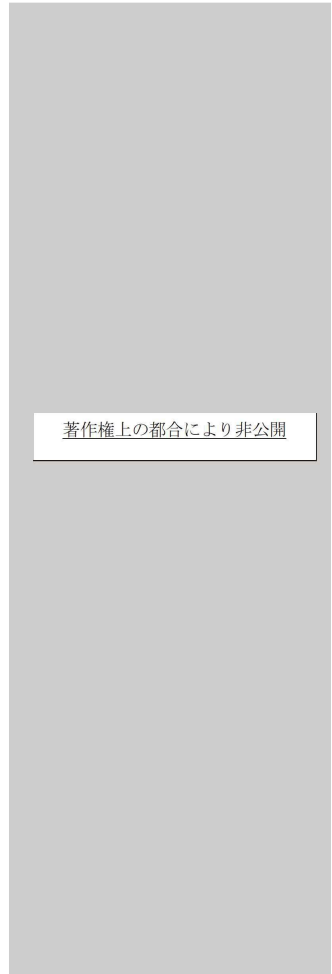
(8) 、(9) 。

の活用形として、最も適当なものをそれぞれ一つ選び、マークしなさい。解答番号は

- ① 未然形
- ② 連用形
- ③ 終止形
- ④ 連体形
- ⑤ 已然形
- ⑥ 命令形

問十 本文の内容に合致するものとして、最も適当なものを一つ選び、マークしなさい。解答番号は 。

- ⑤ ④ ③ ② ①



問十一 よりも早い時代に成立したものを一つ選び、マークしなさい。解答番号は 。

- ① 源氏物語 ② 方丈記 ③ 徒然草 ④ 万葉集 ⑤ 和漢朗詠集

三ウ 次の文章を読み、後の問に答えなさい。(設問の関係上訓点を省いた部分がある)


著作権上の都合により非公開


著作権上の都合により非公開


問一 傍線部分(1) 、(7)  の意味として、最も適当なものをそれぞれ一つ選び、マークしなさい。解答番号は


(1) 、(7) 。


(7) (1)

①  ⑤ ④ ③ ② ①

② 

③  著作権上の都合により非公開

④ 

⑤ 

問二 傍線部分(2)  の書き下し文として、最も適当なものを一つ選び、マークしなさい。解答番号は 。

⑤ ④ ③ ② ①



著作権上の都合により非公開

問三 傍線部分(3) の読み方として、最も適当なものをそれぞれ一つ選び、マークしなさい。解答番号は

(3) 、(5) 。

- (3) ①
- (5) ②
- ③
- ④
- ⑤

⑤ ④ ③ ② ①

著作権上の都合により非公開

問四 傍線部分(4) の読み方として、最も適当なものを一つ選び、マークしなさい。解答番号は 。

⑤ ④ ③ ② ①

著作権上の都合により非公開

問五 傍線部分(6)

は、

と書き下すことができる。傍線部分(6)に付ける返り点として、最も適当なものを一つ選び、マークしなさい。

解答番号は 。

- ⑤ ④ ③ ② ①

著作権上の都合により非公開

問六

本文の内容に合致するものを二つ選び、マークしなさい。解答番号は 。(解答欄一行に二つマークすること)

- ⑧ ⑦ ⑥ ⑤ ④ ③ ② ①

著作権上の都合により非公開

この頁は白紙です