

令和8年度入学試験問題

受験上の注意

1. 監督の指示により、解答用紙に受験番号（算用数字）、氏名、フリガナ、解答する科目を記入し、受験番号、該当する試験日、解答する科目をマークしてください。記入については解答用紙の注意事項に従ってください。
2. 問題冊子と解答用紙の解答番号を間違えないように注意してください。
3. 各科目のページは、次のとおりです。試験開始の合図があったら、まず受験する科目のページ数を確認してください。

科目	ページ
日本史	2～10
世界史	12～28
地理	32～48
公民	50～68
国語	72～87

4. 試験時間中は、受験票を机上の受験番号の下に呈示しておいてください。
5. 質問、その他用件があるときは、手を挙げて合図してください。
6. 試験時間中の退室は認めません。
7. 試験時間は地理歴史・公民と国語で80分です。
8. この問題冊子は持ち帰ってください。

開始の合図があるまで開かないでください

世界史

〔 I 〕 次のア・イの文章を読み、下記の問1～問10に答えなさい。解答番号は 51
～ 60

ア 社会道徳を習得するために女性が大役を担うことを、誰が否定することができようか。・・・母として女性は人間性を最初に育てる人である。(a)子供は初め母の膝の上で感じることを、考えること、話すことを学ぶ。初期の躰しつけは生涯を通じて極めて重要である。人の心に(b)善と悪の種を最初に播くのは母であり、生涯にわたりそれを持ち続けることは稀ではない。今、(c)ジャワの母親が教育の無いままに、どうして子供を教育することができようか。女性が取り残された状態でその務めを果たさなければ、ジャワ人の教化と啓発は決して進展しない。

(富永泰代『小さな学校』京都大学学術出版会)

問1 アの文章は、19世紀末のジャワで女性の自由や教育の機会を主張し、またそのために地場産業の振興にも尽力した人物の残した言葉である。この人物の名として最も適切なものを、次の①～⑥から一つ選び、その番号をマークしなさい。

51

- | | |
|----------------|---------------|
| ① アウン=サン=スー=チー | ② オランプ=ド=グージュ |
| ③ カルティニ | ④ 蔡英文 |
| ⑤ マリア=テレジア | ⑥ リリウオカラニ |

問2 問1で問うた人物の写真または肖像画として最も適切なものを、次の①～⑥から一つ選び、その番号をマークしなさい。 52



①



②



③



④



⑤



⑥

(②④：サイネットフォト)

問3 アの文章は、子どもの教育には教育を受けた母親が不可欠であるという主張である。18世紀半ばのフランスでは、『社会契約論』を出版したことで知られる人物が、『エミール』と題した本のなかで、女性には男性を支えて補うような教育をすべきだと述べている。この人物の名として最も適切なものを、次の①～⑤から一つ選び、その番号をマークしなさい。 53

- ① ヴォルテール ② グロティウス ③ ダントン
④ モンテスキュー ⑤ ルソー

問4 下線部(a)に関連し、次に述べた文 a・b の正誤を判断し、その組み合わせとして最も適切なものを、下記の①～④から一つ選び、その番号をマークしなさい。

54

a 18世紀後半のイギリスでは、技術革新により工場に機械が導入されると、熟練労働は不要になり、低賃金で雇える女性や子どもが劣悪な環境のもとで働かされるようになった。

b 1833年のイギリスの工場法により、子どもの労働に制限が設けられた。

- ① a：正 b：正 ② a：正 b：誤
③ a：誤 b：正 ④ a：誤 b：誤

問5 下線部(b)に関連し、世界の宗教について述べた次の文①～⑤から誤っているものを一つ選び、その番号をマークしなさい。 55

- ① 古代ローマの皇帝によって迫害されたキリスト教徒は、カタコンベ（地下墓所）を利用して礼拝を続けた。
② マニ教は、ゾロアスター教や仏教、キリスト教の融合によって生み出された。
③ ゾロアスター教の教典『アヴェスター』はササン朝の時代に編纂された。
④ アウグスティヌスは、青年期にマニ教の影響を受けた。
⑤ 唐に伝えられたマニ教は、祆教と呼ばれた。

問6 下線部(c)に関連し、ジャワ島について述べた次の文①～⑤から誤っているものを一つ選び、その番号をマークしなさい。 56

- ① 西部にバタヴィアが建設され、そこに東インド総督が置かれた。
② 東インド会社の解散後もイギリス本国の直轄領として支配され続けた。
③ 1830年以降、コーヒー・サトウキビ・藍など特定の作物の栽培が強制された。
④ 19世紀になると、王族による反乱の鎮圧のため、本国の財政が悪化した。
⑤ 1942年、日本軍によりスマトラとともに占領された。

イ 前 文 母親・娘・姉妹たち、国民の女性代表者たちは、国民議会の構成員となることを要求する。そして、女性の諸権利に対する無知、忘却または軽視が、公の不幸と政府の腐敗の唯一の原因であることを考慮して、女性の譲りわたすことのできない神聖な自然的権利を、厳粛な宣言において提示することを決意した。

第1条 女性は、自由なものとして生まれ、かつ、権利において男性と平等なものとして生存する。

第3条 あらゆる主権の淵源は、本質的に国民にあり、国民とは、女性と男性との結合にほかならない。

第13条 公の武力の維持および行政の支出のための、女性と男性の租税の負担は平等である。女性は、すべての賦役とすべての激務に貢献する。したがって、女性は、(男性と) 同等に、地位・雇用・負担・位階・職業に参加しなければならない。

(オリヴィエ・ブラン、辻村みよ子訳『女の人権宣言』岩波書店)

問7 イの文章は、「フランス人権宣言」(1789年)には女性の権利が保障されていないと考えた人物が、女性の権利も宣言に盛り込まれるべきことを求めて作成した「女性および女性市民の権利宣言」(全17条)から抜粋したものである。この宣言を作成した人物の名として最も適切なものを、次の①～⑥から一つ選び、その番号をマークしなさい。 57

- | | |
|----------------|---------------|
| ① アウン=サン=スー=チー | ② オランプ=ド=ゲージュ |
| ③ カルティニ | ④ 蔡英文 |
| ⑤ マリア=テレジア | ⑥ リリウオカラニ |

問8 問7で問うた人物の写真または肖像画として最も適切なものを、問2の①～⑥から一つ選び、その番号をマークしなさい。 58

問9 イの宣言を作成した人物は、最後は、国王の処刑に反対した^{とが}咎により反逆罪に問われて1793年に処刑された。当時、政府の主導権をにぎり、恐怖政治をおこなっていたある人物も翌年には断頭台の露と消えた。この人物の名として最も適切なものを、次の①～⑤から一つ選び、その番号をマークしなさい。 59

- ① コペルニクス ② ナポレオン ③ マリ=アントワネット
④ ラ=ファイエット ⑤ ロベスピエール

問10 イは、女性の参政権を要求する先駆的な文章とみなすことができるが、男女区別のない普通選挙権が実現していくのは、19世紀末以降のことである。下図は、1893年に世界に先駆けて女性の普通選挙権が認められた国で、そこに至る女性参政権獲得のための運動の中心にいたケイト=シェパードを描いた紙幣（部分）である。この紙幣を発行した国の名として最も適切なものを、下記の①～⑤から一つ選び、その番号をマークしなさい。 60



(Reserve Bank of New Zealand)

- ① アメリカ合衆国 ② イギリス ③ カナダ
④ ニュージーランド ⑤ フィンランド

〔Ⅱ〕 次の写真A～Eについて述べた文章を読み、下記の問1～問15に答えなさい。

解答番号は ～

写真A



写真Aは、1869年のフランスで発行された5フラン銀貨で、描かれている人物はナポレオン3世（在位1852～70）である。彼は、下の1848年12月に実施された大統領選挙で当選し、1851年のクーデタで独裁権力をにぎり、翌1852年に国民投票によって皇帝に即位した。(a)彼は、本格的な工業化の推進とともに積極的な対外政策をおこなったが、(b)プロイセンとの戦争に敗れ、1870年に退位した。

問1 に入る政体の名称として最も適切なものを、次の①～⑤から一つ選び、その番号をマークしなさい。

- ① 七月王政 ② 第一共和政 ③ 第二共和政
④ 第三共和政 ⑤ ブルボン復古王政

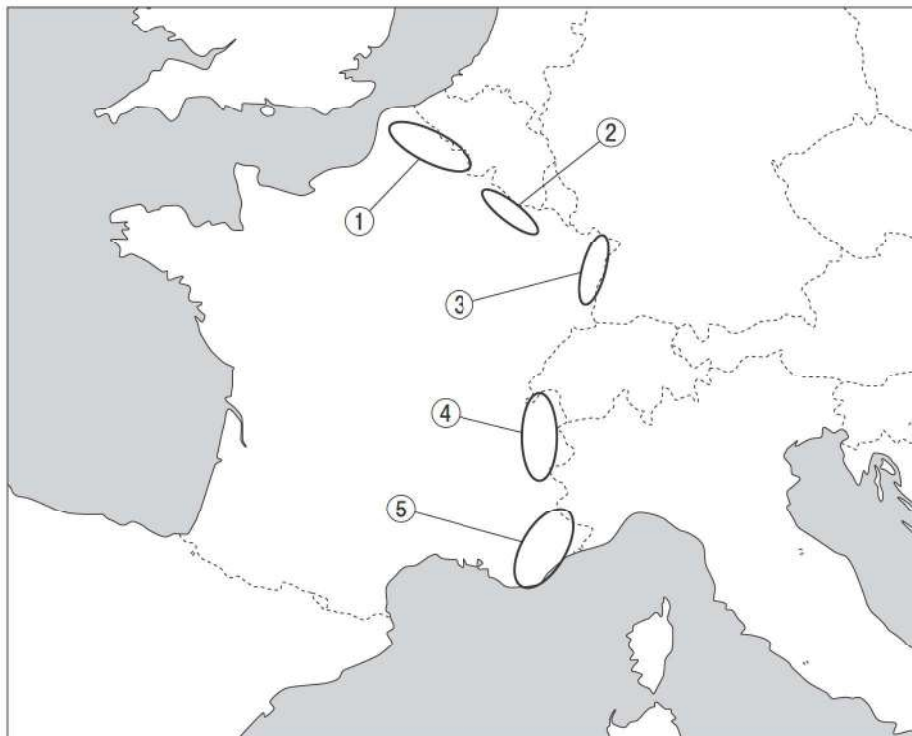
問2 下線部(a)について述べた次の文 a～c の正誤を判断し、その組み合わせとして最も適切なものを、下記の①～⑧から一つ選び、その番号をマークしなさい。

62

- a パリ改造を命じて道路を整備し、地下に上下水道を建設させた。
- b オスマン帝国を支援してクリミア戦争に参戦した。
- c イギリスとともにアロー戦争を開始し、清国との間に南京条約を締結した。

- | | | | | | | | |
|---|-------|-------|-------|---|-------|-------|-------|
| ① | a : 正 | b : 正 | c : 正 | ② | a : 正 | b : 正 | c : 誤 |
| ③ | a : 正 | b : 誤 | c : 正 | ④ | a : 正 | b : 誤 | c : 誤 |
| ⑤ | a : 誤 | b : 正 | c : 正 | ⑥ | a : 誤 | b : 正 | c : 誤 |
| ⑦ | a : 誤 | b : 誤 | c : 正 | ⑧ | a : 誤 | b : 誤 | c : 誤 |

問3 下線部(b)の戦争で敗れたフランスはプロイセンに対して多額の賠償金を課されたほか、アルザス・ロレーヌ地方の一部を割譲させられた。アルザス地方の位置として最も適切なものを、次の地図（国境は現在）中の①～⑤から一つ選び、その番号をマークしなさい。 **63**



(<http://www.craftmap.box-i.net/>)

写真B



写真Bは、1909年のイギリスで発行された1/2ペニー銅貨で、左の写真に描かれている人物はエドワード7世（在位1901～10）である。母の□イ□を継いで国王となった。(c)彼の在位中のイギリスでは、諸外国との関係の強化がはかられた。

問4 □イ□に入る【女王名】（A～C）と、彼女の治世中の【出来事】（x～z）の組み合わせとして最も適切なものを、下記の①～⑨から一つ選び、その番号をマークしなさい。 □64□

【女王名】

A：ヴィクトリア女王 B：エリザベス1世 C：メアリ1世

【出来事】

x：アイルランド自治法が成立した。

y：カトリック教徒解放法により、カトリック教徒が公職につけるようになった。

z：2度の選挙法改正により、選挙権が都市労働者、さらには農業労働者へ拡大した。

- | | | |
|-------|-------|-------|
| ① A—x | ② A—y | ③ A—z |
| ④ B—x | ⑤ B—y | ⑥ B—z |
| ⑦ C—x | ⑧ C—y | ⑨ C—z |

問5 下線部(c)のエドワード7世の在位中におきた世界の出来事に含まれないものを、次の①～⑤から一つ選び、その番号をマークしなさい。 65


- ① 第1次モロッコ事件がおきた。
- ② イラン立憲革命がおきた。
- ③ 青年トルコ革命がおきた。
- ④ 血の日曜日事件がおきた。
- ⑤ ファショダ事件がおきた。

問6 下線部(c)の諸外国との関係の強化について述べた次の文 a～c の正誤を判断し、その組み合わせとして最も適切なものを、下記の①～⑧から一つ選び、その番号をマークしなさい。 66

- a 「光荣ある孤立」政策を転換して最初に締結したのが日英同盟であった。
- b 日英同盟締結の背景には、オスマン帝国による中央アジアへの進出があった。
- c ドイツの対外進出に脅威をいだき、フランスとの間に英仏協商を締結した。

- | | | | | | |
|---------|-------|-------|---------|-------|-------|
| ① a : 正 | b : 正 | c : 正 | ② a : 正 | b : 正 | c : 誤 |
| ③ a : 正 | b : 誤 | c : 正 | ④ a : 正 | b : 誤 | c : 誤 |
| ⑤ a : 誤 | b : 正 | c : 正 | ⑥ a : 誤 | b : 正 | c : 誤 |
| ⑦ a : 誤 | b : 誤 | c : 正 | ⑧ a : 誤 | b : 誤 | c : 誤 |

写真C



写真Cは、第一次世界大戦直前のドイツ帝国で発行（1910年）された1000マルク紙幣である。当時のドイツ帝国皇帝はヴィルヘルム2世（在位1888～1918）であった。彼は即位後、社会主義者鎮圧法の延長問題で対立した^(d)宰相のビスマルクを辞職させ、その後、「」と呼ばれる積極的な対外膨張政策をおこなった。国内では、社会主義者鎮圧法の廃止後、ドイツ社会主義労働者党はドイツと改称し、1912年の議会選挙の結果、第一党となった。

問7 下線部(d)について述べた次の文a～eには誤っているものが二つある。その組み合わせとして最も適切なものを、下記の①～⑩から一つ選び、その番号をマークしなさい。

- a 彼は、ユンカーの出身であった。
- b 彼の軍備拡張政策は「鉄血政策」と呼ばれた。
- c 帝国の宰相となった彼は、議会にのみ責任を負った。
- d 彼は、カトリック教徒を保護する「文化闘争」を展開した。
- e ロシア=トルコ（露土）戦争後、彼は調停役となってベルリン会議を開催した。

- ① aとb ② aとc ③ aとd ④ aとe ⑤ bとc
- ⑥ bとd ⑦ bとe ⑧ cとd ⑨ cとe ⑩ dとe

問8 ・に入る語の組み合わせとして最も適切なものを、次の①～

⑨から一つ選び、その番号をマークしなさい。


- | | | |
|---|---------|---------|
| ① | ウ：世界政策 | エ：社会民主党 |
| ② | ウ：世界政策 | エ：社会革命党 |
| ③ | ウ：世界政策 | エ：労働党 |
| ④ | ウ：大躍進政策 | エ：社会民主党 |
| ⑤ | ウ：大躍進政策 | エ：社会革命党 |
| ⑥ | ウ：大躍進政策 | エ：労働党 |
| ⑦ | ウ：宥和政策 | エ：社会民主党 |
| ⑧ | ウ：宥和政策 | エ：社会革命党 |
| ⑨ | ウ：宥和政策 | エ：労働党 |

問9 ヴィルヘルム 2 世による について述べた次の文 a～c の正誤を判断し、その組み合わせとして最も適切なものを、下記の①～⑧から一つ選び、その番号をマークしなさい。

- a ロシア・イギリスとともに、日清戦争後の日本に対し三国干渉をおこなった。
- b フランスとの間で建艦競争を始めた。
- c パン=ゲルマン主義を掲げ、バルカン半島への進出をはかった。

- | | | | | | | | |
|---|-----|-----|-----|---|-----|-----|-----|
| ① | a：正 | b：正 | c：正 | ② | a：正 | b：正 | c：誤 |
| ③ | a：正 | b：誤 | c：正 | ④ | a：正 | b：誤 | c：誤 |
| ⑤ | a：誤 | b：正 | c：正 | ⑥ | a：誤 | b：正 | c：誤 |
| ⑦ | a：誤 | b：誤 | c：正 | ⑧ | a：誤 | b：誤 | c：誤 |

写真D



第一次世界大戦のさなかにロマノフ朝が二月革命（ロシア暦）で滅亡した。写真Dは、その翌年（1918年）に発行された100ルーブル紙幣である。二月革命でロマノフ朝の最後の皇帝 が退位すると、臨時政府が樹立された。しかしその後、スイスから帰国した らが中心となった武装蜂起があり、^(e)新たなソヴィエト政権が誕生した（ロシア暦十月革命）。この革命政権は1918年3月、ドイツとの間に単独で 条約を結び戦線から離脱した。

問10 ～ に入る語の組み合わせとして最も適切なものを、次の①～

⑨から一つ選び、その番号をマークしなさい。

- | | | |
|---------------|---------|--------------|
| ① オ：アレクサンドル2世 | カ：スターリン | キ：ヴェルサイユ |
| ② オ：アレクサンドル2世 | カ：トロツキー | キ：ブレスト=リトフスク |
| ③ オ：アレクサンドル2世 | カ：レーニン | キ：ラパロ |
| ④ オ：ニコライ2世 | カ：スターリン | キ：ラパロ |
| ⑤ オ：ニコライ2世 | カ：トロツキー | キ：ヴェルサイユ |
| ⑥ オ：ニコライ2世 | カ：レーニン | キ：ブレスト=リトフスク |
| ⑦ オ：ピョートル3世 | カ：スターリン | キ：ブレスト=リトフスク |
| ⑧ オ：ピョートル3世 | カ：トロツキー | キ：ラパロ |
| ⑨ オ：ピョートル3世 | カ：レーニン | キ：ヴェルサイユ |

問11 下線部(e)の政権が誕生した際、全交戦国に対して「平和に関する布告」が発表された。この布告の内容について述べた文として正しいものを、次の①～⑤から一つ選び、その番号をマークしなさい。

- ① 秘密外交の廃止・海洋の自由を呼びかけた。
- ② 「連ソ・容共・扶助工農」による平和的な革命を呼びかけた。
- ③ 無併合・無償金・民族自決の原則による和平を呼びかけた。
- ④ 大戦以前の政治秩序にもどすことを呼びかけた。
- ⑤ 軍備の縮小・植民地問題の公正な解決を呼びかけた。

写真E



写真Eは、オーストリアを併合した年（1938年）にナチス政権下のドイツで発行された2マルク銀貨であり、描かれている人物はヴァイマル共和国大統領であったヒンデンプルク（在職1925～34）である。彼は、第一次世界大戦の際、ロシア軍を の戦いで破って国民的英雄となった。大戦後、ドイツでは^(f)ヴァイマル共和国が成立（1919年）し、初代大統領には が就任した。しかし、1923年、ドイツ経済は破綻し、空前のインフレーションに見舞われ、同年首相となった の政策による Rentenマルクの発行などもあって、インフレは急速に収束した。 の死後、大統領となったヒンデンプルクは、 の外交手腕により実現した 条約に調印（1925年）し、翌年には^(g)国際連盟に加入したが、その後の世界恐慌の影響もあって、ナチスの台頭を許した。

問12 ～に入る語の組み合わせとして最も適切なものを、次の①～

⑨から一つ選び、その番号をマークしなさい。

- | | | | |
|---|-----------|---------|-----------|
| ① | ク：ソンム | ケ：ウィルソン | コ：シュトレゼマン |
| ② | ク：ソンム | ケ：ブリアン | コ：クレマンソー |
| ③ | ク：ソンム | ケ：エーベルト | コ：マクドナルド |
| ④ | ク：タンネンベルク | ケ：ウィルソン | コ：マクドナルド |
| ⑤ | ク：タンネンベルク | ケ：ブリアン | コ：クレマンソー |
| ⑥ | ク：タンネンベルク | ケ：エーベルト | コ：シュトレゼマン |
| ⑦ | ク：マルヌ | ケ：ウィルソン | コ：クレマンソー |
| ⑧ | ク：マルヌ | ケ：ブリアン | コ：マクドナルド |
| ⑨ | ク：マルヌ | ケ：エーベルト | コ：シュトレゼマン |


問13 下線部(f)ではヴァイマル憲法が発布された。当時の世界で最も民主的とされるこの憲法に定められた項目として最も適切なものを、次の①～⑤から一つ選び、その番号をマークしなさい。

- ① 男女雇用の機会均等
- ② 永世中立
- ③ 大統領の10年任期制
- ④ 男女16歳以上の選挙権
- ⑤ 非常時における大統領の大権（大統領緊急令）

問14 に入る条約名と、その条約に関わっていない国名の組み合わせとして最も適切なものを、次の①～⑨から一つ選び、その番号をマークしなさい。

- | | |
|------------------|-----------------|
| ① サン=ジェルマンとトルコ | ② サン=ジェルマンとベルギー |
| ③ サン=ジェルマンとポーランド | ④ トリアノンとトルコ |
| ⑤ トリアノンとベルギー | ⑥ トリアノンとポーランド |
| ⑦ ロカルノとトルコ | ⑧ ロカルノとベルギー |
| ⑨ ロカルノとポーランド | |

問15 下線部(g)の国際連盟への主要国の加盟状況を示した次の年表で、国際連盟と主要国 (i) ~ (iv) について述べた文 a ~ e には誤っているものが二つある。その組み合わせとして最も適切なものを、下記の①~⑩から一つ選び、その番号をマークしなさい。 75



- a 国際連盟の本部は、スイスのジュネーヴに置かれた。
- b (i) の大統領は国際平和機構の発足を提唱したが、加盟を決議した議会（上院）との対立から拒否権を発動して加盟しなかった。
- c (ii) は発足当初から常任理事国であったが、満洲事変をきっかけに連盟を脱退した。
- d (iii) は発足当初から常任理事国であったが、アルジェリアへ侵攻したため、連盟が経済制裁を決議すると、脱退した。
- e (iv) はファシズム諸国の脅威が高まるなかで加盟が認められたが、フィンランドへ侵攻したため、連盟から除名された。

- ① a と b
- ② a と c
- ③ a と d
- ④ a と e
- ⑤ b と c
- ⑥ b と d
- ⑦ b と e
- ⑧ c と d
- ⑨ c と e
- ⑩ d と e