

令和8年度入学試験問題

受験上の注意

1. 監督の指示により、解答用紙に受験番号（算用数字）、氏名、フリガナ、解答する科目を記入し、受験番号、該当する試験日、解答する科目をマークしてください。記入については解答用紙の注意事項に従ってください。
2. 問題冊子と解答用紙の解答番号を間違えないように注意してください。
3. 各科目のページは、次のとおりです。試験開始の合図があったら、まず受験する科目のページ数を確認してください。

科目	ページ
日本史	2～10
世界史	12～28
地理	32～48
公民	50～68
国語	72～87

4. 試験時間中は、受験票を机上の受験番号の下に呈示しておいてください。
5. 質問、その他用件があるときは、手を挙げて合図してください。
6. 試験時間中の退室は認めません。
7. 試験時間は地理歴史・公民と国語で80分です。
8. この問題冊子は持ち帰ってください。

開始の合図があるまで開かないでください

公民

〔 I 〕 次の文は、R大学で同じゼミナール（ゼミ）に所属するサオリさんとエミさんの会話である。これを読み、以下の問1～問10に答えなさい。解答番号は 51
～ 60

- サオリ：今度一緒に行こうって約束していたライブ、行けなくなるかもしれない。
- エミ：えっ！サオリ、前からすごく楽しみにしてたのに、急にどうしたの？
- サオリ：昨日、自宅に裁判員選任手続期日のお知らせが届いたんだ。もし a 裁判員に選ばれると、裁判とライブの日程がかぶりそうで、今回のライブは諦めようかなと思って。
- エミ：そういう事情だったんだ。私もゼミの発表が近いし、また別の機会にチケット取り直して一緒に行こうよ。
- サオリ：ほんと？ありがとう！ところでエミは、ゼミの発表テーマは何にする予定？
- エミ：去年6月、懲役刑と禁固刑が一本化されて「X」になったじゃない？それで、「日本における刑事司法の現状と課題」について調べてみようと思ってる。
- サオリ：この前の授業内容を発展させる感じのテーマよね？めちゃくちゃ興味ある！
- エミ：そう、それ！2000年代以降、司法制度改革がおこなわれてるって授業で聞いたじゃない？調べてみたら、想像してたより b いろんな具体的な制度改革がおこなわれてるんだよね。
- サオリ：今度、私が参加するかもしれない裁判員制度もその一つでしょ？
- エミ：うん、2009年に導入されてるから、もう15年以上になるね。ただ、c 裁判員制度の実施には、これまでに疑問の声があがったこともあったみたい。
- サオリ：すでに運用されてる制度っていても、絶えず考える余地はあるってことね。
- エミ：ほんと、そうだよ。あと、近年の刑事司法で「少年事件」への対応も注目ポイントだと思うんだよね。犯罪の低年齢化や凶悪化が指摘されて少年事件の厳罰化がすすんでるっていうのが近年の大きな流れではあるんだけど、いっぽうで統計上では、少年による犯罪件数は、20年前と比べれば結構減ってるし……。まだうまく説明できないんだけど、なんか本当にそれで良いのかなって漠然と

引っかかってて。まずは、d なんで少年事件が成人の事件と区別されているの
かっていう基本的な背景を、ちゃんと整理するところから始めてみようかなと
思ってる。そういうサオリの発表テーマは？

サオリ：私は「外国人との共生」について調べてるんだ。

エ ミ：観光で来日する人も多くなってきたなって思うけど、e 日本に暮らしている外
国人、よく見かけるよね。

サオリ：そうそう。私のバイト先の同僚でも外国の人が多くて。もう何年も日本で暮ら
してるって人も少なくないんだよね。家族も一緒に日本で暮らしてて。

エ ミ：私のバイト先にも多いよ！いろんな国から来てるから、いろんな国の言葉を教
えてもらえて、結構楽しいんだよね。

サオリ：ちょっと前に、バイト先の先輩で、仲のいい外国人の友達と一緒にご飯食べに
行ったんだ。話の流れで「なんで日本に来たの？」って聞いたら、その人は、
結婚を機に来日したんだって。

エ ミ：国際結婚なんだ！

サオリ：うん。でも、その人の母国の事情は深刻そうで……。隣の国で f 武力紛争だっ
たり、宗教とか民族とかを理由にした弾圧があつたりして、それを逃れてきた
人びとが多く流入してるんだって。

エ ミ：それって難民ってことだよね。そういえば、g 日本は、難民の受け入れに消極
的だって聞いたことあるよ。

サオリ：そうなの。ほかの国に比べて難民認定の基準が厳しいんだよね。だから、日本
に住んでる外国人っていうと、おもに外国人労働者をイメージすることが多い
かな。

エ ミ：なるほどね。あっ、それと日本で生まれ育った外国人も少なくないよね。結局、
民族とか言語とか宗教とか、いろんな背景をもつ人たちが同じ社会で共生して
いくためには、h どの文化が優れてるとか劣ってるとかじゃなくて、それぞれ
の文化には固有の価値があつて、それをお互いに批判しない姿勢がまずは大事
だと思うな。もちろん、それはそれで別の問題が出てくるかもしれないけど。

サオリ：同感。エミがいう姿勢を実現するためにも、マイノリティになりがちな人たち

とマジョリティが、合理的な理由とか根拠をちゃんと示しながら対話を重ねて、お互いに納得したり、自分の意見を再考したりしながら合意を形づくってく……、そうやって多数決による決定が暴走しないようにする「民主主義」っていう政治のあり方も、ゼミの発表では触れようと思ってるよ。

問1 文中の空欄に入る最も適切なものを、下記から一つ選び、マークしなさい。解答番号は

- ① 矯正刑
- ② 保護刑
- ③ 拘禁刑
- ④ 指導刑

問2 文中の空欄に入る最も適切なものを、下記から一つ選び、マークしなさい。解答番号は

- ① 専制
- ② 代表
- ③ 市民
- ④ 熟議

問3 文中の下線部 a に関連して、下の表は、刑事事件について国民の司法参加をめぐる各国の制度を比較したものである。表中の空欄 ～ に入る語句の組み合わせとして最も適切なものを、下記から一つ選び、マークしなさい。解答番号は

	裁判員制度（日本）	陪審制度（アメリカ）	参審制度（ドイツ）
参加者の資格	◆18歳以上 ◆ <input type="text" value="A"/>	◆18歳以上 ◆事件ごと	◆政党等からの推薦を受けた25歳以上 ◆任期5年
裁判体の構成	裁判員6人 + 裁判官3人	陪審員12人	参審員2人 + 裁判官3人 (地裁大刑事部の場合)
権限	◆有罪・無罪の判断 ◆量刑判断を <input type="text" value="B"/>	◆有罪・無罪の判断 ◆量刑判断をおこなわない	◆有罪・無罪の判断 ◆量刑判断をおこなう
評決	原則多数決	原則全員一致	有罪には3分の2以上の賛成
被告人の選択権	なし	あり	なし
守秘義務	<input type="text" value="C"/>	評決後は原則なし	あり

- ① A：任期3年 B：おこなう C：あり
 ② A：任期3年 B：おこなう C：なし
 ③ A：任期3年 B：おこなわない C：あり
 ④ A：任期3年 B：おこなわない C：なし
 ⑤ A：事件ごと B：おこなう C：あり
 ⑥ A：事件ごと B：おこなう C：なし
 ⑦ A：事件ごと B：おこなわない C：あり
 ⑧ A：事件ごと B：おこなわない C：なし

問4 文中の下線部bに関する記述として最も適切なものを、下記から一つ選び、マークしなさい。解答番号は

- ① 逮捕された被疑者を、拘置所ではなく、警察署内の留置場に留めおくこと（いわゆる「代用監獄」）が通例化していたが、このことが自白の強要などにつながるとして問題視され、いっさい禁止された。
- ② ロースクール（法科大学院）は、弁護士や裁判官などの資格を有する法律家が、専門的知識を深めるための学び直しを目的として設置された。
- ③ 裁判の迅速化と裁判にかかるコストの節約を目的として、軽微な刑事事件については、裁判外紛争解決手続（ADR）によって、中立的な第三者が解決できるようになった。
- ④ 自白の強要などによって冤罪が生じることがないように、取調べの可視化（録音・録画など）がおこなわれており、とくに裁判員裁判の対象となる事件では義務化されている。

問5 下の枠内の各文章は、文中の下線部cに関する記述である。ア～ウのそれぞれの記述内容と、それに関連が深い日本国憲法の条文〔資料〕の組み合わせとして最も適切なものを、下記から一つ選び、マークしなさい。解答番号は 55

- ア 裁判員をつとめた人が、遺体の写真を証拠として見たことで、急性ストレス症を患うなど、心理的負担を感じた。
- イ 裁判官は、裁判員の判断に拘束されたり、影響されたりする可能性がある。
- ウ 被告人は、自分の意思にかかわらず、法曹資格のある職業裁判官と、資格のない裁判員の合議による裁判を受けなければならない。

〔資料〕

第18条 何人も、いかなる奴隷的拘束も受けない。又、犯罪に因る処罰の場合を除いては、その意に反する苦役に服させられない。

第32条 何人も、裁判所において裁判を受ける権利を奪はれない。

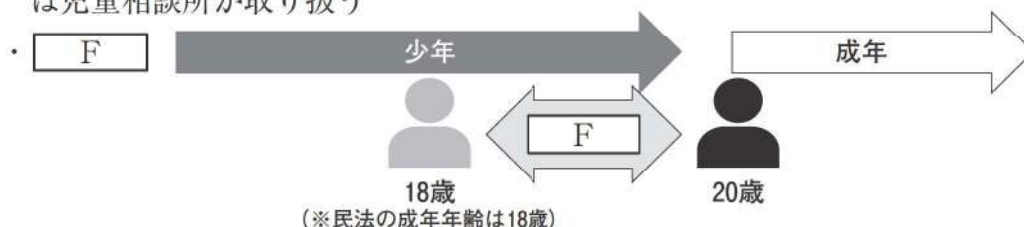
第76条3項 すべて裁判官は、その良心に従ひ独立してその職権を行ひ、この憲法及び法律にのみ拘束される。

- | | | | |
|---|----------|----------|----------|
| ① | ア：第18条 | イ：第32条 | ウ：第76条3項 |
| ② | ア：第18条 | イ：第76条3項 | ウ：第32条 |
| ③ | ア：第32条 | イ：第18条 | ウ：第76条3項 |
| ④ | ア：第32条 | イ：第76条3項 | ウ：第18条 |
| ⑤ | ア：第76条3項 | イ：第18条 | ウ：第32条 |
| ⑥ | ア：第76条3項 | イ：第32条 | ウ：第18条 |

問6 文中の下線部dについて、下の図は、エミさんがゼミの発表に向けて作成しているスライドの一部である。図中の空欄 ～ に入る語句の組み合わせとして最も適切なものを、下記から一つ選び、マークしなさい。解答番号は

「少年法」とは？

- アメリカにおける「保護の欠けた少年に対し、親に代わって国が保護する思想」
- 少年法（1948年・日本）
 - ・ 年少者の特性に応じた 、保護、更生を重視（可塑性の高さ）
- 重大・凶悪犯罪を犯した年少者へ世論からの異論・反発（厳罰化の要請）
- 対象となる事件はすべて へ送られる（全件送致主義）
- 少年法の対象となる「少年」
 - ・ 犯罪少年
 - ： 14歳以上で刑罰法令に触れる行為をした少年
 - ・ ぐ犯少年 ※ぐ犯性（＝非行予測、ただし定義はあいまい）
 - ： 家出や不純異性交遊などを繰り返し将来犯罪を犯す恐れがある少年
 - ・ 触法少年（14歳未満で刑罰法令に触れる行為をした者）や14歳未満のぐ犯少年は児童相談所が取り扱う



- ① D：懲罰 E：地方裁判所 F：特定少年
- ② D：懲罰 E：地方裁判所 F：特別少年
- ③ D：懲罰 E：家庭裁判所 F：特定少年
- ④ D：懲罰 E：家庭裁判所 F：特別少年
- ⑤ D：教育 E：地方裁判所 F：特定少年
- ⑥ D：教育 E：地方裁判所 F：特別少年
- ⑦ D：教育 E：家庭裁判所 F：特定少年
- ⑧ D：教育 E：家庭裁判所 F：特別少年

問7 文中の下線部 e に関連して、日本における外国人の権利と義務に関する説明として最も適切なものを、下記から一つ選び、マークしなさい。解答番号は 57

- ① 永住資格をもつ外国人は、国政選挙に投票できる。
- ② 納税の義務は、国籍に関係なく課せられる。
- ③ 難民として認定されても、国民健康保険と国民年金には加入できない。
- ④ 外国籍の人は、公立小中学校の常勤講師にはなれない。

問8 文中の下線部 f に関連して、国際的な紛争や犯罪行為などを解決する機関に関する説明として適切でないものを、下記から一つ選び、マークしなさい。解答番号は 58

- ① 1945年に設立された国際司法裁判所は、国家間の紛争を対象としており、紛争時における個人の犯罪を裁くことができなかったことから、2003年、ローマ規程に基づいて国際刑事裁判所が新たに設立された。
- ② 国際刑事裁判所は、戦争犯罪やジェノサイドなど重大犯罪を裁くための、初めての常設的組織として意義があるが、当該裁判所の設置以前にも、人道に対する罪をめぐっては、国連安保理決議に基づく国際戦犯法廷が複数回設置された。
- ③ 国際司法裁判所では、国際社会における領土問題の平和的解決をはかることも期待されており、日本と韓国、日本とロシア間での領土問題についても、各国の合意に基づいて、国際司法裁判所に付託されている。
- ④ 南極海での日本の調査捕鯨について、日本はオーストラリアから提訴され、初めて国際司法裁判所の紛争当事国となった。

問9 文中の下線部 g に関連して、難民問題をめぐる日本の状況に関する記述として適切でないものを、下記から一つ選び、マークしなさい。解答番号は

- ① ベトナム戦争終結後、「インドシナ難民」の受け入れに消極的だった日本は、国際社会から非難を浴びた。こうした経緯から、日本は、1981年に「難民の地位に関する条約」（難民条約）に加入し、あわせて出入国管理法を改正して、難民認定にかかわる規定を定めた。
- ② 難民の国際的保護と救援活動をおこなう国連難民高等弁務官事務所（UNHCR）において、緒方貞子が日本人で初めて高等弁務官に就任し、難民問題に対する日本社会の関心を高めた。
- ③ 日本における難民の受け入れ体制をめぐっては、難民申請者に対する出入国在留管理庁施設（入管施設）における長期収容の問題などが指摘されており、国際的にも批判されている。そのため、2010年以降、日本への難民申請希望者数は減少しつづけている。
- ④ 難民を「人種、宗教、国籍もしくは特定の社会的集団の構成員であること、または政治的意見のために、その生命または自由が脅威にさらされるおそれのある領域の国境へ追放、送還してはならない」という国際法上のノン・ルフールマン原則に日本も拘束されている。

問10 文中の下線部 h の考え方をあらわす言葉として最も適切なものを、下記から一つ選び、マークしなさい。解答番号は

- ① 文化相対主義
- ② ポジティブ・アクション
- ③ 自民族中心主義
- ④ リプロダクティブ・ライツ

〔Ⅱ〕 次の文は、資本主義経済の発展と変容、およびそれにまつわる経済思想の変遷に関する記述である。これを読み、以下の問1～問11に答えなさい。解答番号は

61 ～ 75

資本主義は、18世紀後半の産業革命を経て、19世紀にイギリスで確立した。『国富論（諸国民の富）』を著した^a アダム・スミスは、国が豊かになるためには金銀などの貴金属の獲得と蓄積が不可欠だとする 61 を批判した。そして、国民の労働に由来する生産物こそが富であり、それを増大させるには分業が重要であることを説いた。さらに、私利私欲を追求する個人や企業の自由な経済活動は社会の秩序を損なうどころか、かえって「見えざる手」に導かれて社会全体の利益と発展に通じることを明らかにした。このようなスミスの考えは 62 という思想に基づいており、自由貿易論の基礎となるリカードの^b 比較生産費説などに引き継がれ、初期の資本主義経済の基本的な原理となった。

19世紀には産業革命は欧米各国や日本にも波及し、資本主義経済体制は世界的規模で確立することになった。^c 技術革新により生産力は飛躍的に発展し、^d 自由競争を勝ち抜いた少数の企業が巨大化することにより、19世紀末にはこうした巨大企業が経済を支配する 63 が出現した。巨大企業は、国内で過剰になった生産物の販路を国外に求めるようになり、国家の軍事力を後ろ盾として植民地獲得競争に乗り出すようになった。また、国内では貧富の格差や労働運動が社会問題になるとともに、^e 周期的に恐慌に見舞われるようになった。マルクスらはこのような資本主義経済のゆがみを批判し、これにかわる政治思想として社会主義を提唱した。1917年のロシア革命によって最初の^f 社会主義国であるソビエト連邦が誕生し、その後東欧諸国や中国などに広がった。

第一次世界大戦後の1920年代、アメリカは「永遠の繁栄」といわれる好景気に沸き、空前の株式投資ブームに起因する^g バブルが発生した。1929年のニューヨーク株式市場での株価大暴落に伴う世界恐慌により、資本主義は大きな転換期を迎えることになった。これを受けて、ケインズは、不況の原因は消費や投資などの有効需要の不足にあり、完全雇用を達成するためには政府が財政・金融政策によって^h 総需要を管理しなければならないと説いた。ケインズの考えは第二次世界大戦後に多くの国々で取り入れられ、西

側諸国の戦後復興に大きく貢献した。このように、市場経済を基本としつつ、政府がある程度介入して欠陥を補正する経済体制のことを と呼ぶ。

1970年代に入って石油危機による不況が深刻化すると、「大きな政府」に疑問が投げかけられるようになった。1970年代後半にフリードマンは、ケインズの政策がもたらした「大きな政府」による市場への介入をできるだけ限定して、規制緩和や公営企業の民営化によって市場の自動調整機能を重視する、「小さな政府」論を唱えた。こうした市場原理を重視した経済思想は と呼ばれる。1989年の冷戦終結後には市場経済が世界全体に拡大し、ヒト・モノ・カネ・情報が国境を越えて行き交うグローバリゼーションが進んだが、その一方で金融の自由化は、国際的な金融危機をたびたび引き起こし、労働自由化は所得格差を拡大させるなど、 はさまざまな負の遺産を残したといえる。

問1 文中の空欄 ～ に入る最も適切なものを、下記の語群からそれぞれ一つ選び、マークしなさい。解答番号は ～

[語群]

- | | | |
|------------|----------|----------|
| ① 社会契約説 | ② 産業資本主義 | ③ マネタリズム |
| ④ 重農主義 | ⑤ 保守主義 | ⑥ 独占資本主義 |
| ⑦ 実存主義 | ⑧ ケインズ主義 | ⑨ 民本主義 |
| ⑩ レッセ・フェール | ⑪ 功利主義 | ⑫ 共産主義 |
| ⑬ 干渉主義 | ⑭ 修正資本主義 | ⑮ 利己主義 |
| ⑯ リバタリアニズム | ⑰ 統制経済 | ⑱ 新自由主義 |
| ⑲ 重商主義 | ⑳ 保護主義 | |

問2 文中の下線部 a に関連して、アダム・スミスの国家観として最も適切なものを、
下記から一つ選び、マークしなさい。解答番号は

- ① 国家の権力を立法・司法・行政の三権に分け、それぞれが相互にコントロールし合う抑制と均衡が重要である。
- ② 国家が存在しない状態では闘争が絶えないので、人間は互いに契約を結んで国家をつくる必要がある。
- ③ 国家は、階級社会における支配階級の利益を守るための道具なので、労働者階級が権力を握り、階級対立を消滅させる必要がある。
- ④ 国家は、市場への介入を極力避け、国防、治安維持と司法、社会資本の維持管理のみをおこなうべきである。

問3 文中の下線部bに関連して、比較優位について考える。次の表は、日本とアメリカにおいて、自動車を1台とトウモロコシを1トン生産するのに必要な労働者数を示している。これらの生産には労働のみを用いる。また、各国の労働者は、これら二つの産業で全員が雇用されている。この表から読み取れる内容について、下の文章中の空欄 ～ に入る数や語句の組み合わせとして最も適切なものを、下記から一つ選び、マークしなさい。解答番号は

	自動車（1台）	トウモロコシ（1トン）
日本	6人	3人
アメリカ	10人	4人

日本が自動車を1台増産するためには、トウモロコシを生産している労働者を6人まわさなければならない。つまり、日本で自動車を1台増産するのにかかる費用は、トウモロコシ トン分である。同様に、アメリカで自動車を1台増産するのにかかる費用は、トウモロコシ トン分である。したがって、自動車の生産に比較優位があるのは である。

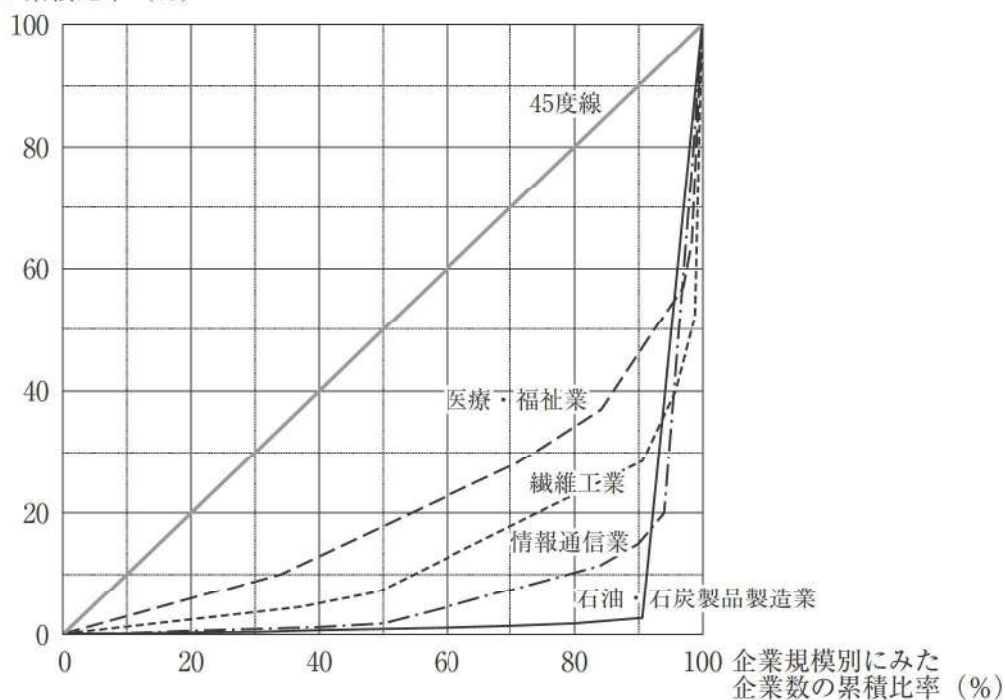
- ① ア 0.5 イ 0.4 ウ 日本
- ② ア 2 イ 2.5 ウ 日本
- ③ ア 0.5 イ 0.4 ウ アメリカ
- ④ ア 2 イ 2.5 ウ アメリカ

問4 文中の下線部cに関連して、ある財の市場において技術革新が起きたとき、需要曲線や供給曲線がどのように変化するかについて、最も適切なものを、下記から一つ選び、マークしなさい。解答番号は

- ① 需要曲線はそのまま、供給曲線だけが右に移動する。
- ② 需要曲線はそのまま、供給曲線だけが左に移動する。
- ③ 供給曲線はそのまま、需要曲線だけが右に移動する。
- ④ 供給曲線はそのまま、需要曲線だけが左に移動する。

問5 文中の下線部dに関連して、次の図は日本の産業における、2021年の企業規模（資本金規模）別にみた売上金額の比率を示したグラフである。横軸は小規模な企業から大規模な企業へ順に並べた場合の企業数の累積比率を、縦軸はそれら企業の売上金額の累積比率を表している。この図の説明として適切でないものを、下記から一つ選び、マークしなさい。解答番号は 69

売上金額の累積比率（%）

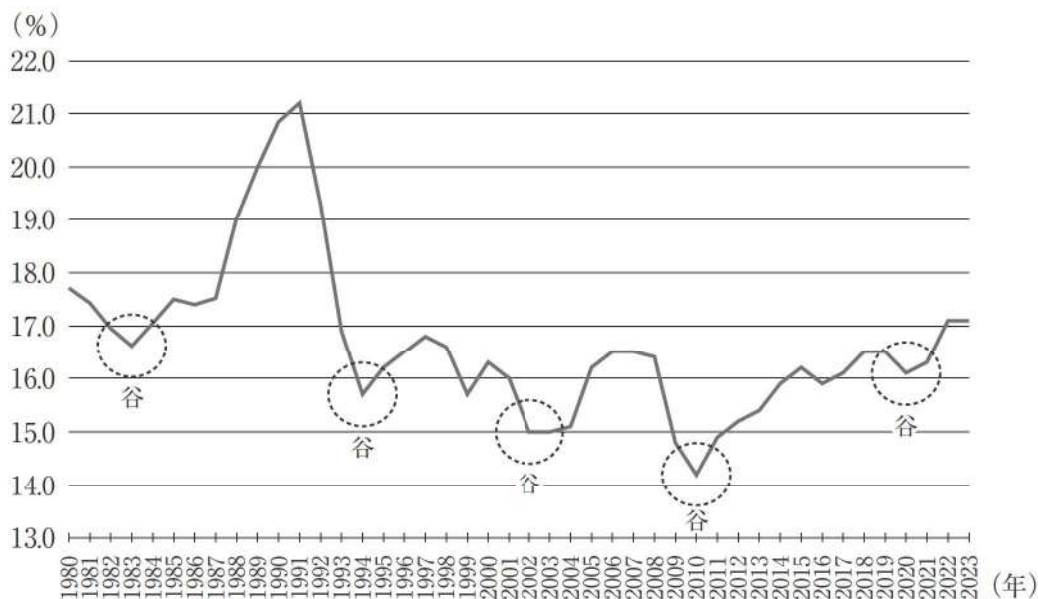


(出典) 経済産業省『令和3年経済センサス-活動調査』[企業等に関する集計-産業横断的集計-経理事項等]により作成。

- ① すべての企業の売上金額が等しい場合、企業規模別にみた売上金額の比率は、原点を通る45度の直線上に並ぶ。
- ② 石油・石炭製品製造業では、企業数割合が10%未満の相対的に大規模な企業が、全体の売上金額の90%以上を占めている。
- ③ 情報通信業では、企業数割合が80%未満の相対的に小規模な企業が、全体の売上金額のおよそ10%を占めている。
- ④ 医療・福祉業は、繊維工業に比べて規模の大きい企業の比率が高く、企業規模による売上金額の格差が大きい。

問6 文中の下線部 e に関連して、次の図は日本国内における設備投資の対GDP比率の推移を示したものである。点線の円で囲まれている箇所は、景気の谷に対応しているとみなすことができる。この図が示す景気循環の波として最も適切なものを、下記から一つ選び、マークしなさい。解答番号は 70

設備投資比率（設備投資／GDP）の推移



(出典) 内閣府『国民経済計算』(「年次推計、2015年(平成27年)基準、名目暦年」および「2015年(平成27年)基準支出側GDP系列簡易週及、名目暦年」)により作成

- ① キチンの波
- ② ジュグラーの波
- ③ クズネッツの波
- ④ コンドラチェフの波

問7 文中の下線部 f に関連する記述として最も適切なものを、下記から一つ選び、マークしなさい。解答番号は

- ① 社会主義国の特徴は、共産党などの社会主義政党を唯一の合法政党とする一党独裁体制のもとで、徹底した民主政治を行うための民主集中制という政治体制がとられることである。
- ② 社会主義経済では、政府が生産・分配などの経済活動全体を中央集権的に管理する計画経済体制がとられる。政府が膨大な情報に基づいて綿密な計画を策定することで、市場経済より効率的な体制が実現した。
- ③ ソビエト連邦では、ゴルバチョフ政権が政治的・経済的自由化を目指し、グラスノスチ（情報公開）とペレストロイカに着手したが、改革は失敗してソ連は崩壊した。
- ④ 中国では、鄧小平らにより改革開放政策が実施された。その後、市場での自由な経済活動を容認する社会主義市場経済の体制になり、めざましい経済成長をとげてきている。また、香港がイギリスから中国に返還されて以来、一国二制度の構想に基づいて、香港の民主的な自治は返還前のまま守られている。

問8 文中の下線部gに関連して、日本のバブル経済に関する記述として適切でないものを、下記から一つ選び、マークしなさい。解答番号は

- ① バブル経済発生の原因の一つは、日銀による低金利政策にある。この金融緩和は、プラザ合意に伴う円高不況への対策および日米貿易摩擦への対策として、内需拡大を目指すものであった。低金利のもとで企業の資金調達は増えたが、円高不況により需要が伸び悩んでいたため、余剰資金が株式や土地の購入にまわされ、株価や地価が上昇しはじめることになった。
- ② 株価や地価が急上昇するようになると、値上がりした株式や土地を担保に金融機関から資金を借り、さらに株式や土地への投機がおこなわれるという循環が続いた。株価や地価などの資産価格の上昇は、金利を高騰させることで消費を活発化させ、高級品が飛ぶように売れた。また、資産価格の上昇は、企業の資金調達も活発化させ、バブルに拍車をかけた。
- ③ 過熱した景気を抑制するため、金融引き締めおよび不動産取引への融資の規制がおこなわれた。これにより、株価や地価が暴落してバブル経済は崩壊した。金融機関の中には、回収困難な不良債権を大量に抱え、経営に行き詰まるところもあらわれた。その結果、金融機関はBIS規制を遵守するため、企業への通常の貸し出しを制限する「貸し渋り」という現象が起こった。
- ④ バブル経済が崩壊すると、日本経済は一転して平成不況と呼ばれる深刻な長期的不況へと突入し、「失われた10年」とも称された。バブル経済のもとで過剰な生産設備を抱え込んだ企業によるリストラがおこなわれ、完全失業率は戦後最悪の水準に達した。企業は収益が悪化したため賃金を抑制し、その結果实体经济において消費が減退することで物価が下落し、それがさらに企業の収益を悪化させるというデフレスパイラルに陥った。

問9 文中の下線部 h に対応する経済指標に国内総支出（GDE）がある。内閣府『国民経済計算』（年次推計、2015年基準、名目値）によると、2023年度における日本の国内総支出は595兆円、海外からの純所得は36兆円である。これに関連する記述として適切でないものを、下記から一つ選び、マークしなさい。解答番号は

- ① 2023年度の国内総生産（GDP）は595兆円である。
- ② 2023年度の国内総所得（GDI）は595兆円である。
- ③ 2023年度の国民総所得（GNI）は595兆円より小さい。
- ④ 国民総所得（GNI）から固定資本減耗を差し引くと国民純所得（NNI）となる。

問10 文中の下線部 i に関する記述として適切でないものを、下記から一つ選び、マークしなさい。解答番号は

- ① イギリスでは、サッチャー政権が規制緩和や公営企業の民営化などをおこなった。
- ② アメリカでは、レーガン政権が軍事費削減や大型増税をおこなった。
- ③ 日本では、中曽根政権が三公社（日本国有鉄道、日本電信電話公社、日本専売公社）の民営化をおこなった。
- ④ 日本では、小泉政権が郵政三事業の分割・民営化を進めた。

問11 文中の下線部 j に関する記述として最も適切なものを、下記から一つ選び、マークしなさい。解答番号は

- ① リーマン・ショック後に、金融商品の取引リスクをできるだけ軽減する手法として、デリバティブと呼ばれる金融派生商品が初めて開発された。
- ② 1980年代以降に進んだ金融自由化の流れを規制する動きが出てきているが、ヘッジファンドの多くは金融危機を回避する目的で、本拠地をタックス・ヘイブンに移動させた。
- ③ リーマン・ショックが発生した原因の一つは、富裕層を対象として貸し出されたサブプライムローンが大量に不良債権化したことにある。
- ④ ヘッジファンドによるアジア各国の通貨を対象とした投機によりアジア通貨危機が発生し、深刻な経済危機をもたらした。