

令和8年度入学試験問題

受験上の注意

1. 監督の指示により、解答用紙に受験番号（算用数字）、氏名、フリガナ、解答する科目を記入し、受験番号、該当する試験日、解答する科目をマークしてください。記入については解答用紙の注意事項に従ってください。
2. 問題冊子と解答用紙の解答番号を間違えないように注意してください。
3. 各科目のページは、次のとおりです。試験開始の合図があったら、まず受験する科目のページ数を確認してください。

科目	ページ
日本史	2～17
世界史	18～40
地理	44～64
公民	66～80

4. 試験時間中は、受験票を机上の受験番号の下に呈示しておいてください。
5. 質問、その他用件があるときは、手を挙げて合図してください。
6. 試験時間中の退室は認めません。
7. 試験時間は60分です。
8. この問題冊子は持ち帰ってください。

開始の合図があるまで開かないでください

地 理

〔 I 〕 図1（西側・東側）は2012年に発行された福井県^{おおい}大飯郡おおい町（旧大飯町）地域における2万5千分の1地形図（原寸、一部改変）を示したものである。図1を見て、問1～問10に答えなさい。解答番号は 1 ～ 10



（国土地理院発行2万5千分の1地形図「鋸崎」（2012年発行））
 至 おおい町役場 至 おおい町役場

図1 地形図（西側）

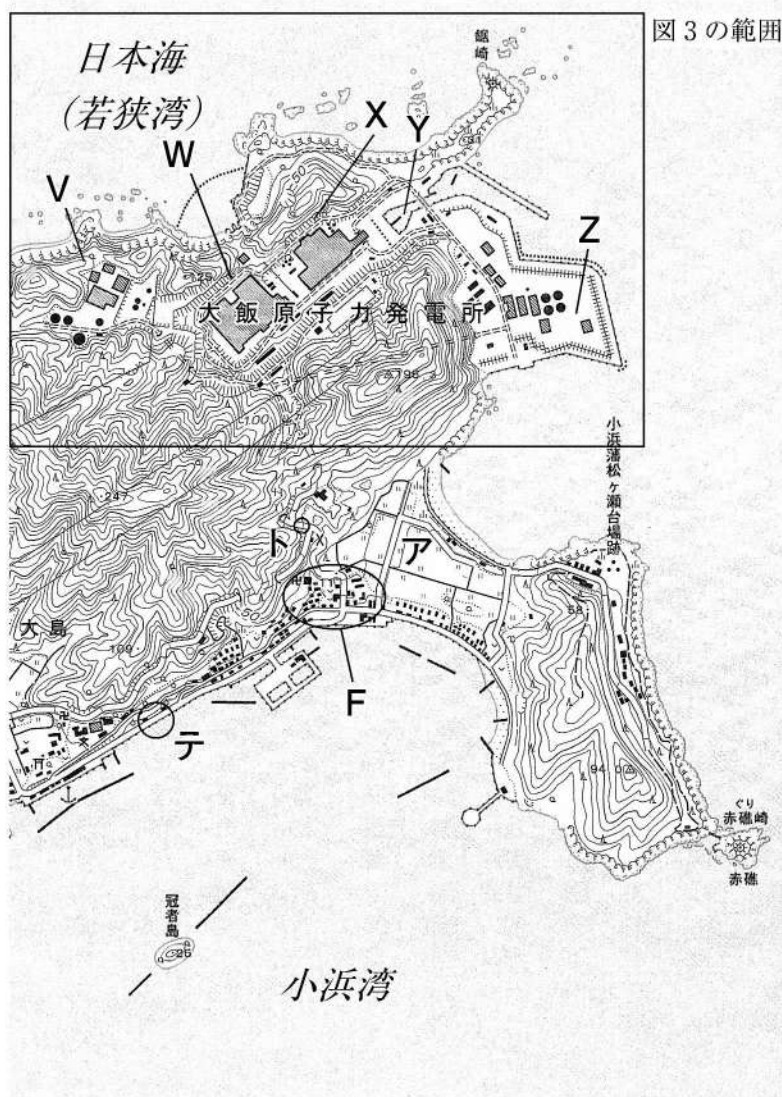


図1 地形図(東側)

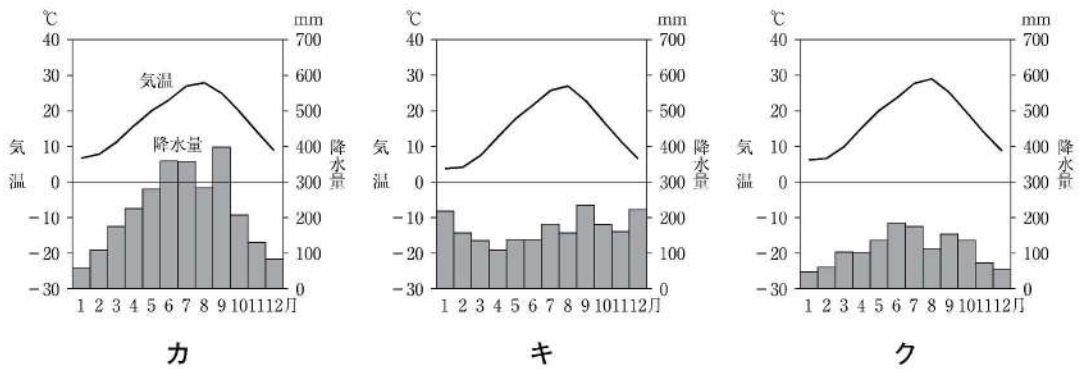
問1 図1の半島を含む周辺の地形の名称として、もっとも適切なものを①～⑤から1つ選び、マークしなさい。

- ① エスチュアリ (三角江) ② 堡礁 (バリアリーフ) ③ フィヨルド
④ リアス海岸 ⑤ カール (圏谷)

問2 図1のア周辺の地形の名称として、もっとも適切なものを①～⑤から1つ選び、マークしなさい。

- ① 河岸段丘 ② 三角州 (デルタ) ③ 扇状地
④ ドリーネ ⑤ 陸繋砂州 (トンボロ)

問3 図2のカ～クは、大阪（大阪府大阪市）、高知（高知県高知市）、小浜（福井県小浜市）に設置されている気象観測地点における雨温図をそれぞれ示したものである。小浜は図1の範囲の約10km東にある日本海側の都市である。地名と雨温図の組み合わせとして、正しいものを①～⑥から1つ選び、マークしなさい。 **3**



(「気象庁ホームページ」により作成)

図2

	大阪	高知	小浜
①	カ	キ	ク
②	カ	ク	キ
③	キ	カ	ク
④	キ	ク	カ
⑤	ク	カ	キ
⑥	ク	キ	カ

問4 図1（西側）の線Aに関する説明文として、誤っているものを①～④から1つ選び、マークしなさい。

- ① 線Aは、小浜湾へ流出する河川と、日本海（若狭湾）へ流出する河川の境界となっている。
- ② 線Aは、すべて尾根を通っている。
- ③ 線A上の最高地点は、200mより低い。
- ④ 線Aより北西側の海岸には、南東側の海岸に比べて海食崖が多い。

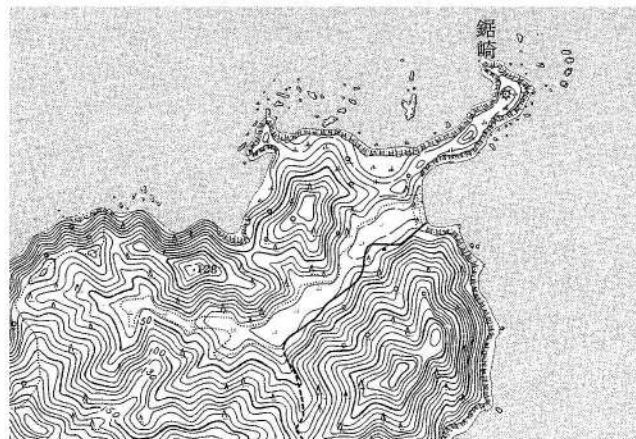
問5 図1の集落C～Fのうち、道路や街区の形状から読み取れる、もっとも新しい時代に形成されたものを①～④から1つ選び、マークしなさい。

- ① C ② D ③ E ④ F

問6 図1（西側）の農業用ため池J～Lに水が集まる範囲（流域面積）を、広い方から順に並べたものとして正しいものを①～⑥から1つ選び、マークしなさい。

- ① J→K→L ② J→L→K ③ K→J→L
④ K→L→J ⑤ L→K→J ⑥ L→J→K

問7 図3は「大飯原子力発電所」が建設される以前に発行された地形図（原寸）である。図1（東側）と図3を見て、「大飯原子力発電所」の各地点における土地条件として、誤っているものを①～⑤から1つ選び、マークしなさい。 7



(国土地理院発行2万5千分の1地形図「大飯」(1956●年発行))

図3

- ① V地点は、盛土をしたために標高が高くなった。
- ② W地点は、山地斜面を人工的に削り平野の面積を増やした。
- ③ X地点は、山地を切り崩して平坦地をつくった。
- ④ Y地点は、平野の一部を掘り下げて港湾施設をつくった。
- ⑤ Z地点は、埋立地である。

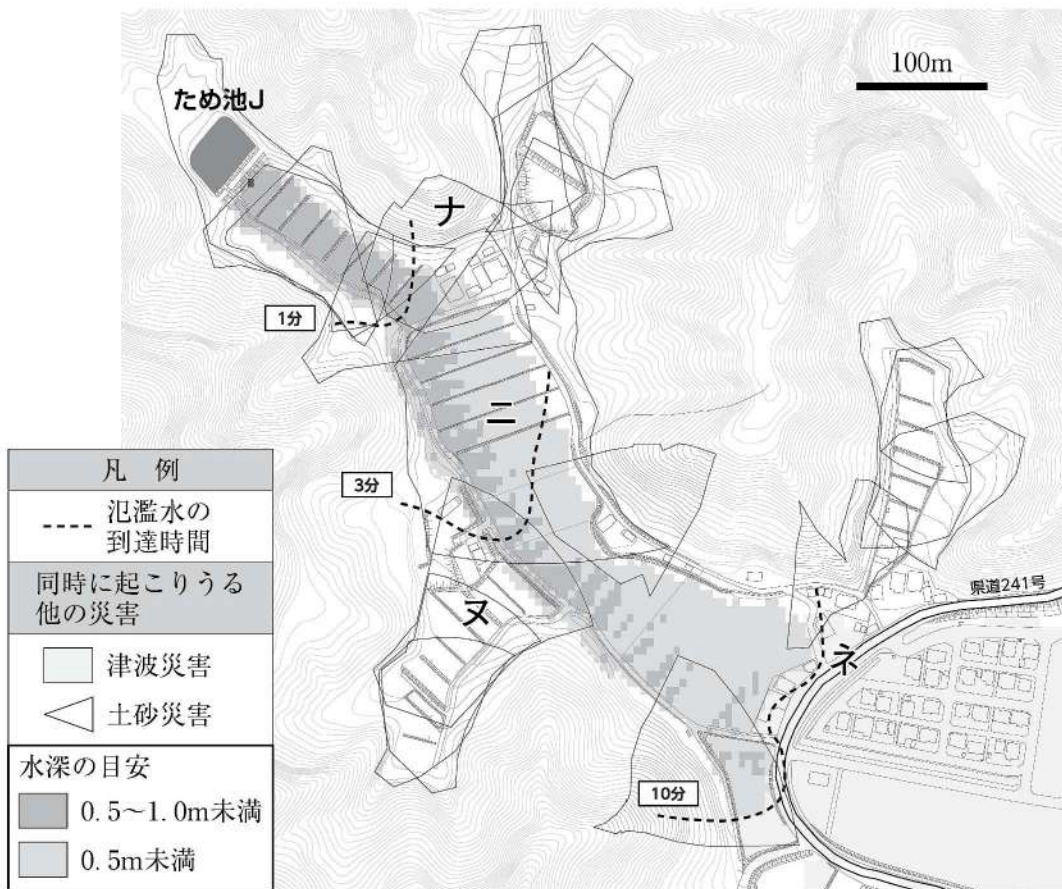
問8 図1に示された送電線や「大飯原子力発電所」に関する文として、もっとも適切なものを①～④から1つ選び、マークしなさい。 8

- ① 送電線は図1に示された集落へ電気を送ることを目的とするため、集落Cの近くに配置されている。
- ② 「大島」集落の北側にある山地を越えるのは難しいため、送電線はトンネル内を通されている。
- ③ 送電量の問題や故障に対する備えのため、複数の送電線が敷設されている。
- ④ 図1の送電線が交差しているところには、変電所がある。

問9 危機管理の観点から、大飯原子力発電所へ向かう道路が複数建設されている。図1に示されたタ～トのいずれかの地点において道路が不通になった場合に、代替道路がなくおおい町役場側から発電所へ到達できなくなるものを①～⑤から1つ選び、マークしなさい。 9

- ① タ ② チ ③ ツ ④ テ ⑤ ト

問10 図1のため池Jが大雨や地震にともなって決壊した場合の洪水流の予想到達時間と浸水深の範囲を次の図4に示す。図4を見て、このため池Jによる洪水災害に関する文として、誤っているものを、①～④から1つ選び、マークしなさい。 **10**



(「おおい町ホームページ」により作成)

図4 ため池決壊ハザードマップ

- ① 集落ナには氾濫による浸水の可能性のある家屋がある。
- ② 地点二のある谷の浸水深は、西側の方が深い。
- ③ 地点ヌで起こりうる土砂災害は、崖崩れよりも土石流の可能性が高い。
- ④ 地点ネへ到達する氾濫水の平均流速は、10m/sよりも速い。

〔Ⅱ〕 生活文化、民族・宗教に関して、以下の問1～問7に答えなさい。解答番号は ～

問1 衣服の原材料に関するAとBの問に答えなさい。

A. 次の表は、繊維の原料となる絹（生糸）、綿花、羊毛（以上、2020年）、サイザル麻、ジュート（以上、2021年）の国別生産量の上位3か国を表したものである。綿花に当てはまるものを①～⑤から1つ選び、マークしなさい。

表

	①	②	③	④	⑤
1位	中国	インド	インド	ブラジル	中国
2位	オーストラリア	中国	バングラデシュ	タンザニア	インド
3位	ニュージーランド	アメリカ合衆国	ウズベキスタン	ケニア	ウズベキスタン

(『データブック オブ・ザ・ワールド 2024年版』と『世界国勢図会 2023/24』により作成)

B. 次の文は、絹織物、毛織物、動物の皮革、綿織物の説明である。綿織物の説明として、適切なものを①～④から1つ選び、マークしなさい。

- ① 保温性・吸湿性に優れ、主にヨーロッパ地方で使用され、トルコや中国を主要生産国とする。
- ② 中国東部から西ヨーロッパに伝わった、肌触りの良い高級な天然繊維である。
- ③ 通気性・吸湿性がよく、第二次世界大戦まではイギリス・日本が主要な生産国であった。
- ④ 寒冷地域・乾燥地域での防寒に適している。

問2 次の文は、あわ、じゃがいも、小麦、米、とうもろこしについて説明したものである。小麦ととうもろこしの説明として、適切なものを①～⑤からそれぞれ1つずつ選び、マークしなさい。小麦は 、とうもろこしは

- ① インドのアッサム地方から中国のユンナンを結ぶ地方を原産地とし、モンソーンアジア地域における主食である。
- ② 中央・南アメリカを原産地とし、アンデス地方、アジア、アフリカと広範囲の地域で食される。
- ③ 南アメリカを起源とし、16世紀にヨーロッパに持ち込まれ、現在ではドイツでも主食のひとつとなっている。
- ④ ステップ気候の地域を起源とし、北アフリカで食されるクスクスの原料にもなっている。
- ⑤ アジアを原産地とし、排水良好な土地での栽培に適しており、インドの生産量は世界第1位である。

問3 シリアル食品を購入して包装袋に書かれた説明を読んだところ、以下のように記載されていた。空欄カと空欄キに入る国を、①～⑧からそれぞれ1つずつ選び、マークしなさい。なお、空欄カには2021年において大麦とてんさいの生産量世界第1位の、空欄キには大麦の生産量世界第2位の国（非ヨーロッパ）が入る。カは 、キは

名称：朝食シリアル

原材料名：大麦（または）、てんさい（）、乾燥果実、ココナッツパウダー、コーンフラワー、ビタミンA

内容量：380g

賞味期限：2026年3月31日

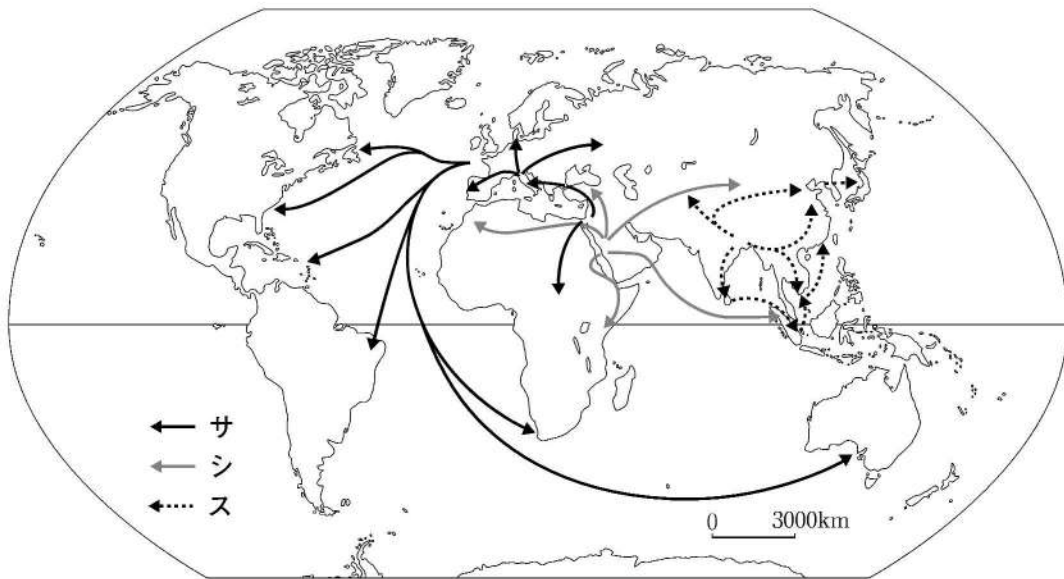
保存方法：直射日光のあたる所、高温多湿の所での保存は避けてください。

- ① アメリカ合衆国 ② インド ③ オーストラリア ④ 中国
⑤ トルコ ⑥ フィンランド ⑦ ブラジル ⑧ ロシア

問4 世界の言語に関する次の①～⑤の文のうち、下線部が誤っているものを1つ選び、マークしなさい。

- ① 2つ以上の異なる言語が混ざり合って形成された言語を混成語（クレオール）という。
② スイスの公用語はイタリア語・ドイツ語・フランス語・ロマンシュ語である。
③ 世界の言語の中で、話者がもっとも多いのはスペイン語である。
④ マダガスカル語とインドネシア語は、ともにオーストロネシア語族である。
⑤ ムスリムの多い地域では、アラビア語が浸透している。

問5 図1のサ～スはキリスト教、イスラーム、仏教の伝播経路の一部を示したものである。サ～スと宗教の組み合わせとして、もっとも適切なものを①～⑥から1つ選び、マークしなさい。 18



(『ビジュアルマップ大図鑑世界史』により作成)

図1

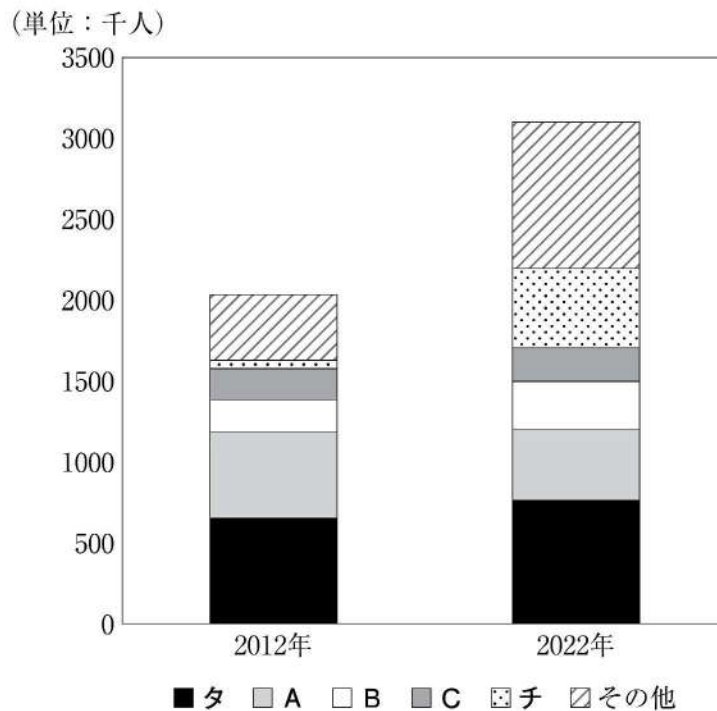
	キリスト教	イスラーム	仏教
①	サ	シ	ス
②	サ	ス	シ
③	シ	サ	ス
④	シ	ス	サ
⑤	ス	サ	シ
⑥	ス	シ	サ

問6 宗教に関する以下の語句のうち、イスラームと関係の深い語句の数を①～⑩から1つ選び、マークしなさい。 19

アニミズム	民族宗教	カースト制
ガネーシャ	コーラン	シナゴーク
ハラールフード	盆踊り	ラマダーン

- ① 1つ ② 2つ ③ 3つ ④ 4つ ⑤ 5つ
⑥ 6つ ⑦ 7つ ⑧ 8つ ⑨ 9つ ⑩ なし

問7 移動手段の発達は一際人口移動を活発にし、外国籍を有する住民の出身地の多様化をもたらした。図2は2012年と2022年の日本における在留外国人の出身国を示したものである。タとチに当てはまる国として、もっとも適切なものを①～⑨からそれぞれ1つずつ選び、マークしなさい。タは 、チは



(『データブック オブ・ザ・ワールド 2014年版、2024年版』により作成)

図2

- ① アメリカ合衆国 ② インド ③ インドネシア ④ 韓国・朝鮮
- ⑤ タイ ⑥ 中国 ⑦ フィリピン ⑧ ブラジル
- ⑨ ベトナム

〔Ⅲ〕 中国とその周辺地域、南アフリカ共和国とその周辺地域に関して、以下の問
1～問6に答えなさい。解答番号は ～

問1 図1の中国とその周辺地域、南アフリカ共和国とその周辺地域の位置、自然環境
について、以下のA～Cの間に答えなさい。ただし、地図の縮尺はそれぞれ異なる。

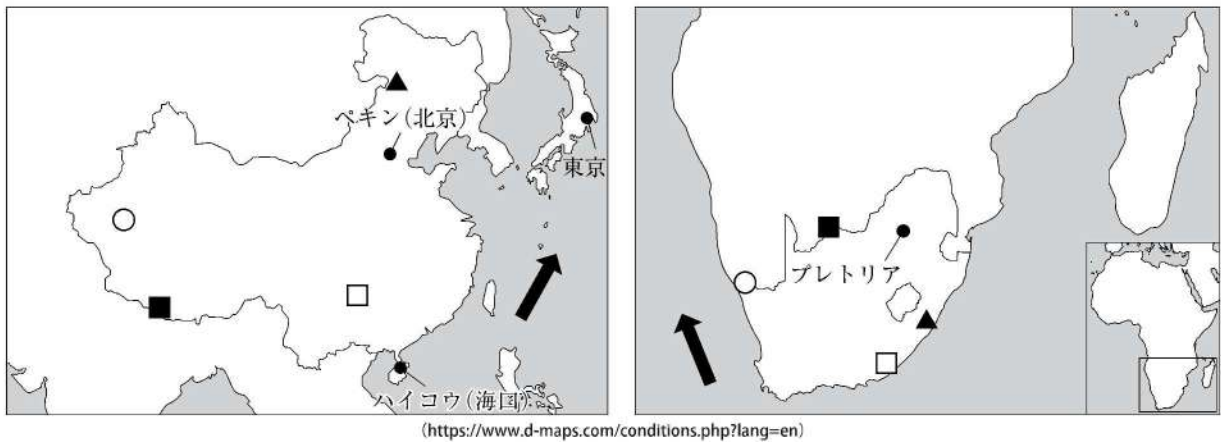


図1

A. 中国と南アフリカ共和国のそれぞれの位置に関するア～ウの文について、下線部の正誤の組み合わせとして、もっとも適切なものを①～⑧から1つ選び、マークしなさい。

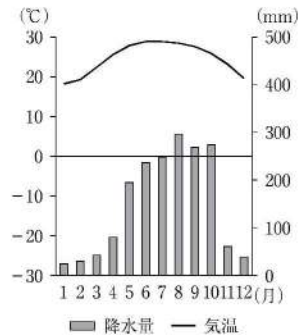
- ア 中国には、北緯40度線が通っている。
- イ 南アフリカ共和国には、本初子午線が通っている。
- ウ 中国と南アフリカ共和国には、回帰線が通っている。

	①	②	③	④	⑤	⑥	⑦	⑧
ア	正	正	正	正	誤	誤	誤	誤
イ	正	正	誤	誤	誤	誤	正	正
ウ	正	誤	正	誤	誤	正	誤	正

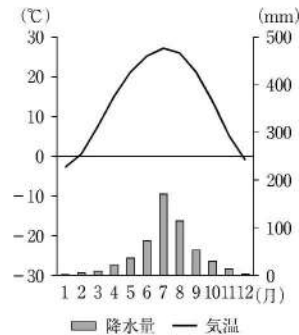
B. 図1の中国と南アフリカ共和国の自然環境に関する①～⑤の文について、適切でないものを1つ選び、マークしなさい。 **23**

- ① 2つの地図の ■ 地点は、プレートの境界となっている。
- ② 2つの地図の ▲ 地点では、古期造山帯の山脈がそびえている。
- ③ 2つの地図の ➡ 地点では、矢印方向に海流が流れている。
- ④ 2つの地図の □ 地点の年間降水量は500mm以上である。
- ⑤ 2つの地図の ○ 地点の年間降水量は500mm未満である。

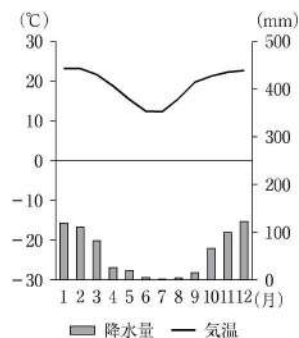
C. 次の①～④は、東京、ペキン（北京）、ハイコウ（海口）、プレトリアの4都市のいずれかの雨温図である。ペキン（北京）に当てはまるものを、①～④から1つ選び、マークしなさい。 **24**



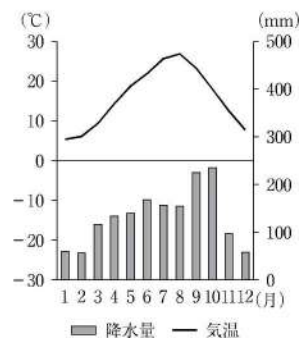
①



②



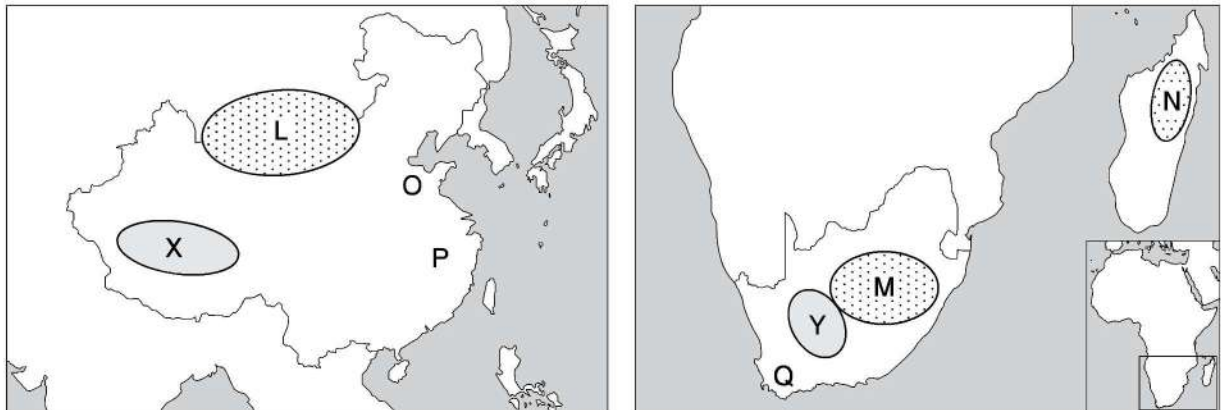
③



④

(「気象庁ホームページ」により作成)

問2 図2の中国とその周辺地域、南アフリカ共和国とその周辺地域の食文化と農牧業について、以下のA～Cの間に答えなさい。ただし、地図の縮尺はそれぞれ異なる。



(<https://www.d-maps.com/conditions.php?lang=en>)

図2

A. 図2のL～N地域における伝統的な主食について、もっとも適切な組み合わせを①～⑥から1つ選び、マークしなさい。 **25**

	①	②	③	④	⑤	⑥
L	米	米	とうもろこし	とうもろこし	肉と乳	肉と乳
M	とうもろこし	肉と乳	米	肉と乳	米	とうもろこし
N	肉と乳	とうもろこし	肉と乳	米	とうもろこし	米

B. 図2の地点O～Qで広く栽培されている農作物について、もっとも適切な組み合わせを①～⑥から1つ選び、マークしなさい。 **26**

	①	②	③	④	⑤	⑥
O	茶	茶	ぶどう	ぶどう	綿花	綿花
P	ぶどう	綿花	茶	綿花	茶	ぶどう
Q	綿花	ぶどう	綿花	茶	ぶどう	茶

C. 図2のXとY地域で広く行われている牧畜業の特徴について、もっとも適切な組み合わせを①～⑥から1つ選び、マークしなさい。 **27**

	①	②	③	④	⑤	⑥
X	企業的牧畜	企業的牧畜	遊牧	遊牧	酪農	酪農
Y	遊牧	酪農	企業的牧畜	酪農	企業的牧畜	遊牧

問3 中国と南アフリカ共和国のそれぞれの民族と宗教について、以下のAとBの間に答えなさい。

A. 中国の民族と宗教に関するカ～クの文に関する下線部の正誤の組み合わせとして、もっとも適切なものを①～⑧から1つ選び、マークしなさい。 **28**

カ 多民族からなる中国では、漢民族がもっとも多い。

キ 中国の自治区の中には、ムスリム（イスラム教徒）が多い自治区がある。

ク 中国以外の国で生まれ、その国の国籍を取得した中国系の人びとを華人という。

	①	②	③	④	⑤	⑥	⑦	⑧
カ	正	正	正	正	誤	誤	誤	誤
キ	正	正	誤	誤	誤	誤	正	正
ク	正	誤	正	誤	誤	正	誤	正

B. 南アフリカ共和国の民族と宗教に関するサ～スの文について、下線部の正誤の組み合わせとして、もっとも適切なものを①～⑧から1つ選び、マークしなさい。

29

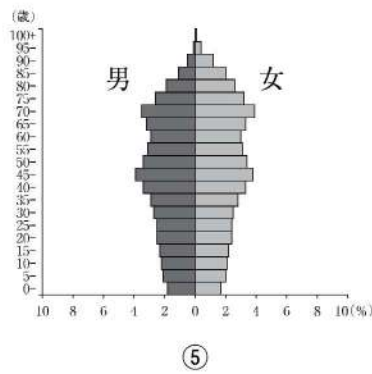
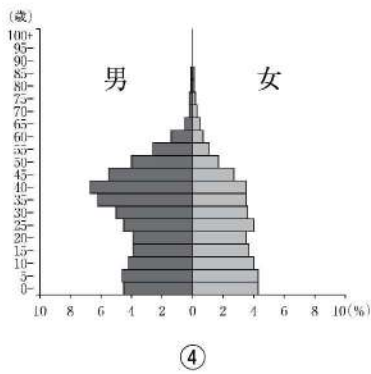
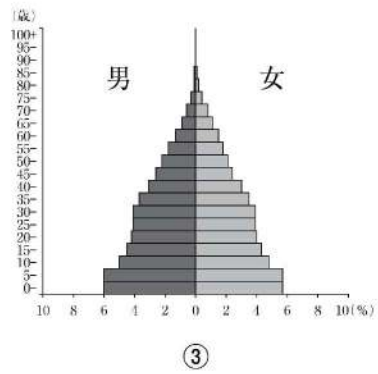
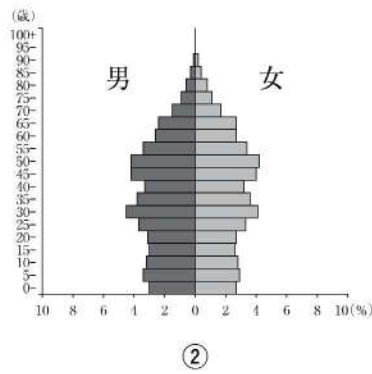
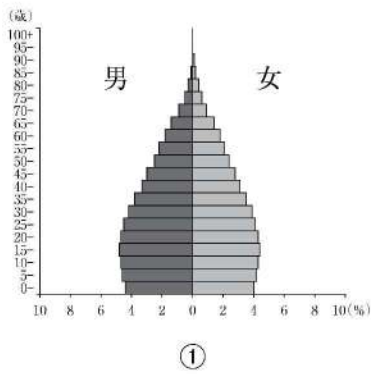
サ キリスト教徒がもっとも多い。

シ かつて多文化主義政策がとられていた。

ス ヨーロッパ系の人口がもっとも多い。

	①	②	③	④	⑤	⑥	⑦	⑧
サ	正	正	正	正	誤	誤	誤	誤
シ	正	正	誤	誤	誤	誤	正	正
ス	正	誤	正	誤	誤	正	誤	正

問4 次の①～⑤は、2020年におけるインド、エジプト、サウジアラビア、中国、日本の人口ピラミッドである。中国に当てはまるものを①～⑤から1つ選び、マークしなさい。 30



(国連「World Population Prospects」データに基づく)

問5 近年、中国、南アフリカ共和国のほかに、ブラジル、ロシア、インドの工業化が注目されている。次の表の①～⑤は、インド、中国*、ブラジル、南アフリカ共和国、ロシアの上位5位の輸出品目とその輸出額の割合（2022年）を示したものである。中国に当てはまるものを①～⑤から1つ選び、マークしなさい。 **31**

表

(単位：%)

	①	②	③	④	⑤
1位	石油製品 20.9	大豆 14.0	白金（プラチナ） 13.7	機械類 41.0	原油 22.5
2位	機械類 12.3	原油 12.8	石炭 11.0	衣類 5.1	石油製品 14.2
3位	ダイヤモンド 5.3	鉄鉱石 8.6	自動車 9.1	自動車 4.5	天然ガス 11.3
4位	化学薬品 5.1	肉類 7.6	機械類 7.0	金属製品 4.4	鉄鋼 6.0
5位	医薬品 4.8	鉄鋼 5.2	卑金属鉱** 5.9	繊維と織物 4.1	石炭 3.6

* ホンコン（香港）、マカオ（澳門）、台湾を除く。

** 卑金属鉱とは、鉄や銅、鉛、アルミニウムなどの酸化しやすい金属のこと。

(『データブック オブ・ザ・ワールド 2024年版』により作成)

問6 近年の中国の貿易と海外進出に関するタ～ツの文について、下線部の正誤の組み合わせとして、もっとも適切なものを①～⑧から1つ選び、マークしなさい。 **32**

タ 中国は、アジアやアフリカの貿易相手国に対し、インフラ整備のための投資や援助を行っている。

チ 中国は、輸出相手国のアメリカ合衆国との間で貿易摩擦が生じている。

ツ 中国の電気機器メーカーがアジアやアフリカの国々に進出し、現地市場向けに生産を行っている。

	①	②	③	④	⑤	⑥	⑦	⑧
タ	正	正	正	正	誤	誤	誤	誤
チ	正	正	誤	誤	誤	誤	正	正
ツ	正	誤	正	誤	誤	正	誤	正